

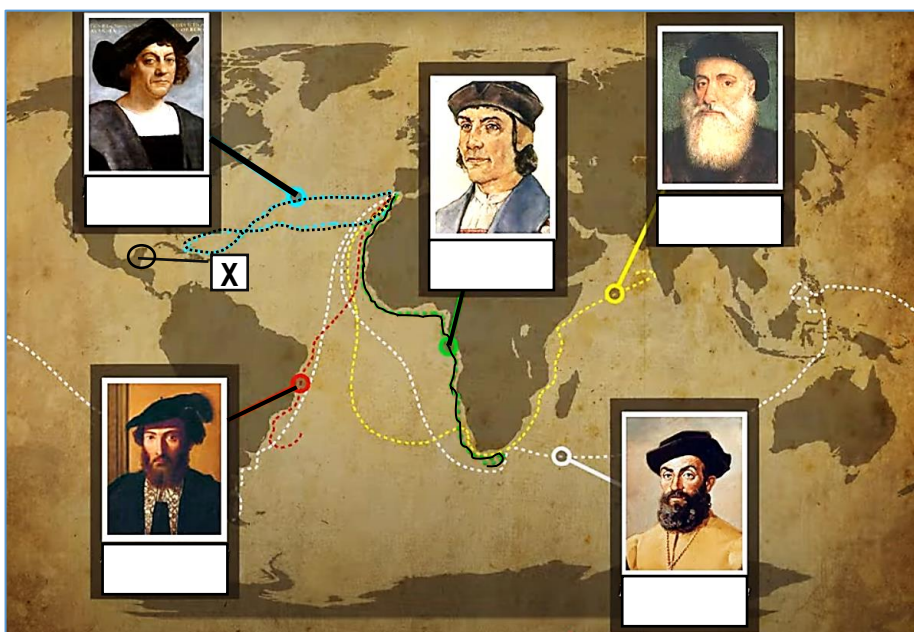
Neved: Felkészítő tanárod neve:

Iskolád neve :

Elért pontszámod: /108

1/A. Írd az alábbi felfedezőket a térkép megfelelő képeivel!

- A) Ferdinánd Magellán
- B) Vasco da Gama
- C) Francisco Pizarro
- D) Amerigo Vespucci
- E) Kolumbusz Kristóf
- F) Bartolomeo Diaz


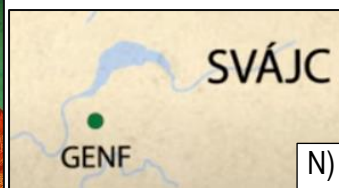

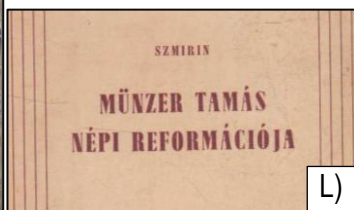


1/B. Melyik indián civilizáció helyét jelöltük a térképen „X” betűvel? Karikázd be a megfelelőt!

aztékok – inkák – maják

2. Illeszd a leírásokat és a képeket a megfelelő vallási (egyházi) irányzatokhoz, mozgalmakhoz! Írd a betűjeleket a táblázat megfelelő részébe! Minden cellába 3-3 betűjel kerüljön! Egy betűjel csak egy helyen szerepelhet!

- A) Luther Márton B) London C) predesztináció D) jezsuita rend E) tridenti zsinat F) a király az egyház feje
- G) német parasztháború 1524-25 H) Wartburg vára I) Kálvin János J) felnőtt korban döntsünk szabadon vallásunkról



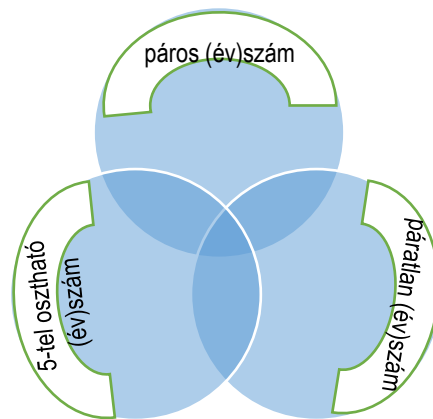
evangélikus	református	katolikus (megújulás)	anabaptista	anglikán

3. Az alábbi felsorolások soronként balról jobbra időrendben és azonos téma szerint haladnak. Írd be a hiányzó adatokat úgy, hogy azok megfeleljenek az időrendnek és az őket összetartó történelmi témának is!

- a) Bécs török ostroma ➔ Buda keresztény ostroma ➔ nagyharsányi csata ➔
- b) I. Lipót ➔ ➔ III. Károly ➔ Mária Terézia
- c) trafalgári csata ➔ austerlitz csata ➔ borogyinói csata ➔ ➔ waterlooi csata
- d) 15 éves háborút lezáró (Habsburg-Oszmán) béke ➔ vasvári (Habsburg-Oszmán) béke ➔

4. Vizsgáld meg az alábbi történelmi események évszámait, majd írd be betűjelüket a matematikai ábra megfelelő részébe! Helyes megoldás esetén 4 részbe fog 2-2 betűjel kerülni.

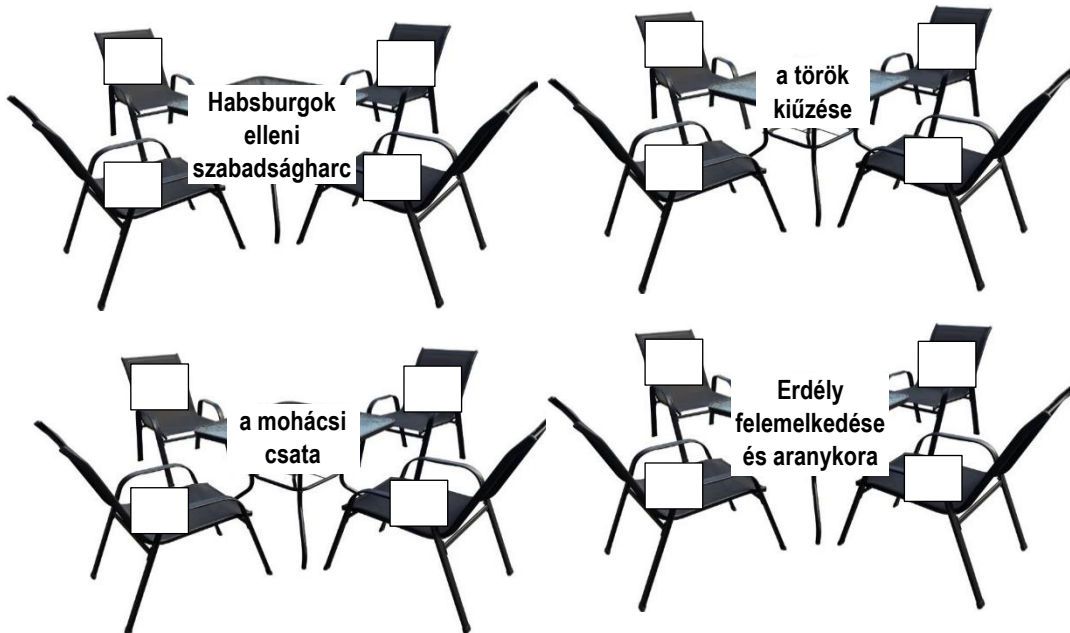
- a) Szécsényi országgyűlés a Rákóczi-szabadságharc idején.
- b) Váradi szerződés Szapolyai János és I. Ferdinánd között.
- c) Waterlooi csata.
- d) Mária Terézia halála.
- e) Mária Terézia úrbéri rendelete.
- f) Amerikai függetlenségi nyilatkozat.
- g) Károli Gáspár magyarra fordítja a Bibliát.
- h) Nándorfehérvárt elfoglalja a török.



- a1
- b1
- c1
- d1
- e1
- f1
- g1
- h1
-/8

5. Kiket tudnánk egy asztalhoz leültetni, ha a valóságban is találkoztak vagy találkozhattak volna, és az asztalra írt téma érdekelte volna őket? Írd a székekre helyezett téglalapokba az egy asztalhoz tartozó személyek betűjelét! Egy széken csak egy személy ülhet, egy személy csak egy asztalnál ülhet!

- A) I. Rákóczi György
- B) Losonczy István
- C) Bercsényi Miklós
- D) Savoyai Jenő
- E) Brandenburgi Katalin
- F) I. Lipót
- G) Lotharingiai Károly
- H) Brodarics István
- I) Bocskai István
- J) Szapolyai György
- K) Esze Tamás
- L) XI. Ince pápa
- M) Tomori Pál
- N) Bethlen Gábor
- O) II. Lajos
- P) Bottyán János
- R) II. Rákóczi Ferenc



- a3
- b3
- c3
- d3
-/12

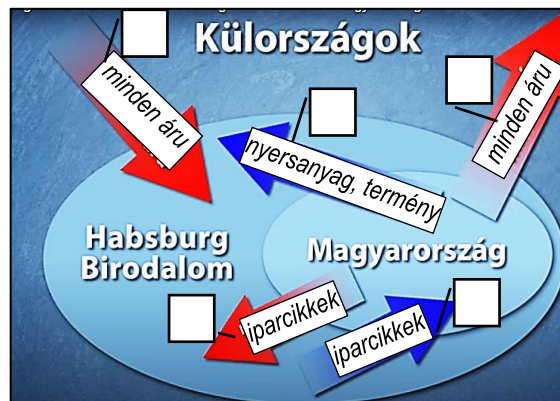
6. Az ábra egy a 18. században hozott vámrendelet lényegét mutatja. Oldd meg az ábrával kapcsolatos feladatot, válaszold meg a kérdéseket!

6/A Írj az ábrán látható nyilakra „+” jelet, ha magas vámot, „-” jelet, ha alacsonyat kellett fizetni!

6/B. Nevezd meg melyik uralkodónk rendelkezett így !
.....

6/C. Dönts az alábbi állításról!

Igaz-e, hogy hazánk gazdasága a 18. században elsősorban iparilag volt fejlett?



- a1
- b1
- c1
- d1
- e1
- g1
-/7

7. Keress összefüggést a képek között! Egészítsd ki történelmi összefüggés alapján a hiányos mondatokat! Figyelj arra, hogy a mondatban mindegyik képről legyen megfelelő információ!

a1
b1
c1
d1
.../4

a) Azért vancsillag a zászlóban, mert


.....

.....


.....



b)rendszeresen háborúzott a Habsburgokkal, így mikor felkelést indított ellenük, számíthatott anyagi támogatására.



c) A képek alapján egy folyamatot láthatunk, hiszen.....gépéttökéletesítette, majd egy ilyen gépet épített be..... 1807-ben hajójába.



d) Azért nem látható hazánk minden területén a nevű király által létrehozott kerület, mert.....

.....

.....

.....



Külön igazgatású területek a 18. században

Kerületi beosztás a 18. század végén

8. Karikázd a helyes, húzd át a helytelen kapcsolatok betűjelét!

a1
b1
c1
d1
e1
f1
g1
h1
.../8

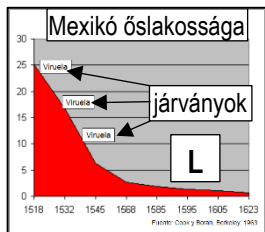

- a) magyarok, horvátok, szlovákok – teljes társadalmi tagozódással rendelkező népcsoportok a 18. századi Magyarországon.
- b) Kopernikusz – A bolygók elliptikus pályamozgásának leírása
- c) II. Rudolf – Prága, Tycho Brahe
- d) racionalizmus – René Descartes („Gondolkodom, tehát vagyok.”)
- e) Morus Tamás, Campanella – empirizmus
- f) Rodostó - Mikes Kelemen
- g) D^l Alambert, Diderot – Nagy Francia Enciklopédia
- h) Mária Terézia – Kaunitz, G. van Swieten, A. von Raab

9. Melyik a helyes fogalommagyarázat? Tegyd a megfelelő cella négyzetébe „X”- betűt! Egy sorban csak egy helyen szerepelhet az „X” betű!


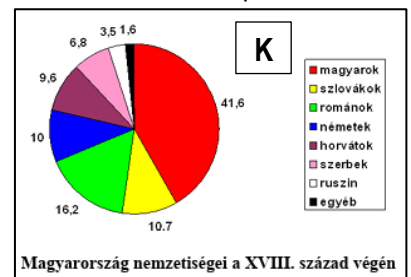
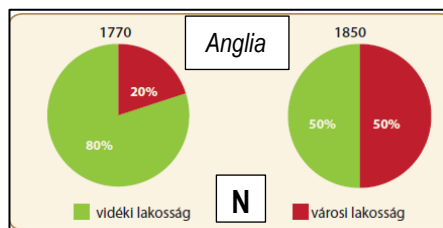
fogalom	a fogalom magyarázata	a fogalom magyarázata	a fogalom magyarázata
rekonvizsita sikere	Az arabok kiűzése a spanyol, portugál területekről a 15. század végére. <input type="checkbox"/>	Az őslakos indiánok legyőzése az Újvilágban. <input type="checkbox"/>	A katolikus egyház megtisztítása az eretnekektől. <input type="checkbox"/>
konkvisztádor	Olyan egyházi személy, aki egy adott területen az inkvizíciót vezeti. <input type="checkbox"/>	Azok a kalandorok, akik az Újvilágban szereztek többnyire erőszakkal területeket és vagyont. <input type="checkbox"/>	Olyan felfedezők és hódítók, akik Afrika partjain lévő területeket szereztek meg a 16. században. <input type="checkbox"/>
felvilágosodás	Az érzelem felülkerekedése az értelen. <input type="checkbox"/>	Az értelenen alapuló, bizonyítékokat felmutató gondolkodás. <input type="checkbox"/>	A középkori elveket megújító egyházi mozgalom. <input type="checkbox"/>
direktórium	Kormányzótestület, mely hazánkat irányította a 18. században Pozsonyból. <input type="checkbox"/>	Irányítótestület Franciaországban a 18. század végén. <input type="checkbox"/>	Katonai szervezet, mely hazánkban a Katonai határőrvidéket irányította. <input type="checkbox"/>
alkotmány	Franciaországban bevezetett polgári törvénykönyv elnevezése. <input type="checkbox"/>	Egyházaknál az alapvető hittételek gyűjteménye. <input type="checkbox"/>	Egy ország működését leíró jogszabály vagy jogszabálygyűjtemény. <input type="checkbox"/>
tőzsde	A bankoknak kölcsönadó állami szervezet. <input type="checkbox"/>	Áruk eladására, közvetítésre szolgáló szervezet. <input type="checkbox"/>	A manufaktúrákat összefogó és igazgató szervezet. <input type="checkbox"/>

10. Keresz az alábbi történelmi eseményekhez okot (vagy feltételt, előzményt) és következményt (vagy eredményt)! Írd a szöveges vagy képes felsorolásból a megfelelő betűjelet a táblázat megfelelő cellájába! Egy betűjel csak egy helyre kerülhet, egy cellába csak egy betűjel kerülhet!

- A) Szilézia Poroszországhé marad B) protestánsok szabad vallásgyakorlata C) főúri összeesküvés I. Lipót ellen
 D) magas adók képviselet nélkül E) felségárulási perek F) szentgotthárdi csata
 G) nemzeti ünnep júl.4. H) II. Frigyes nem fogadja el Mária Terézia trónra kerülését




- szabad bérlők
- bérmunka
- tőkés manufaktúra



történelmi esemény	oka vagy előzménye vagy feltétele (betűjel)	következménye, eredménye (betűjel)
nagy földrajzi felfedezések		
I. ipari forradalom		
bostoni „teadélután”		
hétéves háború		
demográfiai változások hazánkban a 18. században		
Bocskai- felkelés		
vasvári béke		

11. Oldd meg a térképekhez kapcsolódó feladatokat!
11/A. Töltsd ki a keresztrejtvényt! Segítenek a térképek!

függőleges 1	híres hadvezér száműzetésének helye
függőleges 2	egy 17. század végén élő lengyel király keresztnéve
függőleges 3	szabadságharcosok végső győzelmének helye
vízszintes 4	hajdúszabadságot ígérő országgyűlés helye
vízszintes 5	Károlyi Sándor kurucok fölötti győzelmének helyszíne

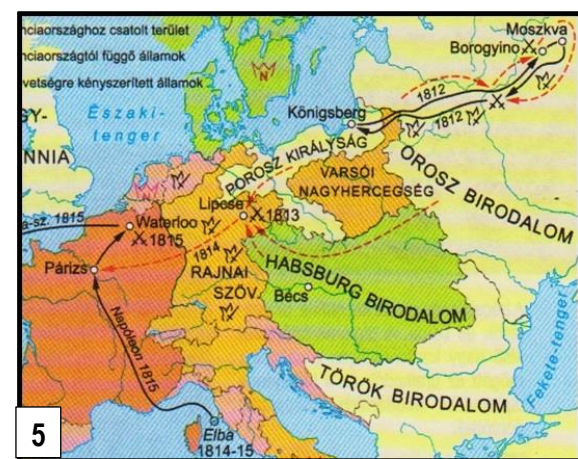
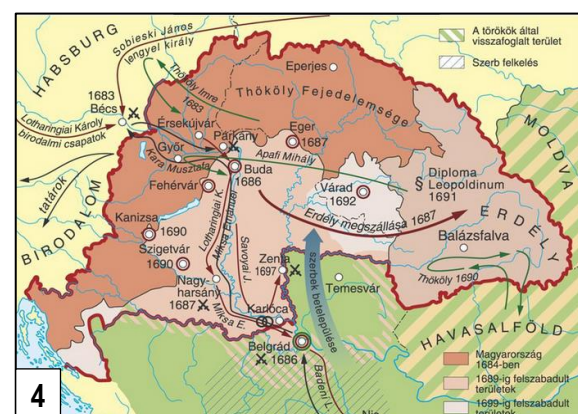
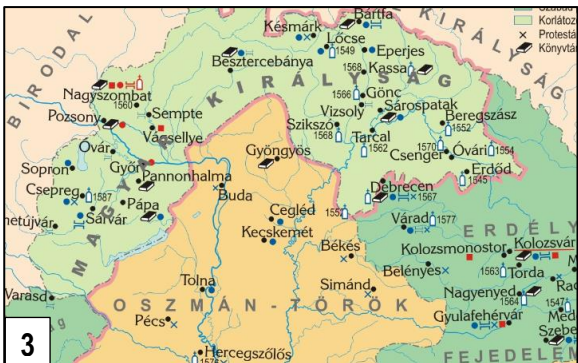
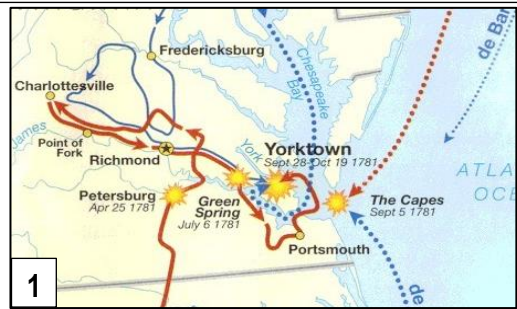


11/B. Írd a táblázatba a megfelelő térkép számjelét! Egy cellába csak egy térképnek a száma írható!

<i>annak az országgyűlésnek a helyszíne látható itt, mely vallásbékét hozott egy sokszínű országban</i>	
<i>egy zárlat megsértése bosszújának kudarca látható</i>	
<i>a polgárháború speciális formájához kapcsolható, ahol a belháború messze földön van, és belföld majd külföld lesz egy háborúktól meggyötört ország próbálkozása látható függetlenségének elérése céljából, mely részben belháborúvá alakult</i>	
<i>az Isteni igazságra vezérlő kalauz írója ilyen térképet láthatott volna</i>	
<i>öröm és sérelem egyszerre, melynek következménye is látható egy másik térképen</i>	

11/C. Igazak vagy hamisak a térképekhez kapcsolódó állítások? Írj megfelelő kezdőbetűt (I / H)!

- l) Van olyan térkép, melyen látszik az I. ipari forradalom vezető országa.
- m) Van olyan térkép, melyen szerepel az a város, ahol Bethlen Gábert magyar királlyá választották.
- n) Van olyan térkép, melyen a tordesillas-i szerződés lényege látható.
- o) Nincs olyan térkép, mely kapcsolható lenne a Pragmatica Sanctiohoz.
- p) Van olyan térkép, mely a 16. századi híres várháborúk helyét és idejét mutatja meg.



a1
b1
c1
d1
e1
.../5

f1
g1
h1
i1
j1
k1
.../6

l1
m1
n1
o1
p1
.../5

12. Mindegyik diáknál két információ tévesen szerepel saját történelmét illetően. Rakj rendet a diákok fejében! Karikázd mindenhol a két helyes információ számjegyét, és írd még két helyeset a négyzetekbe egy másik diák leírásából! Helyes megoldásként lesz két bekarikázott számjegy és két beírt számjegy egy-egy diáknál!



1) Egykor a világ urai voltunk, ez abból is látható, hogy sok helyen még mindig a mi nyelvünket beszéljük. 2) Divatdiktálók voltunk, és ma is így van ez. Hozzánk köthető a páróka, a parfüm is. 3) Kitartásunknak volt köszönhető, hogy legyőztük Napóleont. 4) Sok hajóst mi küldünk a világ megismerésére az újkor elején.



5) A leghíresebb pénzünkön egy olyan hadvezérünk látható, aki elnök is lett. 6) Mi voltunk a legjobbak a textiliparban a 18. században. 7) Nekünk köszönheti a világ Isaac Newton zsenialitását. 8) Nekünk köszönhető, hogy ehettek a paprikáskrumplit és sült tököt.



9) A 17. század végére sajnos visszaesett gazdagságunk és befolyásunk, mert a sok behozott aranyat és ezüstöt elpazaroltuk, ahelyett, hogy manufaktúrák létesítésébe fektettük volna. 10) A világ a mi barokk kastélyunkról vette a mintát, mindenki minket akart utánozni. 11) Jelszavunk: szabadság, egyenlőség, testvériség! 12) Leghíresebb hajónk a Mayflower.



13) A mienk volt a világ első modern köztársasága 14) Népszerűek voltunk a puritánok és az anglikánok körében, de aztán jöttek hozzánk mindenhonnan. 15) Híres filozófusunk volt J. Locke és T. Hobbes is. 16) Nekünk köszönhetitek a népfelség elvét, de még a szalagrózsát is.

13/A. Az alábbi szöveg a Zanza tv egyik része alapján készült. Egészítsd ki a hiányos szöveget úgy, hogy a történelmi szempontoknak megfeleljen! Ügyelj a toldalékolásra is!

Első döntése mégis meglepetést okozott, ugyanis nem meg magát. Az ok az ő szemében egyszerű volt: ne akadályozza semmilyen eskü abban, hogy felgyorsítsa a reformokat. Energikusan, türelmetlenül vetette magát a munkába. Uralkodását hivatásnak tekintette, ő volt az állam első szolgája. Tíz év alatt mintegy 6000 rendeletet adott ki, s mindegyik elkészítésében személyesen vett részt. Rendeletei az állam, a társadalom, a vallás és az élet minden apró részletére kiterjedtek.

..... rendelete a korábbinál jóval szabadabb vallásgyakorlatot biztosított. A pápa személyes tiltakozása ellenére is feloszlatta a nem tanító vagy nem gyógyító A kormányzat korszerűsítésére összevonta az országos főhivatalokat. A birodalom csaknem egész területén a(z) tette hivatalos nyelvvé. Jobbágyrendeletet adott ki. A jobbágy szó eltörlése mellett biztosította a szabad költözést, a vagyonnal való szabad rendelkezést, a tanuláshoz való jogot, de a(z) kööttségek megmaradtak.

Előkészületeket tett a magyar nemesség is. Népszámlálást rendelt el, emellett felmértette a földeket és bevezette a házsámokat. Uralkodása végére az egyház és a nemesség szembe fordult vele. Háborúba bonyolódott a szomszéd, Németalföldön pedig forradalom robbant ki. Halála előtt, súlyos betegen belátta kudarcát, három kivétellel visszavonta rendeleteit.

13/B. Nevezd meg azt a történelmi kifejezést, amellyel ezt az uralkodási formát szokták jellemezni!

.....