

Kódszámod:

Elért pontszámod: / 94

1. Egészítsd ki soronként a táblázatot az egyes csoportokból, az összetartozó betűjelekkel!

I. csoport:

- (A) Anna-bál
- (B) Argo gőzhajó
- (C) szabad királyi város
- (D) Vásárhelyi Pál
- (E) Jókai-villa
- (F) Ludovika Akadémia
- (G) Simion Barnut
- (H) nemzetalkotó elismerés igénye

II. csoport - földrajzi nevek:

- (I) Balázsfalva
- (J) Kassa
- (K) Vaskapu
- (L) Balatonfüred
- (M) Zágráb

III. csoport - képek:



(N)



(O)

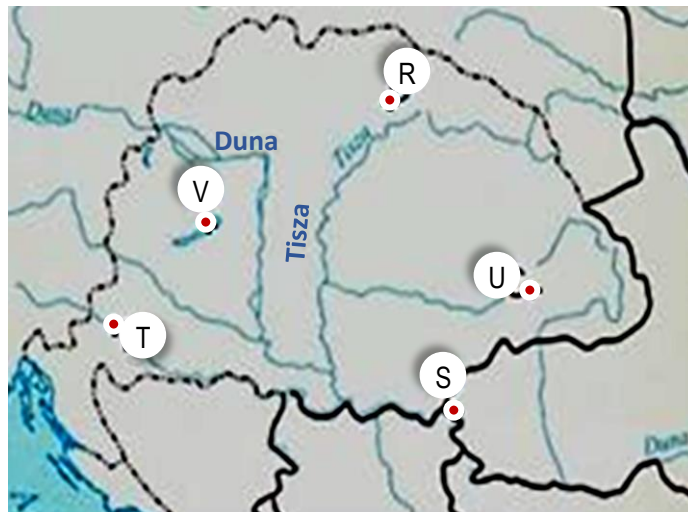


(P)



(Q)

IV. csoport - térkép



	I. csoportból két betűjel	II. csoport: földrajzi név betűjele	III. csoport: kép betűjele	IV. csoport: térkép betűjele
1. sor:			N	
2. sor:		I		
3. sor:				V

a2

b2

c2

.../6

2. Írd az alábbi állítások betűjelét a karikatúra jelentésének megfelelően a két oldalon látható politikushoz, valamint a középen látható öszvérhez, mely egy országhoz kapcsolható!

a2

b2


c1

.../5

- A Nem mehetünk Bécs felé!
- B Most már én is széles körben tudom felhíni a figyelmet az ország problémáira.
- C Együtt kell működni az udvarral!
- D A magyar legyen magyar; beszédében, öltözetében, vásároljon magyar termékeket!
- E Földem termékeny, népeim szorgalmasak, jövőm bizonytalan.
- F Magyarország felemelkedését a reformer ariszokratákra kell bízni.
- G Nemzetiségi kérdésben támogatásról biztosított Eötvös és Vörösmarty is.
- H Csakis megfontolt szavak, nyugodt légkör, gazdasági fejlődés vihet bennünket előre.

Betűjelek:

Betűjelek:



Betűjel:

3. Az alábbi kérdések alatt négy-négy válaszlehetőséget olvashatsz.**Karikázd be a helyes válasz sorszámát!**

a) Hallhatta-e Kölcsey Ferenc énekelni Himnuszát?

1. Nem, mert előbb meghalt, mint azt megzenésítették.
2. Igen, személyesen neki mutatta be azt Erkel Ferenc.
3. Igen, 1844-ben a Nemzeti Színházban.
4. Nem, mert Egressy Béni csak 1843-ban készült el vele, amikor Kölcsey már nem élt.

b) Miért volt szükség kortesekre a megyegyűlési követválasztások idején?

1. A jelöltek így tudták megismertetni magukat és programjukat az ország nemességével.
2. A követválasztások idején nem fért be minden nemes a megyegyűlési terembe.
3. A Helytartótanács így tudta felügyelni a követválasztást.
4. A követjelöltek rajtuk keresztül kívánták meggyőzni a főispánt.

c) Miért nem kellett az Országgyűlési Tudósításokat a cenzornak bemutatni?

1. Kossuth, miután kiszabadult a börtönből, mentességet kapott alóla.
2. A cenzúra hazánkban csak 1840-től létezett.
3. Csak a nyomtatott anyagokat kellett bemutatni.
4. Az Országgyűlési Tudósítások csak néhány példányban jelent meg.

d) A Lánchíd építését finanszírozó részvénytársaság kikötötte, hogy 87 évig a hídtól északra és délre nem épülhet új híd a Dunán. Mi volt az oka a rendelkezésnek?

1. A társaság - kizárólag a köznép által fizetett - hídvámbevételei ne csökkenjenek.
2. A város a hídtól távol növekedjen.
3. A részvénytársaság hasznát hosszútávon így látták biztosítva.
4. A Lánchídra összpontosuljon az összes gyalogos- és áruforgalom, így garantálva a közlekedés egyszerűsítését és gyorsítását.

e) Miért tekintett Széchenyi kezdetben fenntartásokkal az Első Dunai Gőzhajózási Társaságra?

1. Mert a korabeli gőzhajók gyakori meghibásodása miatt megbízhatóbbak voltak a lóvonatású hajók.
2. Mert már egy - Pest és Buda között működő, átkelést biztosító - gőzhajó üzemeltetése veszteségesnek bizonyult.
3. Mert nem bízott a hazánkban dolgozó hajóépítők szakmai munkájában.
4. Mert a társaságba befektetett pénz nem volt elegendő a megfelelő működéshez.

a1

b1

c1

d1

e1

.../5

4. Állítsd számozással időrendi sorrendbe oszloponként 1-5-ig az eseményeket!**A számozást mindegyik oszlopban a legkorábbi eseménnyel kezd!**

a)

- Hitel megjelenése
- Libényi János merényletkísérlete
- Ferenc József híd megépülése
- Mettenich lemondása
- Kossuth a Pesti Hírlap élén

b)

- Segesvári csata
- Solferinói csata
- Andrássy Gyula miniszterelnök lesz
- Pesti árvíz
- Szent Szövetség megalakulása

c)

- Országos Védegylet megalakulása
- Német Császárság kikiáltása
- Ozorai győzelem
- Tisza Kálmán lemondása
- Kápolnai csata

a2

b2

c2

.../6

5. Az alábbiakban két magyar politikus gondolatait olvashatod.**Nevezd meg őket, és a tőlük származó idézetek betűjelét írd a nevük alá időrendben!
A legkorábbi idézet betűjével kezdj!**

- A „[...] lehetetlenség, hogy közügyekben tevőlegesen részt kívánjak venni.”
- B „Ilyenkor mond le Magyarország legbecsesebb állami jogairól . [...]”
- C „[...] emeljük fel politikánkat a körülmények színvonalára.”
- D „Egyik cél tehát a birodalom fennállása [...]. Másik cél pedig fenntartása Magyarország alkotmányos fennállásának [...].”
- E „[...] velök és általok, ha nekik tetszik, nélkülok, sőt ellenök, ha kell.”
- F „[...] csak ott igazán boldog és virágzó a haza, hol a földet szabad kezek művelik; ott erős a nemzet, hol a tulajdont és függetlenséget szabad kezek védik.”
- G „Akkor a kard fog dönteni közöttünk.”



a1

b2

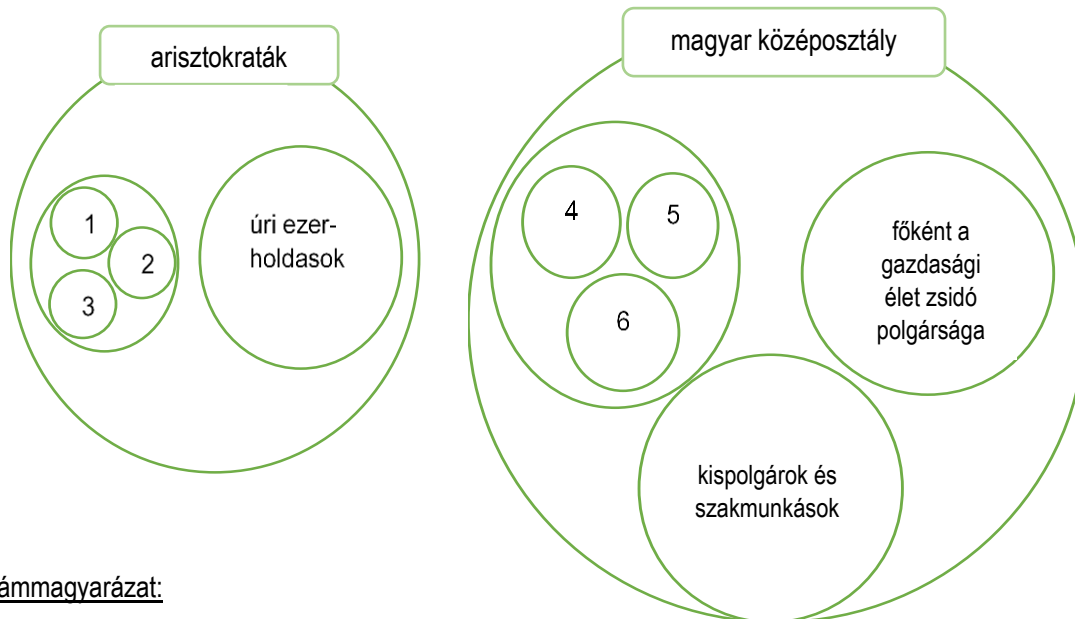
c1

d2

.../6

- a) Az egyik politikus neve:
- b) A tőle származó idézetek betűjele időrendben:
- c) A másik politikus neve:
- d) A tőle származó idézetek betűjele időrendben:

6. Az ábrák a 19. század második felének magyar társadalmával kapcsolatosak, de nem mutatják be annak minden osztályát, rétegét. Az ábrák és ismereteid segítségével dönts el az állításokról, hogy igazak vagy hamisak! Írj az állítások után I vagy H betűt!



számmagyarázat:

1. „nemzetek fölötti” arisztokrácia pl. Scönbronnok, Koburgok stb.
2. magyar arisztokrácia kettős életet élő családjai pl. Eszterházyak, Pálffyak stb.
3. a magyar közélet aktív magyar arisztokráciája pl. Andrássyak, Batthyányak stb.
4. polgárosodó nemesi birtokosság
5. államigazgatási apparátus
6. értelmiség

állítások:

- a) Az 1-sel, 2-sel, 3-sal számokkal jelölt körökbe tartozó családokat összefoglalóan mágnásoknak is hívhatjuk.
- b) Az ábrákban csak mezőgazdaságból élő rétegeket találhatunk.
- c) Mikszáth Kálmán regényeiben szereplő dzsentrik a magyar középosztályba tartoztak.
- d) A magyar miniszterelnökök többségét a 3. számmal jelölt körbe tartozó családok adták.
- e) A magyar zsidóság társadalmi helyzetének bemutatására a fenti ábrák megfelelőek.
- f) A magyar városok fűszeresei, patikusai a 6. számmal jelölt körbe tartoztak.
- g) A magyar társadalom leggazdagabb rétegeinek mindegyike látható az ábrákon.
- h) Ha a körök nagysága szimbolizálná az adott társadalmi rétegek létszámát, akkor a hiányzó társadalmi rétegek többsége nagyobb körrel lenne ábrázolva, mint az ábrákon látható legnagyobb körök.

a1

b1

c1

d1

e1

f1

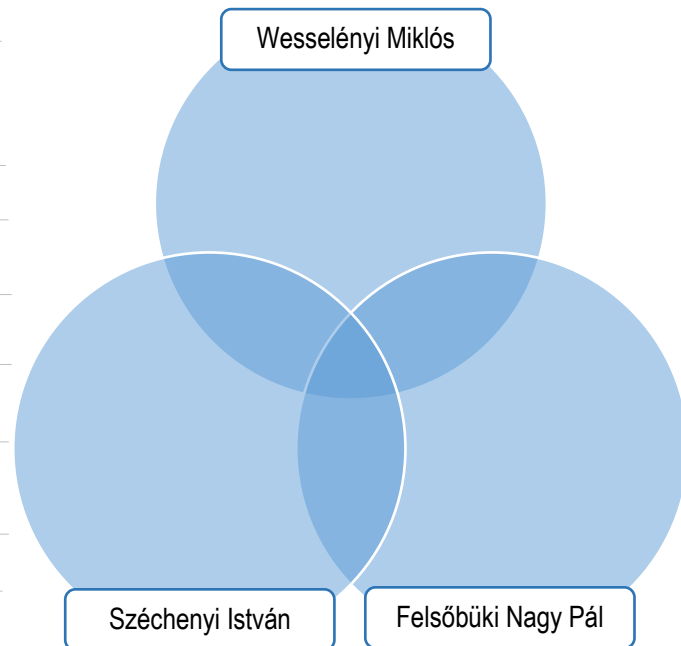
g1

h1

..../8

7. Írd be az alábbi felsorolás betűjeleit a halmazábrába úgy, hogy egy betűjel csak egy helyen szerepelhet!

- A „szörny-ölőknek szörny-ölő” fia
- B „Sokan azt gondolják:
Magyarország-volt-, én azt szeretném hinni: lesz!”
- C angliai tanulmányút
- D az 1825-27-es országgyűlésen Sopron megye követe
- E főnemes
- F idővel együttműködik az osztrák kormánnyal
- G Szózat a magyar és szláv nemzetiség ügyében
- H Helytartótanács főtisztviselője
- I reformnemes



a1

b1

c1

d1

e1

f1

g1

h1

i1

.../9

8. Karikázd be a helyes, húzd át a téves állítások betűjelét!

- a) 1848-ban előbb jött létre a felelős magyar végrehajtó hatalom, mint az azt megválasztó és ellenőrző törvényhozó hatalom.
- b) A legnagyobb - 1000 forintos - Kossuth-bankón a nemzetiségek nyelvén is szerepelt a pénz értéke.
- c) A magyar honvédségben szlovák nyelvű zászlóaljok is harcoltak.
- d) A nagysallói csata után az osztrák hadak főparancsnoka, Windisch-Grätz megkezdte Pest-Buda kiürítését, csupán a budai várban hagyott nagyobb katonai erőt.
- e) Josef Bem az első bécsi forradalom csapatainak egyik vezéréként már 1848-ban harcolt Windisch-Grätz csapatai ellen.
- f) Történelmi források is megerősítik, hogy az aradi kivégzések előestéjén az osztrák börtönőrök sörrel koccintva mulattak. Ez indokolja azt a hagyományt, hogy magyar ember sörrel nem koccint.

a1

b1

c1

d1

e1

f1

.../6

9. Igazold a képek felhasználásával a kijelentéseket!

a) Az Osztrák-Magyar Monarchia két állam szövetsége.

.....

.....

.....



a1

b1

c1

d1

.../4

b) Hazánk a 19.század második felében aktív részese volt a második ipari forradalomnak.

.....

.....

.....




c) Magyar feltalálók fontos találmányokat adtak a világnak.

.....

.....

.....




d) Magyarország a 19.század végén büszkén ünnepelte történelmét.

.....

.....


.....



10. Jellemezd a honvédsereg egyes alakulatait! Írj egy számot és egy betűjelet a képekre!

- ① lengyel légiós ② székely gyalogos ③ huszártiszt ④ honvéd tüzértiszt

- A Tagjai között főleg délvidéki szerbeket találunk.
 B Kezdetben sok mérnökhallgató harcolt közöttük.
 C Fegyverük lőtávolsága 600-700 m, de csak 200 m-ig volt hatásos.
 D Támadás elején pisztolyt használtak, azt követően szablyát, mert a pisztolyt körülményes volt újratölteni.



a1
b1
c1
d1
e1
f1
.../6

11. Alkoss egy-egy történelmileg hiteles mondatot soronként minden szó felhasználásával!

- a) • Siralomház • nem lehet • Munkácsy Mihály • Rózsa Sándor • bilincsbe vert betyár

.....

- b) • königgrätzi csata • udvar részéről • solferinói csata • 1867

.....

- c) • Deák Ferenc • segítette • hiányzott • koronázás • kiegyezés

.....

- d) • nemcsak • szép akasztott • közös külügyminiszter • hanem

.....

a1
b1
c1
d1
.../4

12. Rendszerezd a táblázatba a szabadságharcral kapcsolatos állításokat!
A táblázatba a betűjeleket írd! Minden cellába csak egy betűjel kerülhet!

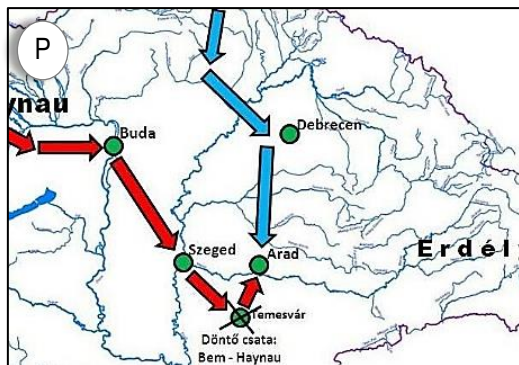
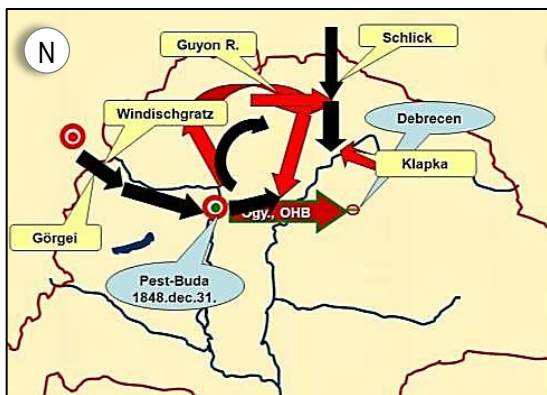
- A 1848. X.7. és 1849.V.21.
- B 1849.II.26. és 1849.VIII.9.
- C 1848. IX.29. és 1848. X.7.
- D 1849.IV.2. és 1849.IV.6.
- E 1849. VII.2. és 1849. VII.31.
- F Lüders és Görgei
- G Móga és Paszkievics
- H Damjanich és Windisch-Grätz
- I Perczel és Jellasics
- J Batthyány lemondása
- K Olmützi alkotmány
- L megtorlás
- M Függetlenségi nyilatkozat

a2

b2

c2

.../6

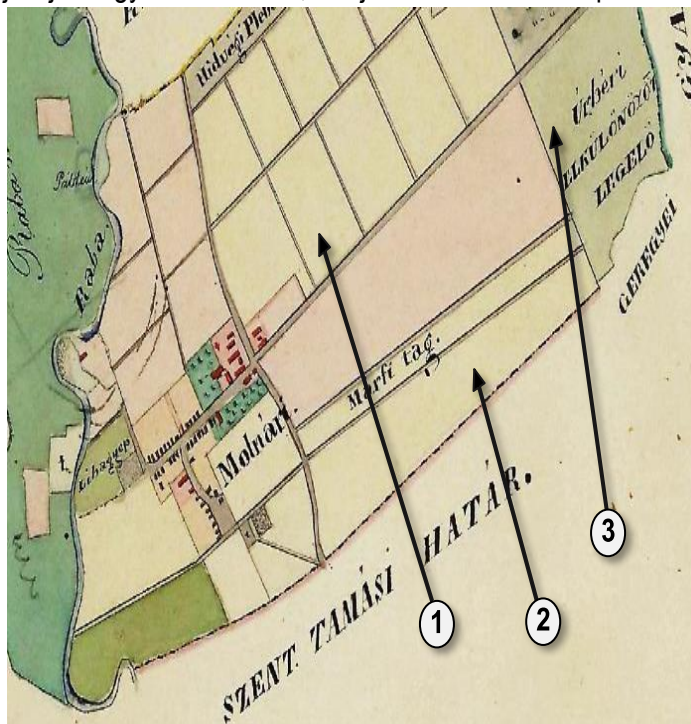


	időpontok	hadvezérek	következmények	térképjelek
horvát-magyar konfliktus				
tavaszi hadjárat				
orosz-osztrák támadás				

13. Válaszolj a fiktív szöveggel kapcsolatos kérdésekre!

A Festeticsek vasvári uradalmának szélén helyezkedett el Molnári térsége. 1848 előtt 30 uradalmi jobbágycsalád élt itt átlagosan 15 holdas jobbágytelken. A jobbágytelek része volt a szántó föld - minden dűlőben minden jobbágy kapott földterületet -, része volt az átlagosan 0,25 hold nagyságú kert a házak mögött, ezen kívül része volt egy úrbéri elkülönített legelő és elkülönített erdő rész, ahonnan a tüzelőjüket biztosították. Az erdő és a legelő területe összesen jobbágycsaládonként 2 holdat tett ki. A Festeticsek ezen a területen még kb. 400 hold majorsággal rendelkeztek, ebbe beleértendő az uraság jószágainak biztosított nem úrbéres legelő és erdő is. A jobbágyok az uruknak évi földbérrel és robottal tartoztak. Ezen kívül az államnak és az egyháznak is adóztak. Az 1848-as áprilisi törvények alapján jobbágyokból szabad, tulajdonnal rendelkező parasztok

lettek, megszűnt a robot és a földbér is. Tulajdonba kapták a korábbi jobbágytelkeik nagy részét. Egyelőre csak a szántó és a kert került magántulajdonba. A korábbi úrbéres erdő és legelő közös paraszti tulajdonba került, és közös használatban maradt. Minden más terület a korábbi földesúr tulajdonában maradt, aki kárpótlási jegyet kapott a területvesztéssel arányban. Az ország gazdasági helyzete azonban nem tette lehetővé, hogy a kárpótlási jegyeket azonnal pénzre válthassák, azok beváltását későbbre halasztották. Az áprilisi törvények a közteherviselést kimondva, a vagyon nagyságához mérten határozták meg az államnak történő adófizetés nagyságát.



hold = korabeli mértékegység, 1 hold = kb. 0,5 hektár (1 hektár = 10.000 m² = pl. 100m x 100m-es négyzet területe)

- a) Hány holddal csökkent átlagosan Molnári térségében 1848 után a Festeticsek földtulajdona? holddal
- b) Hány hold került átlagosan Molnári területén egy parasztcsalád magántulajdonába? hold
- c) Ki fizette a legtöbb állami adót Molnári területei után 1849-ben?
- d) Melyik történelmi fogalom kapcsolható a fenti szöveghez? Jelöld meg így:

 népképviselő kötelező örökváltság jogegyenlőség
- e) Melyik jelmagyarázat felel meg a fenti térképnek? Jelöld meg így:

 1 = majorsági rész 2 = jobbágytelek 3 = közös legelő

 1 = kert 2 = majorsági rész 3 = jobbágytelek

 1 = jobbágytelek 2 = majorsági rész 3 = nem majorsági legelő

a1

b1

c1

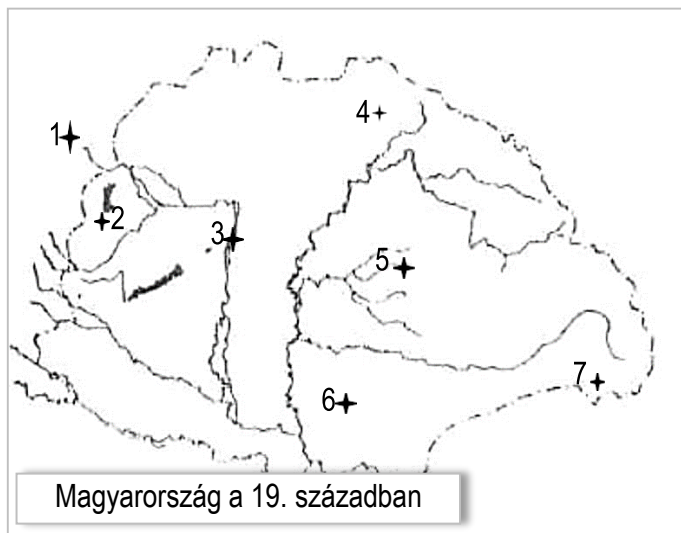
d1

e1

.../5

14. Írj a táblázatba az állítások mellé egy-egy városnevet és egy hozzá tartozó számot a térképről! Egy városnevet és térképszámot többször is felhasználhatsz!

állítások	városnév	térkép száma
1884-ben - két évvel New York után - megkezdték a város közcélú villanyvilágításának kiépítését.		
Podmaniczky Frigyes volt a város „vőlegénye”, mert rengeteget tett a fejlesztéséért.		
A liszt- és malomipar fővárosa lett.		
A világon másodikként fogaskerekű és földalatti vasút épült itt.		
Itt született és itt is halt meg a „legnagyobb magyar”.		
Fontos hadiüzemgyár volt Erdély kapujában.		



15. Az 1815 és 1900 közti korszak melyik időszakára jellemző az állítás?
Karikázd be a helyes válasz betűjelét a táblázatban!

A válaszlehetőségek jelentése:

- A csak 1848-ig jellemző
- B csak a forradalom és a szabadságharc időszakára jellemző
- C csak az 1850-től 1859-ig tartó időszakra jellemző
- D a korszak egészére jellemző
- E az Osztrák-Magyar Monarchia időszakára jellemző

Állítások:	A válasz betűjele:				
a) nagy társadalmi különbségek	A	B	C	D	E
b) jobbágy-földesúr viszony, földesúri bíráskodás	A	B	C	D	E
c) nagyarányú, gyors ipari fejlődés	A	B	C	D	E
d) nagybirtokosok gazdasági és politikai befolyása	A	B	C	D	E
e) zsidó népesség nagyarányú asszimilációja	A	B	C	D	E
f) osztrák jog- és igazgatási rendszer bevezetésének kísérlete	A	B	C	D	E
g) társadalmi összefogás és belháború	A	B	C	D	E
h) nemzetiségi problémák és követeléseik	A	B	C	D	E

a1

b1

c1

d1

e1

f1

g1

h1

i1

j1

.../10

a1

b1

c1

d1

e1

f1

g1

h1

.../8