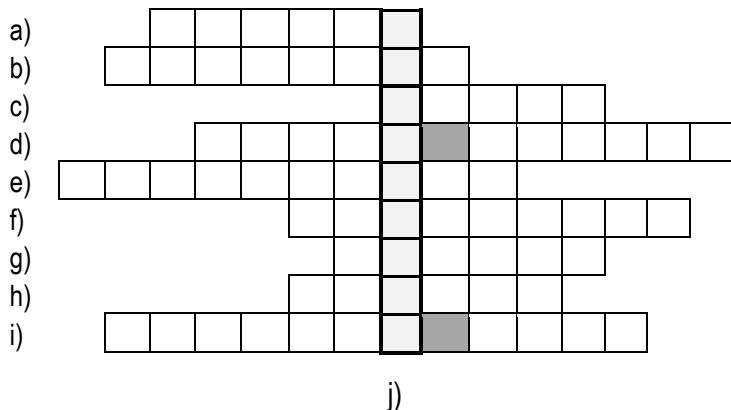


Neved: Felkészítő tanárod:
Iskolád: Elért pontszámod: / 80 pont

1.1. Fejtsd meg a személynevekből álló rejtvényt!



- a) jakobinus vezér
- b) a népfelség elvének megfogalmazója
- c) „nagy” orosz cár
- d) Berlint ostromló magyar hadvezér
- e) a Szent Szövetség létrehozásán fáradozó osztrák kancellár
- f) II. Rákóczi Ferenc barátja, harcostársa (csak családnév)
- g) tőle örökölte Mária Terézia a trónt: III.
- h) a trafalgári győző
- i) II. Rákóczi Ferenc nevelőapja

1.2. Hogy hívták a megfejtésben szereplő személyt?

2. Keresd meg a betűhálóban elrejtett 7 történelmi fogalmat! Írd a fogalmakat és magyarázatukat a pontozott vonalakra! (↓ → ← ↴)

K	E	N	C	I	K	L	O	P	É
U	U	R	B	Á	R	I	U	M	D
R	C	N	A	B	A	L	A	I	I
U	G	I	M	Á	V	K	Y	I	A
C	D	I	K	T	A	T	Ú	R	A
P	R	O	T	E	S	T	Á	N	S

A fogalom:

A fogalom jelentése, magyarázata:

- a) :
- b) :
- c) :
- d) :
- e) :
- f) :
- g) :

a	b
c	d
e	f
g	h
i	j

... / 11

a	b
c	d
e	f
g	

... / 7

3. Számozással (1-4) állítsd fel oszloponként a helyes időrendet!

(A számozást a legkorábbi eseménnyel kezd!)

- | | |
|---|--|
| a) <input type="checkbox"/> Napóleon császárrá koronázása | b) <input type="checkbox"/> waterlooi csata |
| <input type="checkbox"/> a törökök kiűzése Budáról | <input type="checkbox"/> Bastille ostroma |
| <input type="checkbox"/> II. József halála | <input type="checkbox"/> az első működő gőzhajó |
| <input type="checkbox"/> kettős vámrendelet hazánkban | <input type="checkbox"/> Watt gőzgépe |
| c) <input type="checkbox"/> Franciaország először köztársaság | d) <input type="checkbox"/> Robespierre kivégzése |
| <input type="checkbox"/> ónodi országgyűlés | <input type="checkbox"/> türelmi rendelet Magyarországon |
| <input type="checkbox"/> Napóleon Elba szigetén | <input type="checkbox"/> Napóleon Magyarországon |
| <input type="checkbox"/> az első oktatási rendelet hazánkban | <input type="checkbox"/> rbéri rendelet Magyarországon |

a2	b2
c2	d2
.../ 8	

4.1. Írd a történések mellé a megfelelő kép betűjelét!

- | | |
|-------------------------------------|--|
| a) Rodostó, visszaemlékezés | b) Majtény, szabad elvonulás |
| c) Bécsújhely, segítő feleség | d) ellenvélemény következményekkel |

4.2. Készíts idősort a képek betűjeleinek felhasználásával! (Az 1-es legyen a legkorábbi történéssel kapcsolatos betűjel!)

1.	2.	3.	4.

A)



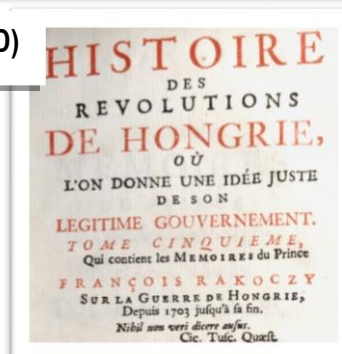
B)



C)



D)



a	b
c	d
e2	
.../ 6	

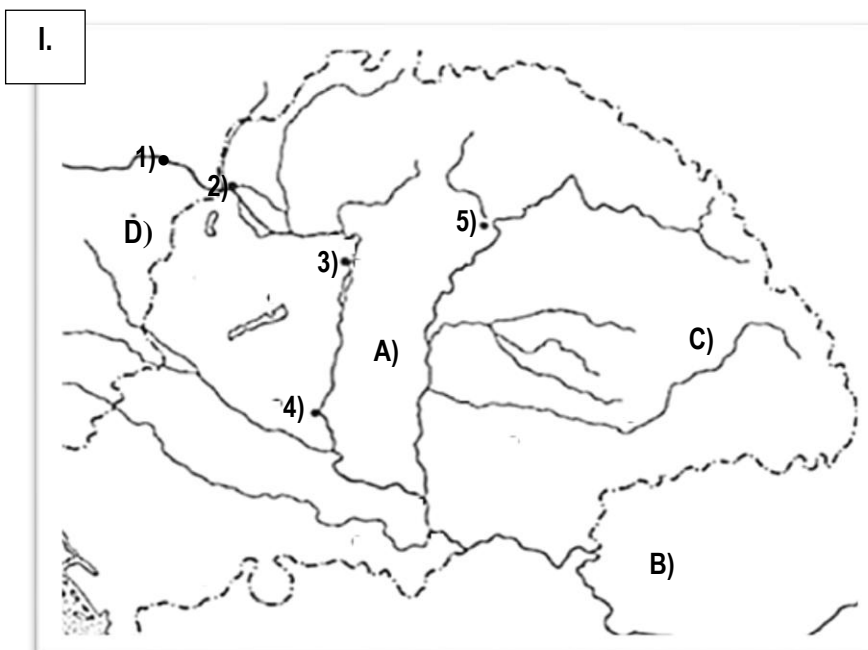
**5. Melyik uralkodókra érvényesek az alábbi kisbetűvel jelölt megállapítások?
Írd a megállapítások előtti -be a megfelelő betűjelet!**

A) III. Károly B) Mária Terézia C) II. József D) egyik sem

- a) A német nyelve tette hivatalossá.
- b) Oktatási rendeletet adott ki.
- c) Eltörölte a jobbágyságot.
- d) A fent megnevezett királyok közül a leghosszabb ideig uralkodott.
- e) Elfogadtatta a Habsburgok nőági örökösödését.
- f) A protestánsok számára lehetővé tette az állami hivatalok viselését.
- g) Tervbe vette a nemesi adómentesség megszüntetését.
- h) Háborút vívott a porosz uralkodóval.
- i) Lehetővé tette a jobbágyok szabad költözködését.
- j) Uralkodása idején adták ki Franciaországban az Emberi és polgári jogok nyilatkozatát.

a	b
c	d
e	f
g	h
i	j
.../ 10	

6.1. Írd a táblázatba az I. térképvázlatról leolvasott számokat és betűjeleket!



Az I. térképvázlattal kapcsolatos történelmi leírások 1703-1815 között	Szám vagy betűjel
Ebbe a városba vitette II. József a Szent Koronát.	
Itt mondták ki a Habsburg-ház trónfosztását.	
A török kor óta ez a város hazánk fővárosa.	
Bécsből kormányzott történelmi terület.	
Szomszédos, nem keresztény nagyhatalom.	
Ebben az országban hunyt el II. Rákóczi Ferenc.	

a	b
c	d
e	f
g	h
i	j
.../ 10	

6.2. Írd a II. táblázatban található számokat a térképvázlathoz!

A II. térképvázlattal kapcsolatos történelmi leírások 1703-1815 között	A térképvázlatra írandó szám
Ebben a birodalomban tartották a Szent Szövetség alakuló kongresszusát.	1)
Az I. ipari forradalom mintá országa.	2)
Ebben az országban alkalmazta Kutuzov tábornok a felperzselt föld taktikáját.	3)
Ebben az országban egy 18. századi eseményre emlékezve július 14-e nemzeti ünnep.	4)

II.



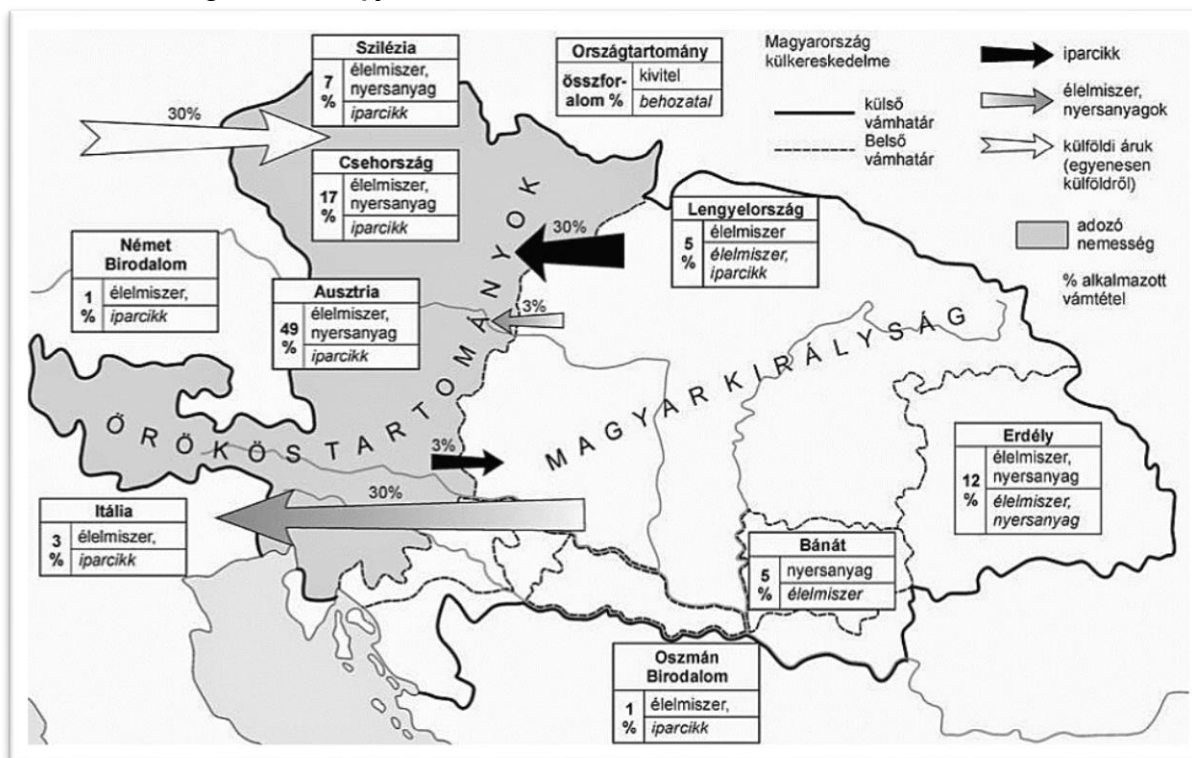
7. Hibakereső! Hány történelmi hiba található az alábbi mondatokban?

Írd a hibák számát a -be!

- a) 1793 ősztől XV. Lajost elfogták, majd tárgyalás nélkül lefejezték.
- b) 1704 tavaszán az elégedetlenkedők Rákóczi Franciaországból hívták haza, hogy álljon a pozsonyi udvar ellenei felkelés élére.
- c) Napóleon bukásának évében két uralkodó megalapította a Szent Szövetséget.
- d) A felvilágosodás fontos gondolata a népfenség elve, mely szerint az uralkodói hatalom istentől származik. Megfogalmazták a hatalmi ágak összevonásának igényét is.
- e) A mai Belgium területén zajló 1812-es „népek csatájában” Napóleon diadalmaskodott ellenségei felett.

a	b
c	d
e	
.../5	

8. Válaszold meg az ábra alapján a kérdéseket!



- A birodalom melyik részében nem adóztak a nemesek?
- Melyek voltak hazánk fő exporttermékei?
- Hány százalék volt Itália felé a kereskedelmi összforgalom mértéke?
- Melyik örökös tartomány volt hazánk legfontosabb kereskedelemi partnere?
- Hány %-os vámot kellett fizetni, ha cseh üvegpoharat hoztak be hazánkba?
- Hány %-os vámot kellett fizetni, ha angol gőzekét hozták Magyarországra?
- Hány %-os vámot kellett fizetni, ha magyar fémárut vittek Ausztriába?
- Hány aranyforintot kellett fizetni vámként, ha 100 aranyforint értékű szürkemaráhát hajtottak Itáliába?

9. Csoportosítsd az alábbi felsorolásokat a halmazábráknak megfelelően!

(Minden halmazábrába három betűjel kerüljön!)

- A) Szent Jakab kolostor tagjai B) hadi kiadások C) francia forradalom D) ipari forradalom
E) libertas F) repülő vetélő G) Robespierre H) textilipar I) 1703-11

a) b) c)

a	b
c	d
e	f
g	h
.../8	

a2	b2
c2	
.../6	

<p>10. A következő, francia forradalommal kapcsolatos kérdések megválaszolására három-három válaszlehetőséget adunk. Karikázd be a helyes válasz betűjelét!</p> <p>a) Ki nem volt a harmadik rend tagja? A) párizsi lakatosmester B) párizsi pékinas C) XVI. Lajos gyóntatója</p> <p>b) Hol tartózkodott a király a Bastille ostroma idején? A) külföldön B) Párizsban C) Versailles-ban</p> <p>c) Melyik szín került tévesen a francia kokárdára? A) piros B) zöld C) kék</p> <p>d) Hová indult az asszonyok menete? A) Párizsba B) Versailles-ba C) Marseille-be</p> <p>e) Melyik az igaz állítás? A) 1789-ben a labdaházban a harmadik rend képviselői megszavazták az alkotmányt. B) A köztársaságot az uralkodó kivégzése után kiáltották ki. C) A jakobinus uralom 1794-ig tartott.</p> <p>f) Melyik tisztséget nem töltötte be Napóleon? A) első konzul B) király D) császár</p>	a	b
	c	d
	e	f
	... /6	
<p>11. Egy történész különböző történelmi tárgyakat vizsgálva az alábbi (alkat)részeket vette szemügyre. Nevezd meg a történész által vizsgált tárgyakat!</p> <p>a) dugattyú, tolórúd, forgattyús kerék, csővezeték, himba</p> <p>b) két oszlop, penge, tolható deszka, kötöző szíjak, felhúzó- és kioldószerkezet</p> <p>c) lapátkerék, gőzgép, kormánymű, árbóc</p>	a	b
	c	
	... / 3	