

Neved: Felkészítő tanárod neve:

Iskolád neve : Elért pontszámod: /100

1/A. Írd a leírások után a megadott ókori római császárnevek közül a megfelelőt!

Nero, Constantinus, Claudius, Traianus, Augustus, Marcus Aurelius, Tiberius, Diocletianus, Theodosius

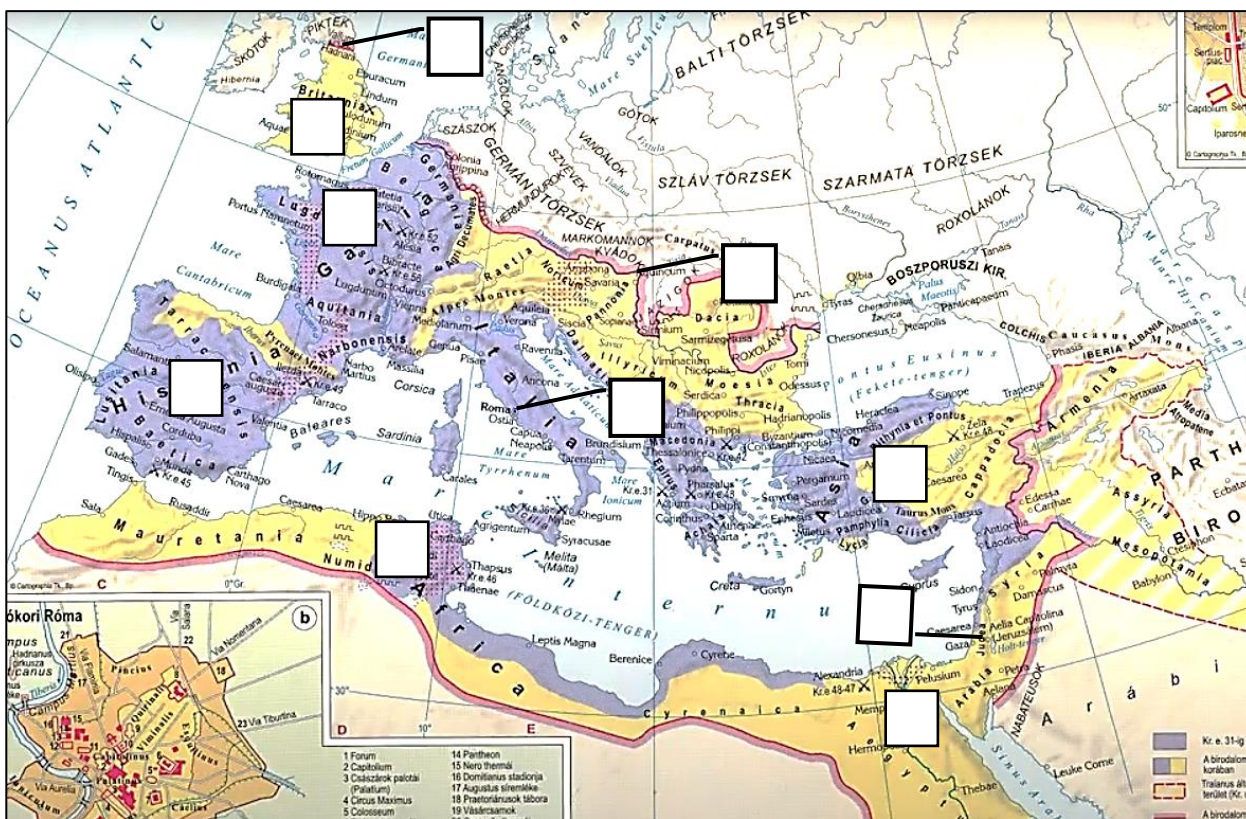
- a) Meghódította Daciát és Mezopotámiát a Tigris folyóig.
- b) Testőrség választotta meg, utódja anyja gyilkoltatta meg.
- c) Négyközpontú kormányzást vezetett be, üldözte a keresztényeket.
- d) Pannónia provinciában verte vissza a germánokat a filozófus császár.
- e) A principátus kialakítója, a „Római béke” megteremtője.
- f) A kereszténységet államvallássá tette, a birodalmat kettéosztotta.

1/B. A fent felsorolt császárok közül hány fő uralkodott (akár csak részben is) az alábbi időszakban? Számold meg, és írd számot az időhatárok utáni négyzetbe!

- a) I. század (1-100)
- b) II. század (101-200)
- c) III. század (201-300)

2. Írd a megfelelő leírás betűjelét a térkép megfelelő négyzetébe! Lesznek üresen maradó négyzetek is.

- a) Claudius császár idejében hódították meg ezt a provinciát
- b) Augustus császár személyes provinciája
- c) a Nyugat-Római Birodalom bukása után ide a nyugati gótok telepedtek le és alakítottak ki királyságot
- d) Hadrianus császár fala
- e) a barbár vandálok telepedtek le erre a területre
- f) Szent Péter „utódainak” székhelye
- g) a későbbi Frank Királyság területe
- h) katonai tábor, katonai amfiteátrum, 200.000 lakos a Duna partján

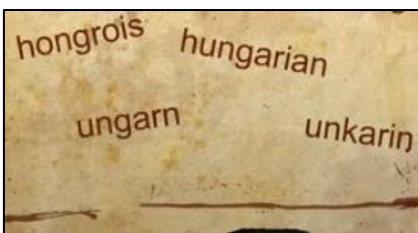



3/A. Csoportosítsd a történelmi fogalmakat! Írd a betűjelüket a táblázat megfelelő részébe! Minden cellába 3 betűjel kerül! Egy betű csak egy helyen szerepelhet!

- A) imperátor B) therma C) skolasztika D) campus E) cölibátus F) pláza G) kende H) átrium
I) sztyeppe J) kolduló rendek K) onogurok L) diploma M) majorság N) kontár O) apród

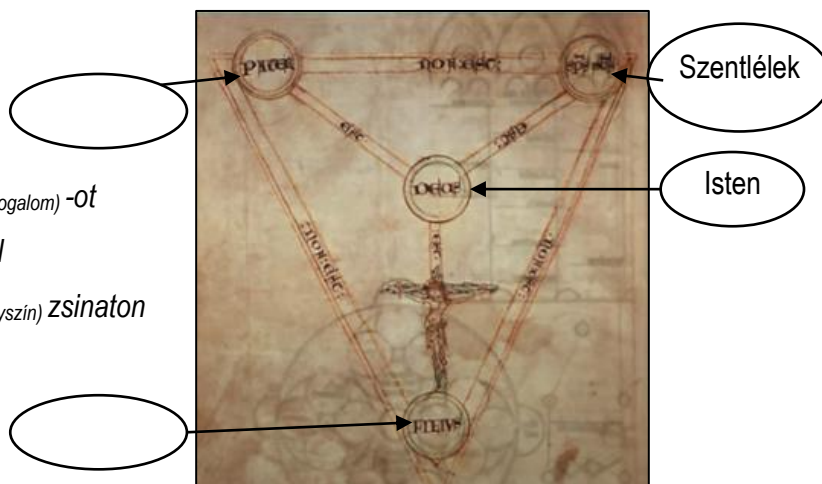
ókori életmóddal kapcsolatos fogalom	ókori hadászattal, politikával kapcsolatos fogalom	középkori gazdasággal, társadalommal kapcsolatos fogalom	középkori keresztény vallással kapcsolatos fogalom	magyar őstörténettel kapcsolatos fogalom

3/B. Írj 1-1 közvetlenül vagy közvetve kapcsolódó fogalmat a fenti felsorolásból az alábbi képek alá! Egy fogalom csak egy helyen szerepelhet!



4. Egészítsd ki az ábrát és a hozzá tartozó leírást!

Az ábra a(fogalom) -öt jeleníti meg. A keresztény vallás alapvetéséről(évszám) -ben a(helyszín) zsinaton döntöttek.



a2

b2



c2

d2

.../8

5. Az alábbi történelmi vonatok kocsijait időrendbe kell rendezned! Írd be a megfelelő betűjeleket a vonatok megfelelő kocsijára! Mindenhol a mozdonytól lévő legtávolabbi kocsi van időben is a legtávolabb az adott korszakban jelenünkhöz képest. A felsoroláscsoportok egyszerre két-két vonat adatait tartalmazzák! A mozdonyokra beírt betűjegy a korszak neve, címe!

- A) Arab csapatok kelnek át a Gibraltári-szoroson
- B) Géza fejedelem követküldése Quedlinburgba
- C) Bulcsú és Lehel kivégzése
- D) V-XI. század egyetemes történelme
- E) Attila halála
- F) X-XI. század magyar történelme
- G) Kereszténység kettészakadása
- H) Győzelem a Vértes hegységben
- I) Első kereszties hadjárat meghirdetése
- J) Nagy Károly császár lesz



- K) Óbudai egyetem alapítása
- L) Husz János megégetése
- M) Gutenberg feltalálja a könyvnyomtatást
- N) Párizsi egyetem megalakulása
- O) Csák Máté halála
- P) Dalmáciát végleg elveszti hazánk
- R) XIV-XV. század magyar történelme
- S) Vitéz János összeesküvése
- T) XIII-XV. század egyetemes történelme

6. Mi történt közel hasonló időszakban hazánkban és a világban? Rendszerezd a történelmi adatokat a táblázatba! Írd a betűjeleket a megfelelő helyre! Minden cellába egy betűjel kerül, egy cella üresen marad, így a 11 betűből 8 betűt kell felhasználnod!

- A) Szalhaddin visszafoglalta Jeruzsálemet
- B) őseink a Kazár Birodalom területén éltek
- C) invazív háború kezdete
- D) őseink Magna Hungaria (Baskíria) területére költöztek
- E) I. Istvánt szentté avatták
- F) Mohamed proféta Medinába menekült
- G) Szerbia török hűbéres lett
- H) III. András halála
- I) Német-római Császárság létrejötte
- J) Justinianus hódításai
- K) reneszánsz megjelenése

<i>időszak/terület</i>	<i>magyarok történelme</i>	<i>középkori Európa történelme</i>	<i>iszlám világ történelme</i>
V-VI. század			
VII-X. század			
XI-XIII. század			

7. Karikázd be annak a 3 állításnak a betűjelét, amelyek az ábrán megjelenített történelmi eseménysorhoz kapcsolódnak!

- A) itáliai kereskedővárosok felvirágzása
- B) az iszlám világ végleges visszahúzása
- C) új lovagrendek alakulása
- D) másodsülött nemesek aktív részvétele
- E) korszerű mezőgazdasági módszerek megjelenése Európában
- F) VII. Gergely pápa beszéde



a1

b1

c1

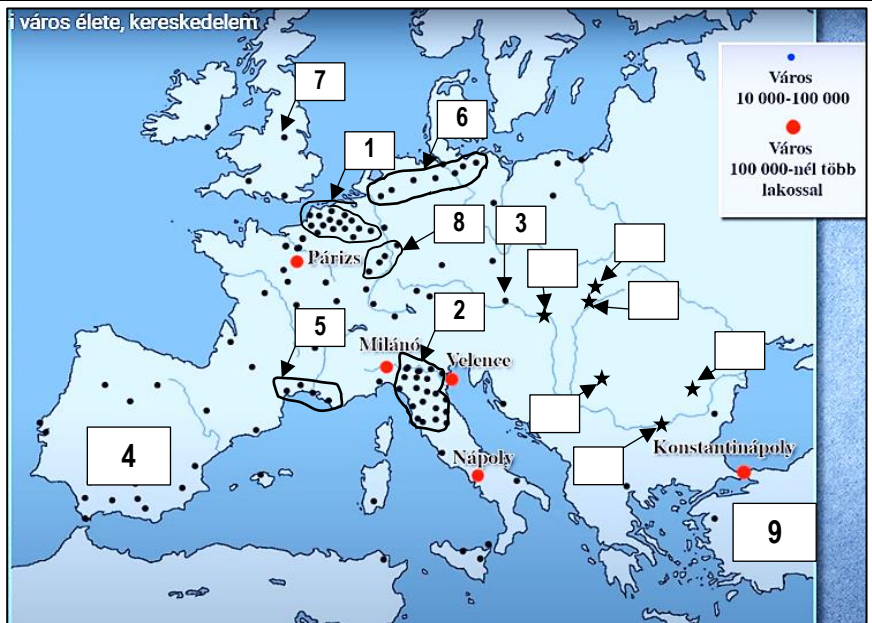
.../3

8/A. Töltsd ki a táblázatot a térkép segítségével! Minden sorban csak egy cellába és csak egy adatot írhatsz!

Leíró szöveg	egy városnév a térképről	egy szám a térképről	„X”-betű, ha sem számmal, sem szöveggel nem szerepel a térképen
<i>Európa fontos városiasodott vidéke: Flandria</i>			
<i>Ezen a területen épült ki Európa első bankhálózata a Medici család vezetésével</i>			
<i>Itt halt meg Hunyadi Mátyás</i>			
<i>Mórok lakta terület</i>			
<i>Híres középkori egyetem és gótikus katedrális (Notre Dame) egy középkori nagyvárosban</i>			
<i>1453-ban került a török kezére</i>			
<i>Ez a város szerezte meg Luxemburgi Zsigmond királytól véglegesen Dalmáciát</i>			
<i>Champagne-i vásárok területe</i>			
<i>Hanza-városok területe</i>			
<i>Caroberto és Johanna városa is</i>			

8/B. Írd a megfelelő betűjelet a térkép megfelelő négyzetébe!

- k) Nikápoly (csatahely)
- l) Temesvár (királyi székhely)
- m) Kassa (szabad királyi város)
- n) Muhi (csatahely)
- o) Visegrád (királytalálkozó)



9. Írj magyarázatot az alábbi kérdésekre!

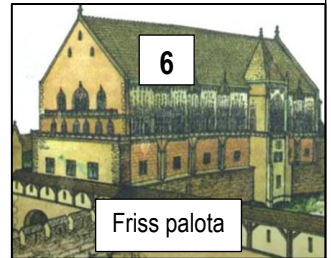
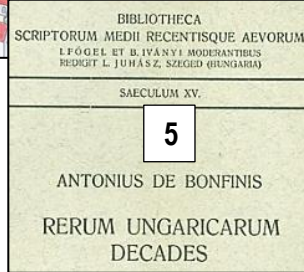
- a) Miért esik a muszlimoknál mindig más-más hónapra a ramadán?
- b) Miért állíthatjuk Leonardo da Vinciről, hogy polihisztor volt?.....
- c) Miért volt érdekük a magyar földbirtokosoknak I. Károly idején nemesfémányát nyitni?.....

10. Az alábbi számozott ábrák valamelyik magyar királyhoz vagy királyokhoz illetve uralkodókhöz fűződő személyekhez kapcsolódnak. A könyvcímek királyi családokhoz, konkrét uralkodókhöz vagy azokkal kapcsolatos személyekhez kapcsolhatók! Írd az ábrák 15 számjelét a megfelelő könyvhöz tartozó téglalapokba úgy, hogy minden könyvhöz 3 szám kerüljön!

a2
b2
c2
d2
e2
.../10

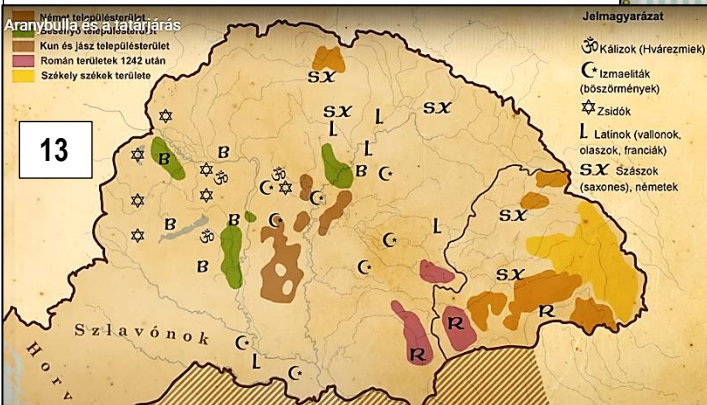
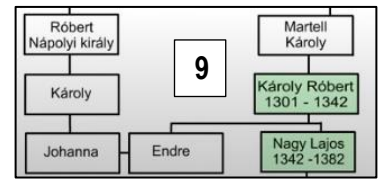


- korlátozta a birtokadományozások mértékét
- megtiltotta idegenek magas tisztségre emelését
- a szerviensek adómentességet és jogi védelmet kaptak
- a szerviensek nem voltak kötelesek külföldi háborúba vonulni






7. Az ősiség törvénye szerint a nemesi birtok csak örökölhető lett, vagy utód hiányában a királyra szállt.

8. régi adók eltörlése
mentességek eltörlése
új adók bevezetése

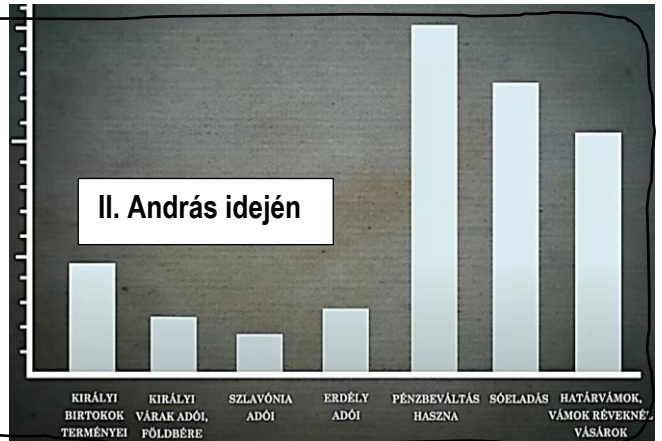
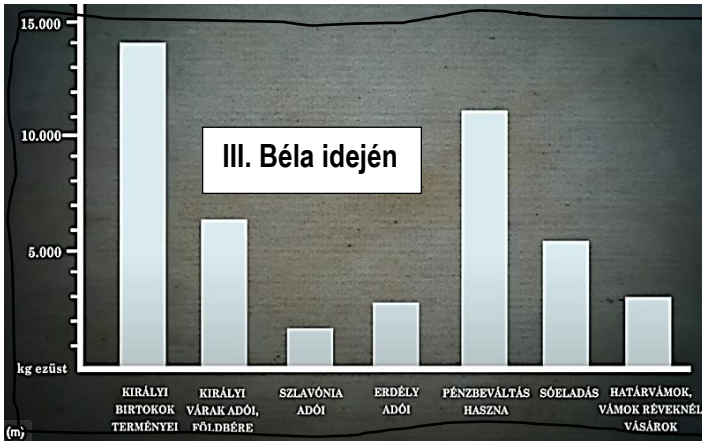


könyvcímek



11. Találd meg az összefüggést az egymás melletti ábrák között, majd írd 2-3 mondatos magyarázó leírást róluk!

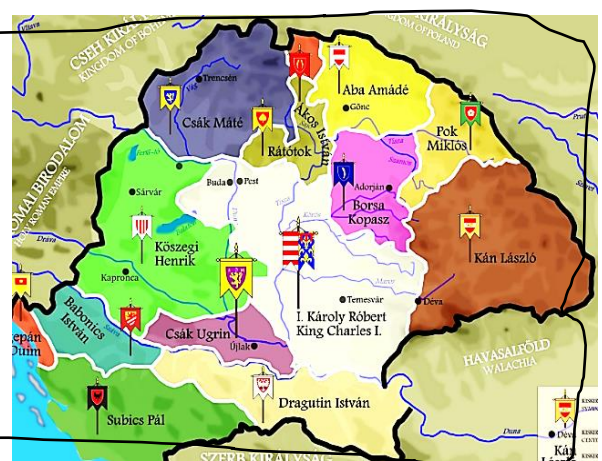
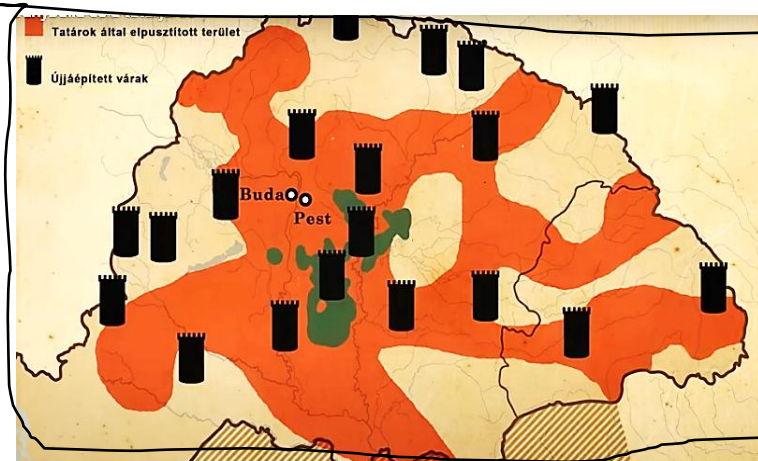
a2
b2
c2
.../6



a)

.....

.....



b)

.....

.....

A parasztra kivetett állami adók mértéke I. Mátyás uralkodása előtt és alatt

c)

.....

.....

12. Csoportosítsd az alábbi állításokat! Írd az állítások betűjelét a táblázat megfelelő helyére! Minden cellába 3-3 betűjel kerüljön!

- A) Hunyadi János seregeiben többféle balkáni népcsoport is harcolt a török ellen.
 B) A 15. századi királyainknak gyakran együtt kellett működniük az ország legnagyobb báróival.
 C) Középkori királyaink gyakran vívtak harcot rokonaikkal is.
 D) A ma ismert országalma fiatalabb, mint a koronázási palást.
 E) Dugovics Titusznak hívták azt a hőst, aki a mélybe rántotta török zászlótartót a nándorfehérvári csatában.
 F) Nagy Lajos uralkodása idején hazánkhoz csatolta Lengyelországot, Havasalföldet és a Moldvai Fejedelemséget.
 G) Szent Erzsébet egy német grófhhoz ment feleségül, Szent Margit pedig egy lengyel király felsége lett.
 H) A pozsonyi csatát a magyarok, a poitiers-i csatát az arabok, a catalaunumi csatát a germánok nyerték.
 I) Ha a fegyverhordozó a lovaggá avatás előállomása volt, akkor az inas a mesterré avatás előállomása.

<i>igaz állítások betűjelei</i>	<i>hamis állítások betűjelei</i>	<i>részben igaz állítások betűjelei</i>

13. Ismereteid és az alábbi szöveg alapján válaszold meg a kérdéseket, oldd meg a feladatokat!

"Lehetetlen történelmi érzékkel végignézni a magyar nemzet történetén az Árpádok honában és el nem ámulni azon út nagyságán, melyet a nép a nemzeti dinasztia vezetése alatt több mint négy század alatt bejárt. Törzsekből egységes nemzetté vált; pogányból keresztény; kósza, portyázó hadakból az európai állami és egyházi rend megbízható és erős védbástyájává. Legyőzte, vagy magába olvasztotta régi vetélytársait: a besenyőt és a kunt; megtartotta függetlenségét pápával, császárral, göröggel, némettel szemben. Kiheverte a tatárpusztítást, hatalmasabb volt utána, mint előtte. Azon úton volt, hogy az európai intézményeket ne csak külsőleg vegye át, hanem létének alapjává tegye. Mint fegyverben, úgy hitben, vallásban, tudományban művészetben sem akart elmaradni azon nemzete mögött, melyek közt Árpád helyet vívott ki számára, melyek közé István idejében befogadták. A szláv, német irtóháborúk színhelyét, az avarok pusztaságát városok, várak, klastromok (kolostorok) és egyházak sokasága borította.

A 13. század végén dívó földrajzi felfogás szerint a barbár világ Magyarországon túl kezdődik. Mindezen nagy történelmi munkában vezérink, királyaink voltak a nemzetnek nemcsak született, hanem igazi tevékeny vezetői. Vezetékek által, hogy a külföldi eszméket elfogadták, a jónak tartott intézményei ország szükségéhez képest átalakítva behozták, minden körülmény és változás közt fenntartották, megőrizték hagyományos tekintélyöket, fejedelmi hatalmokat..." [...] „Az a föld, melyet az Árpádok szereztek, melyben hamvaik pihennek, szeretett hazává lett, melyért szíve vérént ontotta a magyar. A korona, mely homlokukat díszítette, nemcsak ékességét jelölte, hanem hatalmát, egységét is a nemzetnek. Nemcsak a pap, az úr, a nemes, hanem a királyság minden renden-rangon való lakójának gyásza kísérté sírjába a fejedelmi törzs utolsó hajtását. A közös gyásznak érzése mutatja, hogy itt hagyományában, történetében egységes nép alakult. Ez tartotta fenn dicső emléküket, ez fogja megőrizni, míg magyar lesz: míg hat reá gyással, dicsőséggel teljes történetének varázsa." (Marczali Henrik történész)

- a) A szöveg négy századot említ a 2. sorban! Írd le ezt a négy századot!.....
 b) A besenyőkkel és a kunokkal több királyunk is harcolt a XI. században! Nevez meg egyet! :.....
 c) Nevez meg a szövegből egy a Kárpát-medencében a honfoglalás előtt élő nomád népet, mely eltűnt és beolvadt a magyarságba!

d) Kinek szentelték hazánk azóta is leghíresebb klastromát?.....

e) Húzd alá a 6 elemből álló felsorolásból azt a 3 szókapcsolatot, melyekkel egy 13. századi utazó már nem találkozhatott hazánktól keletre, délre!

ortodox vallás román stílus bencés kolostor görög nyelv katolikus vallás háromnyomásos földművelés