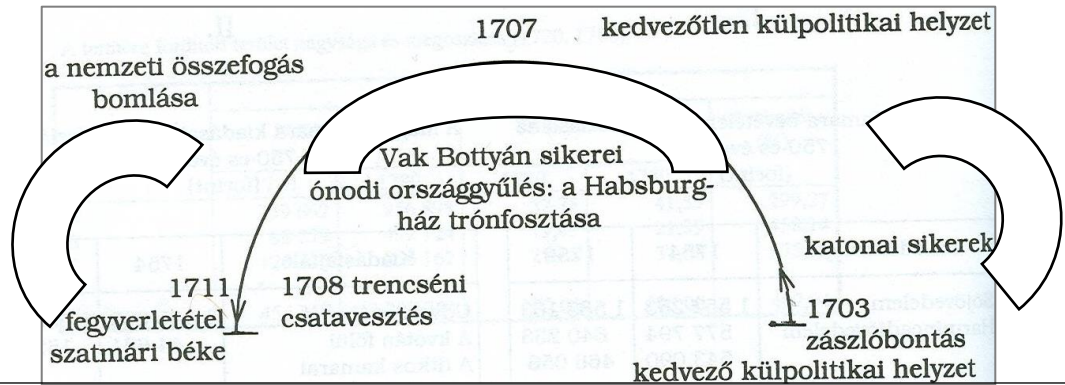


Sorszámod:

Elért pontszámod: /130 pont

1. Az ábra a Rákóczi-szabadságharc „ívére” utal. Írd a megfelelő történelmi adatok betűjelét az ábra megfelelő körcikkelyébe! Egy betűjel csak egy körcikkelyben szerepelhet, mindhárom körcikkelybe 3 betűjel kerüljön!

- A) Pálffy János kinevezése B) Károlyi Sándoré a főhatalom C) rendi konföderáció létrejötte
 D) höchstädti csata következményei E) hajdúszabadság a harcoló jobbágyoknak F) Mikes Kelemen „levelei”
 G) nemesekre is kiterjesztik az adózást H) „...József többé nem királyunk!” I) dolhai ütközet
 J) Esze Tamás útja

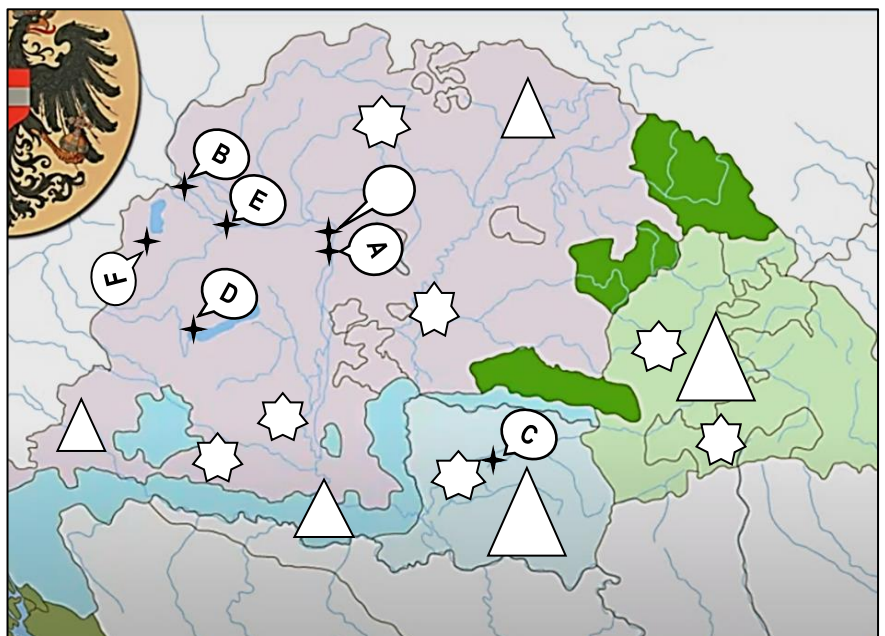


2. A térkép a 18. századi Magyar Királysággal kapcsolatos. A táblázat adatai, valamint a térképmagyarázat segítségével írd a térképről helyes betűjeleket a táblázatba, vagy a táblázat megadott számjegyét írd a térkép megfelelő alakzatába! Zárójelben megadtuk, hogy a számokat a térkép hány helyére kell írnod, valamint a betűkből mennyit kell a térképről a táblázatcellába írnod. Négy alakzat marad üresen a térképen!

térképre írandó számjegy(ek) / térképről írt betűjel(ek)	adat, leírás
(1)	1784-ig a hazánk kormányzati szervének helyet adó város
1	(2) teljes társadalmi tagozódással rendelkező népcsoport
2	(2) sváb népcsoport
3	(3) közvetlenül Bécsből kormányzott területek
4	(1) belső autonómiával rendelkező terület, „társország” (2) barokk városközpontok: az egyik a Dunántúlon, a másik egy 7 nemzetiségű garnizonvárosban
5	(1) legészakibb szerb alapítású település (1) barokk kastély, a magyar Versailles (1) mezőgazdasági főiskola

térképmagyarázat:

- ✦ : település
- △ : terület, országrész
- ☆ : népcsoport
- ⓓ : településre mutató



3. Bizonyítsd lényegre törően az alábbi történelmi állításokat!

a) A Kossuth Lajos által alapított Védegyelet elősegítette a társadalmi különbségek (pl. rendi jogok által generált különbségek) lebontását.

b) A szatmári béke kompromisszumos megegyezés alapján született.

c) Hazánkban a 18. században a nacionalizmus még nem létezett.

d) A nacionalizmus a francia forradalom ellenhatásaként jött létre.

e) Már az első ipari forradalom idején megjelentek a gyártulajdonosok oldaláról is a tökéletes társadalom működésének elképzelései.

f) Az abolícionizmus mozgalma sikerrel járt az USA-ban.

a1

b1

c1

d1

e1

f1

.../6

4. Töltsd ki a táblázat üresen hagyott részeit saját ismereteid és a kép alapján! Írásod férjen bele a cellákba!

történelmi időszak	országnev	államforma	gazdaság főbb jellemzői röviden	egy meghatározó esemény a korszakból	egy meghatározó személy neve	a bábu száma
		elnöki köztársaság		polgárháború	A. Lincoln	
1837-1901	Nagy-Britannia			egyensúlypolitika, világbirodalom építése		
1868-1912				Korea és Tajvan megszerzése	Mucuhito	
1871-1914		császárság		gyarmatok szerzése, hadseregfejlesztés		
1825-1895			elmaradott ipar, lassan fejlődő mezőgazdaság	Szent Szövetség aktív tagja, transzszibériai vasút építése		

a2

b2

c2

d2

e2

.../10

**5. Húzd alá annak az egy országnak a nevét soronként, amelynek a térképen betűvel jelzett terület a gyarmata volt 1910-ben!**

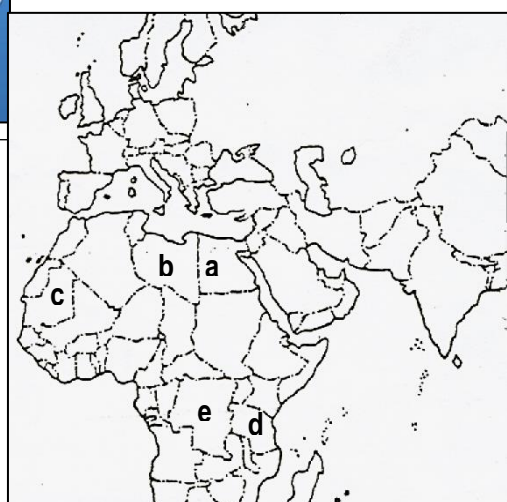
a) Franciaország—Nagy-Britannia—Spanyolország—Olaszország

b) Olaszország—Spanyolország—Franciaország—Portugália

c) Németország—Hollandia—Franciaország—Belgium

d) Nagy-Britannia—Spanyolország—Németország—Franciaország

e) Németország—Hollandia—Belgium—Portugália



a1

b1

c1

d1

e1

.../5

6. Mindegyik idézethez kettő helyes információ kapcsolódik közvetlenül vagy közvetve. Karikázd be mindenhol a két megfelelő információ betűjelét!

a2

b2

c2

d2

.../8

a) „[...] A budapesti pincelakások nagyrészt egy szobából állanak, és ilyen egy szobában átlag öt ember lakik, sőt a IX. és X. kerületekben hat is. Az amúgy is egészségtelen fekvésű lakásban tehát zsúfoltság is uralkodik, mert már négy embertől lakott közepes helyiség zsúfoltnak mondható, kivált akkor, ha az pincelakás. [...] „ (Budapesti Napló 1895. 01.03.)

- A) tömeges kivándorlás az USA-ba
C) milleniumi ünnepek

- B) mezőgazdasági termelés gépesítése
D) uradalmi cselédség

b) „Hadd menjenek valamennyien, a tisztak és a többiek is, én csak engedelmességet akarok, nem további vérontást... Senkit sem akarok megbüntetni, bánjanak velük minden szempontból liberálisan. Mi csak azt kívánjuk, hogy ezek az emberek újból az Unióhoz kötődjenek, és alávegyék magukat törvényeinek.”

- A) XIII. Leó pápa
C) 200.000 halott

- B) U. Grant
D) „Az amerikai unokahúgunk” 1000. előadása

c) „...Legfőbb ideje, hogy a kommunisták az egész világ előtt nyíltan kifejtsek nézeteiket, céljaikat, törekvéseiket, és a kommunizmus kísértetéről szóló mesékkal magának a pártnak a kiáltványát állítsák szembe.”

- A) osztályharc
C) 1868

- B) Stuart Mill
D) vallásellenesség

d) „3. § Ő Felsége, s az Ő távollétében a nádor s királyi helytartó a végrehajtó hatalmat a törvények értelmében független magyar ministerium által gyakorolják, s bármely rendeleteik, parancsolataik, határozataik, kinevezéseik csak úgy érvényesek, ha a Buda-Pesten székelő ministerek egyike által is aláíratnak.”

- A) 1867/ XII.tc
C) alkotmányos királyság

- B) Budapest létrejötte
D) polgári átalakulás

7. Hogy javítanád ki a mesterséges intelligencia választát? Írd le mindkét esetben az általad helyesebbnek gondolt választ a feltett kérdésekre!

a2

b2

.../4

a)

.....

.....

.....

.....

.....

.....

.....

You
Hogy kapcsolódik a "párducugrás" kifejezés Marokkóhoz?

ChatGPT
A "párducugrás" kifejezés a parkour és a freerunning mozgásformákra utal, amelyeket az akadályokon való hatékony és esztétikus áthaladásra terveztek. Ezek a mozgásformák gyökerei nem Marokkóhoz, hanem Franciaországhoz és más európai országokhoz köthetők.
Valószínűleg félreértés történt, és a "párducugrás" kifejezést rosszul értelmezte. Marokkóval

b)

.....

.....

.....

.....

.....

.....

.....

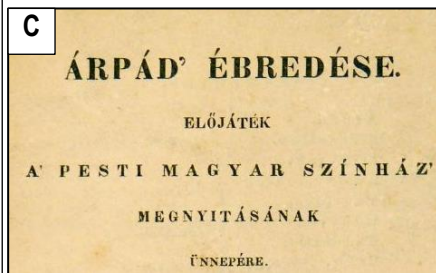
You
Miért hívták régebben a Margit-szigetet Palatinus- szigetnek is?

ChatGPT
A Margit-szigetet valóban régebben Palatinus-szigetnek is nevezték, és ennek oka történelmi eredetű. A sziget nevét a római korban a palatinus (palatinus) jelzőről kapta, ami a palotát vagy palotabeli lakókat jelölte. A szigetet a középkorban különböző időszakokban használták különböző célokra, beleértve kertészeti és mezőgazdasági funkciókat is.


8. Készíts időrendben hármas csoportokat a rendelkezésre álló képi információkat felhasználva! A közel (+/- 10 év) azonos időben lévő történésekre utaló képek betűjelei kerüljenek egy cellába! Válogass az adatok közül, töltsd ki a táblázatot! Ügyelj a csoportok időrendjére is!

a2
b2
c2
d2
e2
f2
.../12

az azonos időszakhoz tartozó információcsoportok időrendje (1-es a legkorábbi)	egy azonos időszakhoz tartozó 3 kép betűjele
1	
2	
3	
4	
5	





D „Széchenyi István!”
Lelkének üdvöt, halmvainak nyugalmat adjon az Isten; áldást és boldog jövőt adva e hazának.
Jókai Mór.



G Csárdáskirálynő (Die Czardasfürstin)
operett
Eredeti nyelv német
Zene Kálmán Imre
Librettó Leo Stein, Jenbach Béla

KOLERA
ellen évszeről, mint ostalt vizet ajánlják
a világhírű
BORSZÉKI
savanyúvizű szűrt, Erdély gyöngyét.
H mely legújabbban **Dehofer H. Gy. szab. tégszemésű vizet** — palékével lesz töltve, s mint ilyen **redetségekben** váltóztatással meggyógyították és teljesen mindenkor **Budapesti lerakottakban** **Edenkuty L. cs. és k. osz. kir. udv. szállítónál**, s annak kizárásával minden jobbnemű fűszerkereskedésben és vendéglőben (L. 1. 11), és 2 literes palackokban, az üres palackok visszatérnek.
Ásványvizünket a n. & közönség szives pártfogásába ajánljuk. 25723
A borszéki üzlet igazgatósága.



140 éve vezették be a tízes alapú mértékrendszert

INFORÁDIÓ / MTI - 2015. december 30. 15:14



O VIZÁLLÁS
1838 MÁRCZIUS 15^{ÉN}

P Deák Ferencz
temetéséhez 1876. február 3-án
bemeneti jegy
a tudományos társaság esarnokába.
Kiadta a rendező bizottság.
A KÉPVISELŐHÁZ HÍZÁRÁGI HÍVATÁLA 1876.
Bemenet az akadémia homlok-kapuján a tér felől.

9. Válaszolj az alábbi kérdésekre a budapesti metró térképen található információk és a saját ismereteid felhasználásával!

- a) Írj a térképről két olyan megállónevet, mely Budapest egykori állatvásárait utalhat!
- b) Hány állomást kell utazni a három metróvonal találkozásától annak a személynek az állomásáig, akit 1906-ban temettek újra, ha a legkevesebb állomást akarom érinteni?
- c) Milyen színű az a metróvonal, melynek állomásait egykor Zsolnay-csempék és pavilonok díszítették?
- d) Hányas szám található azon az állomásnéven, mely a Weiss Manfréd nevéhez köthető?
- e) Hányas számú metróvonalon van a „nemzet költőjéről” elnevezett állomás?
- f) Milyen szám található egy szerbek lakta településnév mellett?
- g) Melyik megállónál található terület lett elnevezve- az elnevezés idején még élő, éppen 70 éves- személyről?



10. Oldd meg az analógiákat! (analógia = az egyik esetben meglévő kapcsolat működik a másik esetben is)

- a) Ha II. Vilmos = „Mire a falevelek lehullanak visszatérnek győztes katonáim”, akkor Ferenc József =
- b) Ha a horvátok = illirizmus = Ljudevit Gaj, akkor románok = =
- c) Ha Pollack Mihály+ Nemzeti Múzeum = klasszicizmus, akkor Hefele Menyhért + =
- d) Ha Pick Márk = Herz Ármin, akkor Dreher Antal =
- e) Ha Eötvös József vallás- és közoktatásügyi miniszter, akkor Eötvös Loránd =

11. Egészítsd ki -a mellékelt ábrák (lásd a pótlapon!) segítségével- adatokkal az Osztrák-Magyar Monarchia gazdaságáról szóló szöveget!

A dualista állam mindvégig kiemelt feladatának tekintette a gazdaság fejlesztését. A mezőgazdaság termelékenységét növelték a nagybirtokokon megjelenő A fejlődés ellenére több európai országtól, mint pl. vagy is le volt maradva mezőgazdasági termelékenységünk. A jobbágyfelszabadítás után egészségtelen birtokszerkezet alakult ki, a maximum 5 holdas birtokok aránya elérte a(z) %-ot. A kiscgazdaságok területe összeségében az összes terület kb. %-át tette ki. Bár a mezőgazdaság %-os nemzeti jövedelemhez való hozzájárulása az első világháború kitöréséhez közeledve a kiegyezéshez mérve kb.%-kal csökkent, még mindig a legnagyobb maradt. A korszakban a(z) közel háromszoros nemzeti jövedelemhez való hozzájárulásnak növekedése volt a leginkább a szembeűnő. Ezt a növekedést a nagyon magas tőkebehozatal tette lehetővé, amely a korszak végéhez közelítve elérte az évikoronát. A világháborúhoz közelítve a közel 1 milliós munkásságból már a nagyüzemekben dolgozott.

12. Kombináld az alábbi neveket a leírások szerint! Írd a megadott számú betűjelet a táblázat megfelelő részébe!

- A) Kossuth Lajos B) Horthy Miklós C) Eötvös Loránd D) Széll Kálmán E) Garbai Sándor
 F) G. Verdi G) George Clerk H) Clemenceau I) Kun Béla J) Jedlik Ányos
 K) Károlyi Mihály L) Szemere Bertalan M) Andrássy Gyula N) Pöltenberg Ernő O) Klapka György
 P) Bercsényi Miklós R) Bottyán János U) Richard Arkwright X) Leiningen-Westerburg Károly

A neveket összekötő jellemző	A nevek betűjelei (és azok darabszámjai)
a) miniszterelnökök	(6)
b) főtisztek	(6)
c) meghatározó történelmi szerepük elsősorban a 20. századra esett	(6)
d) halálraítélték őket az 1848-49-es szabadságharc után	(3)
e) feltalálók	(3)
f) meghatározó történelmi szerepük elsősorban a 18. századra esett	(3)

13. Húzz alá minden sorban két olyan adatot, melyekre igaz a sor elején lévő állítás!

- a) Ma már szlovák város: Szabadka—Kassa—Ungvár—Nagyszombat
 b) Ipari központ a dualizmus idején: Budapest—Vajdahunyad—Pécs—Debrecen
 c) Sorsfordító esemény múltunkban: II. József uralma—Áprilisi törvények kiadása—I. világháború vége—Bach-korszak
 d) Magyar szempontból győztes csata: Trencsényi csata—Temesvári csata—Nagysallói csata—Caporettoi csata
 e) Gazdasági szervezet az Osztrák-Magyar Monarchia idején: GYOSZ—SZDP—OMGE—MTK

14. Esszé: Budapest a századfordulón (egy világváros létrejötte)

Mutasd be a források felhasználásával Budapest létrejöttét és fejlődését a 19. század utolsó harmadában!

Térj ki a város infrastrukturális fejlesztéseire, közlekedésére, neves épületeire, valamint a millenniumi ünnepekre!

Használd fel az alábbi forrásokat és ismereteidet!

Fejtsd ki megszerkesztett mondatokban választ a megadott terjedelemben!

Ügyelj a szöveg tagolására és a helyesíráásra!



A: Opera B: Parlament C: Nagykörút D: Keleti pályaudvar E: Hősök tere F: Nyugati pályaudvar
G: Szent István-bazilika H: Erzsébet híd I: Ferenc József híd J: Margit híd

A város a reformkorban újra az ország központjává kezdett válni. (tankönyvi szöveg)

A dualizmus korának gazdasági fellendülése a fővárosban mutatta a leglátványosabb eredményét. (zanza tv.)

A kormány felkérésére francia várostervezők a korszerűbbnek tartott körgyűrűs, sugaras városátépítést javasoltak. (Magyarország története 31.)

A főváros volt a pénzvilág, a kereskedelem és az ipar központja..... A gázlámpák mellett feltűnt az elektromos világítás is. (Estók János: A boldog békeidők könyve alapján)

Podmaniczky Frigyesnek, a „Budapest vőlegényének” nevezett bárónak oroszlánrésze volt abban, hogy a Közmunkatanács maradéktalanul teljesítette kezdeti célkitűzéseit, és ezáltal a Duna partján egy igazi világváros született meg. Kiemelt feladatának tartotta az ivóvízhálózat kiépítését. (egy korábbi tankönyv szövege)

A kormányzat úgy kívánt maradandó emléket állítani az évfordulónak, hogy a látványos ünnepeket jelentős összegű állami beruházásokkal kapcsolta össze. (tankönyvi szöveg)

A lakások közel kétharmada mindössze egy szobából és egy kis konyhából állt. (tankönyvi szöveg)

15. feladat: PPT teszt

/1)

/2)

/3)

/4)

/5)

/6)

/7)

/8)

/9)

/10)

/11)

/12)

/13)

/14)

/15)