

Neved: Felkészítő tanárod neve:

Iskolád neve :

Elért pontszámod: / 100 pont

1. Van, ahova előbb, máshova később érnek el történelmi folyamatok. Hány év telt el a hasonló változások között? Karikázd be a megfelelő időintervallumot!

a) Franciaországban és Magyarországon is alkotmányos királyság alakul.

40-50 év 50-60 év 60-70 év

b) A polgári átalakulást biztosító törvények Magyarországon és Franciaországban.

30-40 év 40-50 év 50-60 év

c) A vasúti közlekedés megjelenése Nagy-Britanniában és Magyarországon.

20-30 év 30-40 év 40-50 év

d) Az olasz egységesülési folyamat vége és a német egységesülési folyamat vége.

0-10 év 10-20 év 20-30 év

2. Határozd meg az alábbi történelmi események, elképzelések közötti hasonlóságot!

a) Milyen hasonló okok miatt hívták össze az 1825-ös magyar és az 1789-es francia rendi országgyűlést?

.....

b) Milyen hasonló okok vezették a poroszokat Szilézia, a németeket Elzász-Lotaringia elfoglalásában?

.....

c) Milyen hasonló gazdaságpolitikai elképzelések vezették Bonaparte Napóleont és Kossuth Lajost?

.....

d) Milyen hasonló területi igazgatási rendszerben gondolkodott II. József a 18. században, és Bach belügyminiszter a 19. században?

.....

e) Milyen hasonló negatív következménye volt az első és a második ipari forradalomnak?

.....

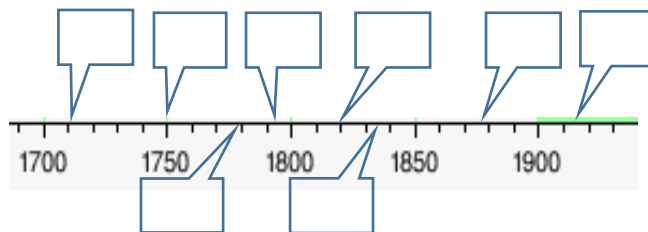
3. Számozd meg 1–3-ig a táblázat soraiban, a megadott szempontok alapján az információkat!

Az 1-es legyen minden sorban a legfontosabb, leghatékonyabb, legnagyobb, legjobb stb.!

szempontok ↓	szám ↓	felsorolás ↓	szám ↓	felsorolás ↓	szám ↓	felsorolás ↓
A kuruc haderő fegyvernemei		gyalogság		tüzérség		lovasság
A felsorolt haderő hatékonysága a 19. század elején		magyar nemesi inszurrekció		Napóleon lovassága		Habsburg haderő lovassága
A felsorolt politikusok reformkori tevékenységének hatása a magyar gazdaság fejlődésére		Petőfi Sándor		Kossuth Lajos		Széchenyi István
A felsorolt országok haderejének minősége az 1. világháborúban		Oroszország		Németország		Románia
Hazánktól a trianoni békében a felsorolt országokhoz elcsatolt területek nagysága		Ausztria		Románia		Csehszlovákia
A felsorolt országok gyarmati területeinek nagysága 1914-ben		Nagy-Britannia		Franciaország		Olaszország

4. Alkoss 7 olyan párt a felsorolt nevekből, akik történelmi időben, tevékenységeikben, törekvéseikben, egymáshoz vagy éppen egymás ellenében kapcsolhatók össze! Ezután írd a betűjelpárokat a megfelelő történelmi időszakot jelző téglalapokba! Egy téglalapbuborék üresen maradjon!

- | | | | |
|---------------------|----------------------|-------------------|---------------------|
| A) Danton | B) Pálffy János, | C) A. Kaunitz, | D) Robespierre |
| E) Kisfaludy Károly | F) Wesselényi Miklós | G) Károlyi Sándor | H) Széchenyi István |
| I) Kazinczy Ferenc | J) A. v. Raab | K) Hargreaves | L) P. v. Hindenburg |
| M) Cartwright | N) Landerer Jenő | O) A. Bruszilov | P) Tisza Kálmán |

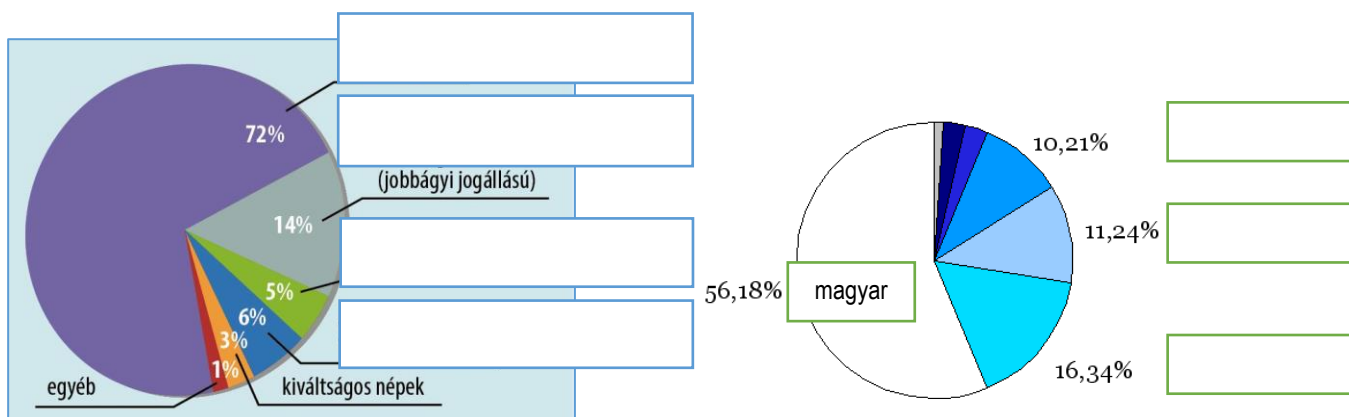


5. Dönts az alábbi állítások igazságtartalmáról a táblázatban leírtak alapján! Tegyd a megfelelő cellába X-et!

történelmi állítás	az állítás mindkét fele igaz	csak az állítás első fele igaz	csak az állítás második fele igaz	az állítás egyik fele sem igaz
a) Mária Terézia 1867-es úrbéri rendeletét parasztmozgalmak előzték meg. A rendeletnek a jobbágyok jobban örültek az Alföldön, mint a Dunántúlon.				
b) II. József jobbágyrendelete támogatta a szabad költözést, a jobbágyságból való kitörést, de nem szüntette meg a feudális szolgáltatások rendszerét.				
c) A magyar jobbágyok röghöz kötése inkább a 18. század első felében volt jellemző, differenciálódásuk nem volt meghatározó a században.				
d) A taksás nemesek gyakran vettek részt a vármegyei közgyűléseken, ahol az uralkodói reformpolitika támogatói voltak.				
e) A magyar polgárság társadalmi, gazdasági, politikai súlya jelentős volt a 18. században, mert városaink lakosai között többségben voltak a kézművesek és az iparosok.				
f) A 18. századi magyar arisztokrácia inkább reneszánsz kastélyokat épített vidéken. Közvetlen birtokirányítási szerepük is csökkent, és nem akartak a rendi törekvések élére sem állni.				

6. Az alábbi hiányos kördiagramok a 18. századi magyar társadalmat és a 20. század eleji nemzetiségi viszonyokat jelenítik meg. Írd be a megadott adatok közül a helyeset a megfelelő téglalapba!

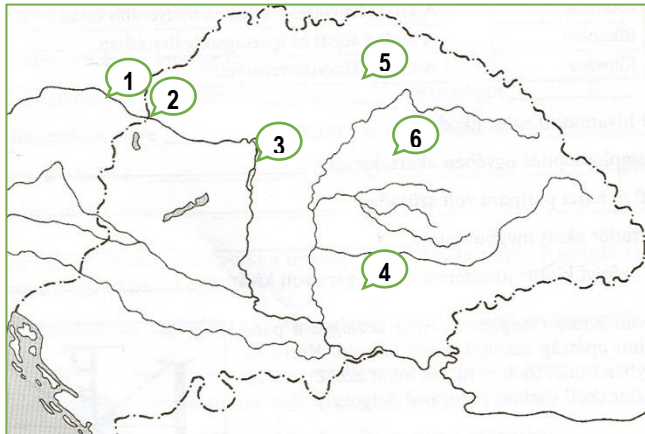
szlovák—mezővárosok lakói—román—német—nemesség—királyi városok lakói—szerb—jobbágyok



7. A térképen jelzett számokhoz köthető helyszínekhez több, akár időben távol lévő események is kapcsolhatók. Töltsd ki a táblázatot!

- A) „...kiderült az ég és 1919. június 6-án újra a szabadság napja süt ránk.”
- B) A Magyar Udvari Kancellária székhelye a 18. században.
- C) A Vix-jegyzék szerint ez a város a semleges területre került.
- D) A fejedelem földi maradványai 1906-ban végső nyughelyükre kerülnek.
- E) Hentzi tábornok veszte.
- F) Helytartótanács helyszíne 1784-ig.
- G) „Megbocsátunk akkor, hogy ha ez az eltévelyedett város visszatér megint hazájához...”
- H) „...a hitszegő Habsburg-Lotharingiai házat az Isten és világ előtt trónvesztettnek nyilatkoztatjuk...”
- I) Kossuth Lajos híres felirati beszéde.
- J) 1848-ban kétszer is kitört itt forradalom.
- K) Az ország 2. legnagyobb ipari központja 1900-ra, a „magyar Manchester”.
- L) Idáig vonattal utazhatott 1848-ban a magyar kormány.
- M) Döntő magyar vereség helyszíne 1849-ben.

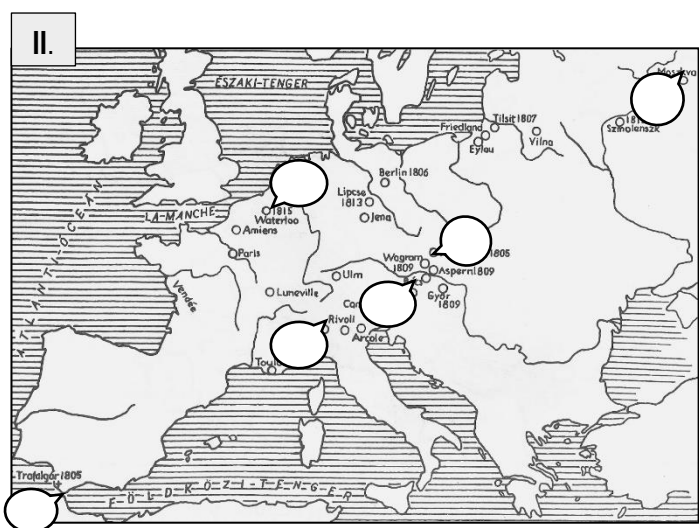
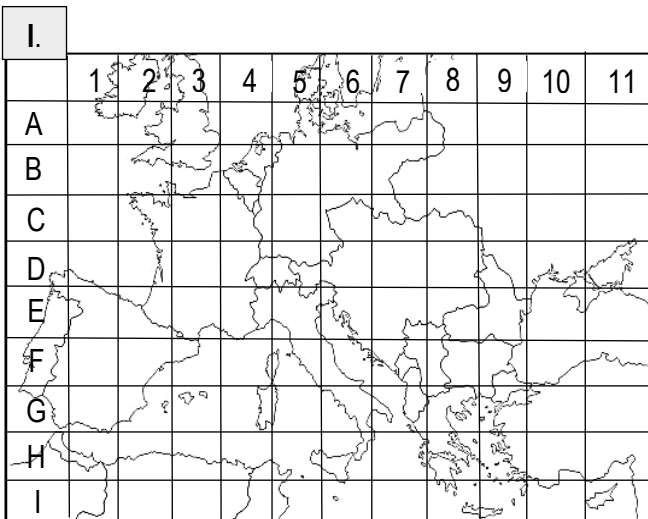
A térképen lévő szám	A helyszínhez kapcsolható 2 betűjel
1	
2	
3	
4	
5	
6	



a2
b2
c2
d2
e2
f2
.../12

8. Melyik cellában található az alábbi események helyszíne? Írj az alábbi történelmi események, leírások után megfelelő „kódszámot” (pl.A2) az I. térképről!

- a) Asszonyok kísérik a királyt vissza a fővárosba.
- b) 1848. március 11-én tör ki itt forradalom.
- c) 1916-ban elfoglalja ezt a fővárost a központi hatalmak hadserege.
- d) III. Napóleon is fogságba kerül itt.
- e) E csata hatása hozzájárul a Vöröskereszt szervezetének megalakításához.
- f) A „Fekete Kéz” nevű nacionalista csoport hajt végre itt merényletet.



a1
b1
c1
d1
e1
f1
g1
h1
.../8

9. Írd a II. térkép megfelelő -ba az alábbi történelmi események, leírások betűjelét!

- a) Nelson admirális győzelme.
- b) Döntő vereség egy visszatért császár felett.
- c) Hiába foglalja el a császár egy másik „császár” városát, az üres és felgyújtott várossal nem tud mit kezdeni.
- d) A porosz király, az orosz cár és az osztrák császár ünnepélyes találkozója és megállapodása.

a1
b1
c1
d1
.../4

10. Adj egy-egy címet az alábbi ábráknak úgy, hogy az alábbi címek közül válogatva, a megfelelő betűjelet beírod a -ba!

a1

b1

c1

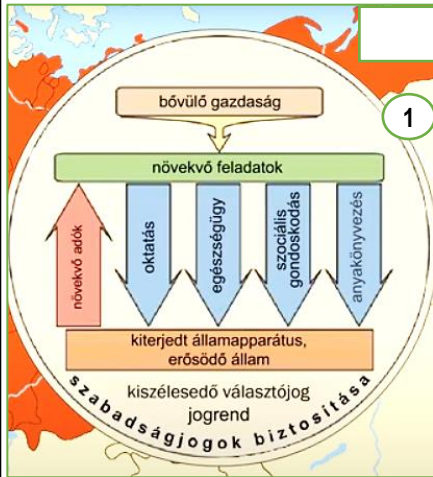
d1

e1

f1

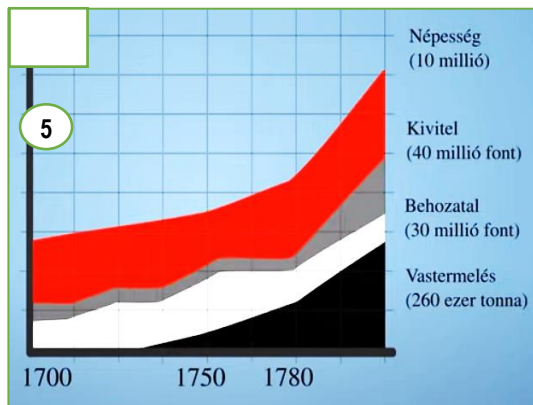
.../6

- A) A tanácskormány döntéseinek közvetlen következménye
- B) A létrejött német polgári állam jellemzői
- C) 1832-36-os reformországgyűlés eredményei
- D) Az első világháború kitörésének okai
- E) Az USA létrejötte és gazdasági fejlődése
- F) A kiegyezéshez vezető folyamat állomásai
- G) A trianoni béke következménye
- H) Az áprilisi törvények
- I) Nagy-Britannia a 18. században



- cenzusos választójog
- közteherviselés
- kötelező örökváltság
- szólás-, sajtó-, lelkiismereti szabadság

- a gyarmati versengés
- a szövetségi rendszerek ellentétei
- a Balkán problémái



11. Töltsd ki betűjelekkel a hiányos folyamatábra téglalapjait! Egy sor egy történelmi folyamat! Mindegyik sor más-más történelmi folyamat! A sötétebb nyilaknak nincs jelentősége!

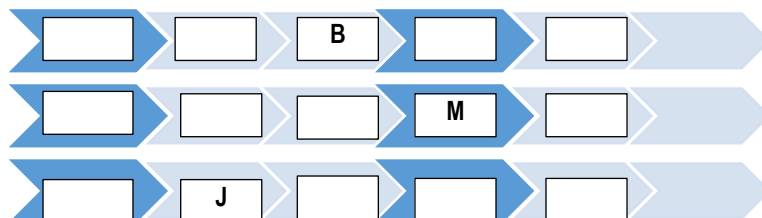
a2

b2

c2

.../6

- A) népmozgalmak Közép-Itáliában
- B) bizonytalan belpolitikai helyzet, katonai puccs
- C) Emberi és Polgári Jogok Nyilatkozata
- D) merkantilista gazdaságpolitika
- E) román csapatok Budapesten
- F) kontinentális zárlat
- G) Savoya és Nizza Franciaországhoz kerül
- H) Apponyi Albert beszéde Versailles-ban
- I) a francia hadsereg kivonul a Pápai Állam területéről
- J) megalakul a Magyar Nemzeti Tanács
- K) „Mindenkinek!” kiáltvány megjelenése
- L) piemonti csapatok küldése a krími háborúba
- M) a „vörösingések” akciója
- N) Tisza István meggyilkolása
- O) az első benzinnel működő jármű
- P) fényűző királyi udvar és sok háború



12. Válaszd meg a képekkel kapcsolatos kérdéseket, oldd meg a feladatokat!

a) Miért ök kaptak szobrot a budapesti Keleti pályaudvar főhomlokzatán?

George Stephenson James Watt



b) Miért pont Baross térnek nevezték el a Keleti pályaudvar előtti teret?

c) Melyik ünnepünket népszerűsítheti a mindigTV oldala?
Dátummal válaszolj!



d) Milyen megfontolásból viselne valaki ilyen pólót?

Egy választ jelölj így: X

- Aki jelezni kívánja Franciaország területi veszteségeit az első világháború után.
- Aki jelezni akarja, hogy mi lett volna Franciaországgal, ha vele hasonló békét kötnek, mint hazánkkal.
- Aki be akarja mutatni hazánk és Franciaország jelenlegi szomszédos országait.

e) Melyik focisták szerepelhetnének a „mai Osztrák-Magyar Monarchia csapatában”? Jelölj meg 5 kört így: X



a1
b1
c1
d1
e2


.../6

13. Egészítsd ki a mondatokat! Ügyelj arra, hogy a mondatok történelmi és nyelvtani szempontból is helyesek legyenek!





- a) Ha FORD nem vezette volna be az autók gyártásánál a(z), nem tudta volna olcsón adni autóit.
- b) 1916-ban a franciaerődjének ostromakor a szembenálló felek 1 millió halottat veszítettek.
- c) Az Osztrák-Magyar Monarchia működésében a közös ügyek tárgyalására mindkét félfős delegációt küldhetett.
- d) Azért igaz az az állítás, hogy a kisméretű egység jött létre 1871-ben, mert a német egységből kimaradt
- e) Az 1830-ban megjelenő Hitel című könyv fontos javaslata volt a(z)törvényének eltörlése, hiszen enélkül a földbirtokosok nem tudták földjeiket hitel fejében zálogba adni, így azokat modernizálni sem.
- f) Hazánkban az első hivatalosnak tekinthető népszámlálástrendelte el.
- g) A nagyhatalmak közül az amerikai elnök,.....volt az egyedüli, aki nem tartotta helyesnek a Párizs környéki békealküldéseket, ezért az USA nem is járult hozzá azok elfogadásához.
- h) Hazánkban mindössze kb. 180 éve hivatalos nyelv a magyar, hiszen az erről szóló törvényt-ben fogadták el.

a1
b1
c1
d1
e1
f1
g1
h1
.../8

14. Kik találkozhattak volna személyesen is abban az időben, amikor kb. annyi idős lehetek, mint az alábbi képeken? Töltsd ki a táblázatot soronként betűjelekkel úgy, hogy minden „találkozó” hárman legyenek! A háromból az egyiket megadja a táblázat.



A		
B		
C		
D		



a2
b2
c2
d2
.../8

15. Melyik forrásban található a táblázatban lévő állítások, leírások? Hasonlítsd össze a forrásokat, majd tegyél X-et a táblázat megfelelő cellájába! Egy sorba csak egy X kerüljön!

állítás, leírás	I. forrás	II. forrás	III. forrás	IV. forrás	több, mint egy forrás	egyik sem
a) A szabadságharc okai.						
b) Az udvar első támadása. Jellasics hadjárata.						
c) Görgei tábornok felvidéki visszavonulása.						
d) A tavaszi hadjárat összes fontos helyszíne.						
e) A szabadságharc leverésére történő utalás.						
f) A magyar honvédség sikerei.						
g) A magyar honvédség minőségi és mennyiségi jellemzői.						
h) Paszkievics és Haynau hadainak hadmozdulatai.						
i) Bem hadműveletei.						

- a1
- b1
- c1
- d1
- e1
- f1
- g1
- h1
- i1
-/9

I. Windisch-Gratz tisztjei már decemberben arról beszéltek, hogy meglepetésükre nem lelkes, de fegyelmezetlen és rosszul kiképzett felkelőkkel, hanem egy bátran küzdő valódi hadsereggel találták magukat szembe. 1848 őszén a cs. kir.(császári királyi) hadsereg Magyarországon állomásozó csapatainak, jelentős hányada a forradalom oldalára állt. Két olasz legénységű zászlóaljat leszámítva magyarországi sorozású alakulatok voltak. Ez 25 ezer jól képzett katonát jelentett. Fontos volt, hogy több mint ezer hivatásos cs. kir. tiszt került át az alakuló honvédseregbe. Kedvező körülmény volt az is, hogy az októberi bécsi forradalom december közepéig elodázta a császáriak általános támadását. Az említett támadás idejére már 100 ezer fős honvédsereget sikerült megszervezni és felszerelni.

1849. március végén a Tiszánál összevont ötvenezer honvéd támadásba lendült. 1849. április 2-án Gáspár András ezredes VII. hadteste a Damjanich János vezérőrnagy III. hadtestével együtt a hatvani ütközetben megverte és visszavonulásra kényszerítette Schlik III. hadtestét. Rá két nap múlva Klapka vezérőrnagy első hadteste Tápióbicskénél Jellasics I.hadtestének utóvédjével ütközött meg. A csatát a magyarok javára Damjanich III. hadtestének megjelenése döntötte el. A hadjárat legnagyobb csatájában április 6-án - a Görgey főparancsnoksága alatti Tápióbicskén győztes hadtestek kiegészülve Aulich II. hadtestével - Isaszegnél megverték Schlik, Jellasics és Windisch-Gratz vezette egyesült hadsereget. Az osztrák hadsereg főparancsnoka megvert csapataival a következő napon visszavonult Pest előterébe.



A kétféjú sas a Habsburgok címerében található, a medve Oroszország jelképe.

