




3. Mit ábrázolnak a képek? (Az esemény és a helyszín megadásával válaszolj a pontozott vonalakon!)



A



B



C

.....
.....



D



E

.....
.....

4. Egészítsd ki az áprilisi törvényekkel kapcsolatos hiányos mondatokat!

**1848^{as} ÉVI
TÖRVÉNYCZIKKELYEK.**

Államjogi szempontból legfontosabb a(z) „..... felelős minisztérium” alakításáról szóló III. törvénycikk, amely a(z) jogkörét erősen korlátozta. Magyarország államformája lett. A törvényhozásban a(z) felváltotta a(z) A kormány felelősséggel tartozott a(z) A kibővített választójogot vagyoni és műveltségi..... köztették.

A feudalizmus felszámolása szempontjából az egyik legfontosabb a jobbágyfelszabadításról szóló IX. törvénycikk, amely „a magán földesurak kármentesítését a nemzeti védőpajzsa alá” helyezte.

| | |
|-------|---|
| a | b |
| c | d |
| e | |
| .../5 | |

| | |
|-------|---|
| a | b |
| c | d |
| e | f |
| g | h |
| .../8 | |

5. Hogyan függnek össze egymással az alábbi napok eseményei? Írd a pontozott vonalakra egy-egy mondatban! (Válaszodban az eseményeket is nevezd meg!)

- a) 1848. február 22. és 1848. március 3.
.....
.....
- b) 1848. október 6. és 1848. október 30.
.....
.....
- c) 1848. április 11. és 1848. december 2.
.....
.....
- d) 1849. március 4. és 1849. április 14.
.....
.....
- e) 1848. október 6. és 1849. október 6.
.....
.....

| | |
|-------|---|
| a | b |
| c | d |
| e | |
| .../5 | |

6. Kinek a névkártyája? Írd a pontozott vonalakra! Képének betűjelét is jelöld!

- Tolna megyei nemesi családból származott.
- Részt vett a Végegylet szervezésében.
- 1848 szeptemberében a Zrínyi – szabadcsapat parancsnoka lett.
- 1848 októberében tábornokká léptették elő.

Neve: Betűjele: ○

- Honvédtábornok.
- 1849 januárjában ő állította meg Schlik tábornok csapatait.
- Nevéhez fűződik a tavaszi hadjárat haditerve.

Neve: Betűjele: ○

- Angliai születésű, francia származású vezérőrnagy.
- Részt vett a schwechati csatában.
- A branyiszkói áttöréssel szerzett hírnevet.

Neve: Betűjele: ○

- A márciusi ifjak egyike. 1848 őszén részt vett Jellasics üldözésében.
- 1849 januárjában megszervezte a Rákóczi-szabadcsapatot, áprilistól Erdélyben szolgált.
- Román felkelőkkel vívott harcban vesztette életét.

Neve: Betűjele: ○




| | |
|-------|----|
| a2 | b2 |
| c2 | d2 |
| .../8 | |



**7. Az alábbi kérdések megválaszolására három-három válaszlehetőséget adunk.
Karikázd be a helyes válasz (esetenként a helyes válaszok) betűjelét!**

- a) Kitől kapta gróf Batthyány Lajos miniszterelnöki kinevezését?
A) V. Ferdinándtól B) József nádortól C) István nádortól
- b) Melyik volt a legnagyobb címletű Kossuth-bankó?
A) ötforintos B) ötvenforintos C) százforintos
- c) Melyik miniszteri tárcát töltötte be a Batthyány- és a Szemere - kormányban ugyanaz a személy?
A) az igazságügyit B) a belügyit C) a vallás-és közoktatásügyit
- d) Kik fogalmazták meg követeléseiket az 1848. májusi lipótszentmiklósi nemzeti gyűlésen?
A) a szerbek B) a szlovákok C) a románok
- e) Ki volt az erdélyi román felkelők vezére?
A) Avram lancu B) Nicolae Bălcescu C) Josip Rajačić
- f) Melyik városokban működött az Állami Országos Fegyvergyár?
A) Pesten B) Nagyszebenben C) Nagyváradon
- g) Kinek helyes a kiküldetési helyszíne?
A) Szalay László, Párizs
B) Teleki László, Frankfurt
C) Teleki László, Párizs
- h) Melyik huszárezred felszereléséhez tartozott a pörge kalap és a karikás ostor?
A) Lehel B) Bocskai C) Hunyadi
- i) Kik harcoltak az ozorai ütközetben?
A) Teleki Ádám B) Perczel Mór C) Görgei Artúr
- j) Hol „dörgött az ágyú” négy napig Petőfi szerint?
A) Nagyszeben s Déva közt B) Vizakna s Déva közt C) Dész s Vizakna közt
- k) Ki és mikor mondta magyar seregről? „Ez nem egy szedett-vedett lázadó csorda. Ez egy hadsereg.”
A) Windisch-Grätz, az isaszegi csata után B) Ferenc József, az isaszegi csata után C) Windisch-Grätz, a schwechati csata után
- l) Hol hívta „egy kis nyúl vadászatra” katonáit Schlik tábornok?
A) Hatvannál B) Vácánál C) Nagysallónál
- m) Melyik csatában állt a „húsvéti bárány” a magyarok oldalára?
A) tápióbicskei B) isaszegi C) váci
- n) Ki előtt tette le a fegyvert Görgei Artúr?
A) Paszkievics előtt B) Rüdiger előtt C) Haynau előtt
- o) Melyik erőd tartott ki legtovább?
A) Komárom B) Pétervárad C) Arad

| | |
|--------|---|
| a | b |
| c | d |
| e | f |
| g | h |
| i | j |
| k | l |
| m | n |
| o | |
| .../15 | |

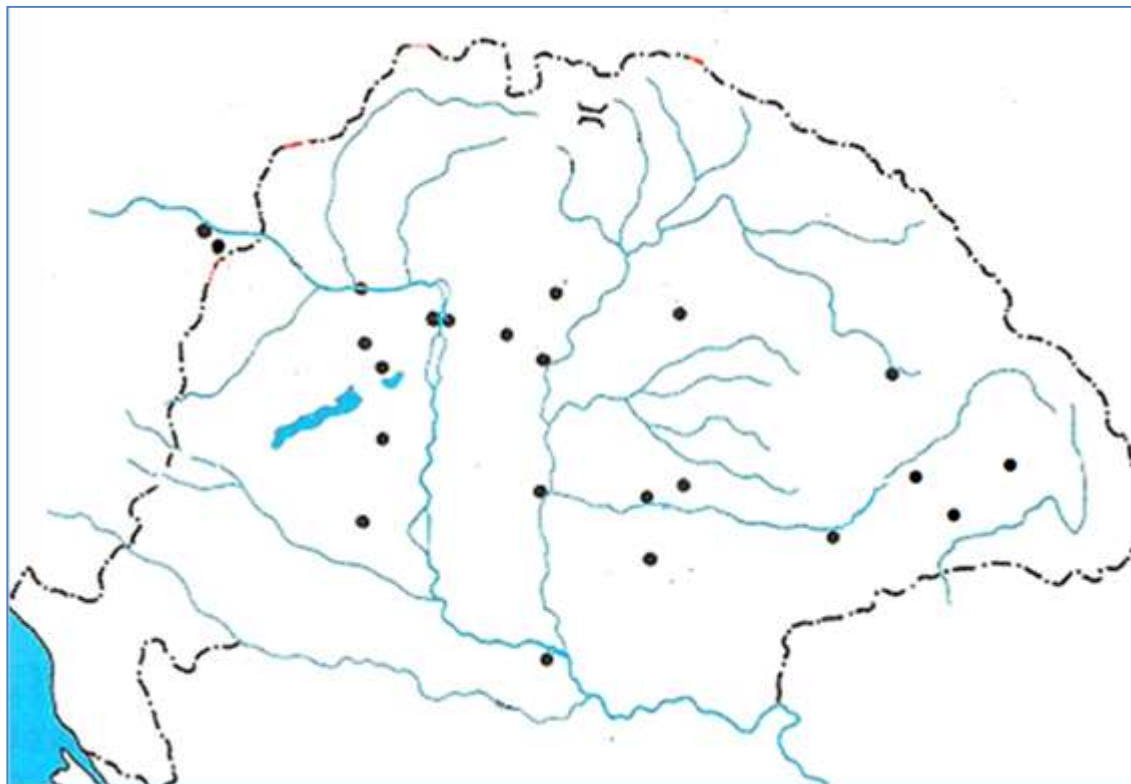


**8.1. Milyen jelentős esemény történt az 1848-as és 1849-es években az alábbi helyszíneken?
Válaszolj a táblázat kitöltésével!**

| Helyszín | Esemény |
|-------------|---------|
| Karlóca | |
| Balázsfalva | |
| Ozora | |
| Piski | |
| Szolnok | |
| Tápióbicske | |
| Szeged | |
| Temesvár | |

| | |
|--------|---|
| a | b |
| c | d |
| e | f |
| g | h |
| i | j |
| k | l |
| m | n |
| o | p |
| .../16 | |

8.2. Jelöld a helyszíneket a térképvázlatban!





| | |
|--------|---|
| a | b |
| c | d |
| e | f |
| g | h |
| ii | j |
| k | l |
| m | n |
| o | p |
| q | r |
| s | t |
| u | v |
| w | |
| .../23 | |

9. Esszé: Hasonlítsd össze Széchenyi István és Kossuth Lajos reformprogramját 1848 márciusáig!

Térj ki válaszodban a következőkre:

- Programjuk azonosságai és különbségei
- Mely társadalmi csoportokra kívántak támaszkodni?
- Hogyan képzelték el a gazdasági, társadalmi és politikai megújulást?

Használd fel az alábbi forrásokat és tanult ismereteidet!

Fejtsd ki megszerkesztett mondatokban válaszodat egy oldalban!

Ügyelj a szöveg tagolására és a helyesírásra!

Források:



Széchenyi István

„1-ször A Hitel. De Hitelt ... mindaddig nem állíthatni fel valódi sikerrel, míg nincs

2-szor eltörölve az ... [ősiség].

4-szer a ... [birtokbírhatás joga]. Ha pedig a nemtelen is bírhat ingatlant, kell neki teljes személy és vagyonbeli bátorság [biztonság], azaz

5-ször törvény előtti egyformaság.” (Részletek a Stádiumból, 1833)




Kossuth Lajos

„Alkottassék törvény, mely a földesurat kötelezze, hogyha jobbágya magát örökösön megváltani akarja, azt ellenezni ne legyen hatalmában. ...”

(Kossuth Hetilap, 1846)

„A nemzeti erő megtörhetetlen magköve: egyenesen a középrendű nemességben keresendő, azon középrendben, mely nem áll oly magasan, hogy osztály-érdekeit, a nemzeti tömeg érdekeivel ellentétben képzelné. ...”

(Kossuth, Pesti Hírlap)



„... csak most lábadozó, nemzetté virulni csak most akaró népünket az anarchia örvényébe” taszítja. ...”

„...roppant s valóban ritka elmebeli tehetségirül senki csak legtávolabbrul sem kételkedik. Hanem *taktikája, modorja hibás.*”

(Széchenyi Kossuthról, Kelet népe, 1841)



Karikatúra Széchenyi és Kossuth vitájáról



A large rectangular area containing horizontal dotted lines for writing.