


3. A képeken a reformkori kulturális élet néhány jeles alakja látható. A képek alatt felsorolt tények, állítások *kapcsolódnak (I.)* illetve *kapcsolatba hozhatók (II.)* ezen személyekkel.



a	b
c	d
e	f
g	h
i	j
k	l
.../12	

- (I.) A személyekhez KAPCSOLÓDÓ tények, állítások:**
- (1) A finnugor népek tanulmányozása
 - (2) A magyarok története (1842-1846)
 - (3) Tibeti-angol szótár
 - (4) Zalán futása
 - (5) A villanymotor
 - (6) Hunyadi László
 - (7) Balatonfüredi színház
 - (8) Budai óvoda

- (II.) A személyekkel KAPCSOLATBA HOZHATÓ tények, állítások:**
- (1) Flóri könyve
 - (2) Egressy Béni
 - (3) Orlay Petrich Soma
 - (4) Nagyenyei református gimnázium
 - (5) Az anyák megmentője
 - (6) Eötvös: Magyarország 1514-ben
 - (7) Nemzeti Színház karmestere

Minden kép betűjele mellé írd egy-egy tény, esemény sorszámát az (I.) és a (II.) felsorolásból!

KÉP:	(I.)	(II.)
A	<input type="text"/>	<input type="text"/>
B	<input type="text"/>	<input type="text"/>
C	<input type="text"/>	<input type="text"/>
D	<input type="text"/>	<input type="text"/>
E	<input type="text"/>	<input type="text"/>
F	<input type="text"/>	<input type="text"/>

4. A feladatok a nemzetiségi kérdéssel kapcsolatosak.

4.1 Nevezd meg, melyik nemzetiség lakta többségben, vagy relatív többségben az alábbi vármegyéket!

Közép-Szolnok, Kraszna, Arad: Torontál:

Ung, Bereg, Ugocsa: Moson:

Trencsén, Árva, Bars :

4.2 Töltsd ki a hiányos táblázatot!

Nemzetiség	Nemzetiségi központ	Nemzetiségi mozgalom jellemzése <i>(sorszám)</i>	Nemzetiségi vezető <i>(betűjel)</i>
horvát			
	Karlóca		
	nem volt		
román			
		(1)	

A táblázat kitöltéséhez használd fel a következőket:

A nemzetiségi mozgalmak rövid jellemzése:

- (1) Nemesei szinte teljesen magyarnak tartották magukat. Erős kölcsönhatásban éltek a magyar néppel. Lelkészeik fogalmazták meg egyénjogosító törekvéseiket 1848-ban, ennek ellenére sokan a magyar honvédseregben is szolgáltak.
- (2) Jobbágyparasztok, iparúzők, tekintélyes városi polgárok egyaránt akadtak közülük. Főként ez utóbbiak igyekeztek nagyobb befolyást elérni a helyi politikában. 1848-ban egységes követelésekkel nem léptek fel.
- (3) A legszegényebb legelmaradottabb vidéken éltek. Nemcsak nemességük, értelmiségük sem volt, papjaik egy részét leszámítva. 48-ban egységes követelésekkel nem léptek fel.
- (4) Széles körű önkormányzattal rendelkeztek, nemesei hasonló jogokat élveztek, mint a magyar nemesek. Vezetőik 48-ban polgárháborús állapotot teremtettek.
- (5) Vezetőik kiemelkedve általában beolvadtak a magyar nemességbe. Papjaik, polgári értelmiségeik vezette követeléseik az egyenjogúságot célozták meg. A késve érkező nemzetiségi törvény náluk békülékenységet hozott.
- (6) Egyházuk önkormányzatot élvezett, katonatisztjeik, papjaik, polgári értelmiségeik autonóm követelésekig is eljutnak. 48-ban polgárháborús állapotok alakultak ki.


Nemzetiségi vezetők:

- (A) Nicolae Balcescu (B) Djorde Stratimirovic (C) Janko Draskovic gróf
(D) Zitterbath Mátyás (E) Ludevít Stúr (F) nem volt (nem ismert)

a	b
c	d
e	f2
g2	h2
i2	j2
... / 15	

a	b
c	d
e	f
.../6	

5. Írj rövid „emléktábla – szövegeket”, amelyek elhelyezhetők lennének azokon az épületeken, amelyeket a képeken láatsz!



.....
.....
.....



.....
.....
.....




.....
.....
.....



.....
.....
.....



.....
.....
.....



.....
.....
.....

6.1 Jelöld aláhúzással, hogy a következő felsorolások melyik tagja nem illik (történelmi szempontból) a sorba! Választásodat indokold is a pontozott vonalon!

Pollack Mihály - Hild József - Ferenczy István – Zitterbarth Mátyás

.....
Petőfi Sándor - Táncsics Mihály - Vasvári Pál - Jókai Mór

.....
Piski - Vízakna - Segesvár - Temesvár


6.2 Írd a pontozott vonalra, milyen közös történelmi szerep, tény, stb. fűzi össze a következő felsorolások tagjait!

Pest - Debrecen - Szeged

.....
Buda - Temesvár - Pétervárad - Zágráb - Nagyszében

.....
Láhner György - Kiss Ernő - Nagysándor József

**7. A szabadságharc megítélése Londonban
Válaszd meg az alábbi forrásokhoz kapcsolódó kérdéseket!**



Kossuth harca a kétféjű sassal (olasz gúnyrajz)

„Tudtam, hogy Lord Palmerston hivatalosan nem fogadhat, ezért a magas társadalmi körökbe igyekeztem bejutni, hogy ily módon juthassak be az angol külügyminiszterhez is, ki természetesen az osztrák régi szövetségést nem hagyhatta el, s csakugyan kevés nap múlva bevezettettem kabinetjébe a Downing Streetben, s ő ...rokonszenvileg nyilatkozott a magyar ügy iránt, s kárhóztatta az osztrák politika eljárását velünk szemben, de mégis megjegyezte, hogy Ausztria oly hatalom, melyet fel kellene találni, ha nem léteznék már, mint európai szükségességét s Angolországok természetes szövetségését keleten. Tanácsolta tehát, egyezkedjünk ki, mert az európai politika keretébe nem illenek be kis államok azon a helyen, amelyet Ausztria foglal el. Rokonszenva a mienk, de előre is megjegyzi, hogy Angolországtól ne várjunk semmi egyebet a rokonszenvnél, legfeljebb közbenjárást Ausztria politikájának mérséklésére.”

(Pulszky Ferenc: Életem és korom)

Kérdések:

a) **Mi lehetett Pulszky Ferenc londoni utazásának célja?**

b) **Mit jelent az, hogy az angol külügyminiszter hivatalosan nem fogadta a magyar kormány képviselőjét?**

c) **Miért tartotta Palmerston a magyar ügynél fontosabbnak a Habsburg Birodalom fennmaradását?**

d) **Milyen művészi kifejező eszközökkel jeleníti meg a grafikus a gúnyrajzon azt, hogy ő a magyar ügyet szimpatizál?**

a	b
c	d
e	f
g	h
i	
.../9	

a	b
c	d
.../4	

8 Oldd meg a térképészettel kapcsolatos feladatokat!

8.1 Írd a térképészlet jelöléseire a birodalom részeinek, vagy a szomszédos államoknak a nevét!

8.2 Jelöld a térképészletben azokat a városokat pontokkal és számjeleikkel, amelyekre a következő állítások igazak!

1. Az első 48-as forradalmi helyszín a Habsburg Birodalomban
2. Itt nyújtotta át V. Ferdinánd a szentesített törvényeket
3. Itt tették le a fegyvert és adták meg magukat Jellasics segédcsapatai
4. Bem által elfoglalt város, osztrák hadianyagraktár
5. Ide tervezte Görgey a magyar főerők összpontosítását 1849 nyarán
6. A fegyverletétel helyszíne

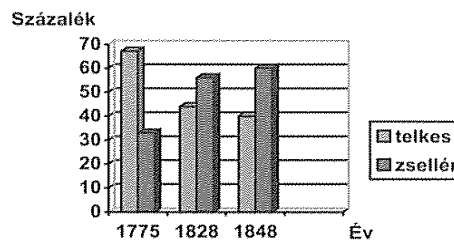
a	b
c	d
e	f
g	h
i	j
k	l
m	n
o	
.../15	



9. Esszé: A jobbágykérdés a reformkorban

Mutasd be, milyen javaslatok és milyen eredmények születtek a jobbágykérdés megoldására a reformkorban! Használd fel az alábbi forrásokat és tanult ismereteidet is! (Válaszodat megszerkesztett mondatokban fejtsd ki egy oldalban!)

„Magyarország lakosságának 90%-a semmilyen kiváltsággal nem rendelkezett: ide tartoztak a telkes jobbágyok, akiknek volt saját használatú földjük, és a föld nélküli zsellérek....Mindannyian a földesúr joghatósága alatt álltak.” (Gergely András nyomán)



Telkes jobbágyok és zsellérek

Időrend:

1831	Kolerafelkelés
1832-36	Az országgyűlés napirendre tűzi az önkéntes örökváltságot
1839-40	Az országgyűlés elfogadja az önkéntes örökváltságot
1847/48	Az ellenzék elfogadja a kötelező örökváltságot

„És ki nem tapasztalta, ki robotban is, béresek által is dolgozott, hogy azon munkát, melyet egy helyes jobbágy rossz ekéjével...52 nap alatt, vagy ügyetlen cselédje és zsenge korú gyermekei által 104 nap alatt tud végezni, maga béreseivel, jó szerszámokkal...a mondott idő egy harmad része alatt nem vihette végbe.” (Széchenyi: Hitel)

„Mi fékezheti meg tehát a nép elkeseredett dühét? „Ezt csak megszelídíteni lehet. Nem egyébbel pedig, csak oly közös érdekekkel, mely a társaság (társadalom) tagjait egyformán kösse a hazához: s ez érdek csupán két szó: szabadság és tulajdon.” (Kölcsey Ferenc)

„Addig engedjen a nemesség kiváltságaiból, amíg a nép nem kényszeríti erre.”
(Kossuth Lajos)

„A föld tehát mienk, kik míveljük, következésképpen érte megváltási díjjal igazságosan nem tartozunk.” (Táncsics Mihály)

□ □ □ □ □ □

