

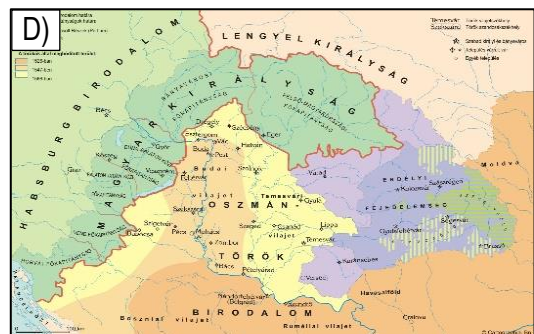
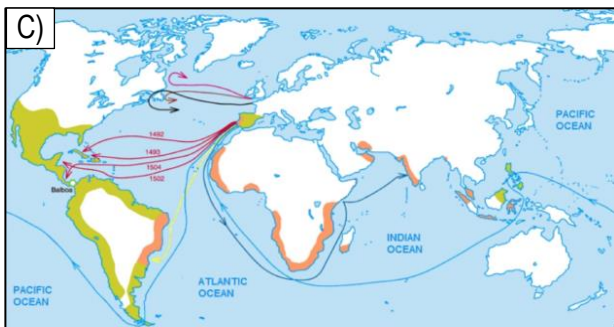
Neved: Felkészítő tanárod neve:

Iskolád neve : Elért pontszámod: / 85

1/A. Melyik térképpel kapcsolatosak a kitalált mondatok? Írd a mondatok után a megfelelő térkép betűjelét!

- a) Sikerült átkelnünk a szoroson, de sajnós egy hajót elvesztettünk, egy pedig visszazökött Spanyolhonba.
- b) Bár hadvezérük kitartó volt, az élelemhiány megtette a hatását, megnyitkák előttem Bécs kapui.
- c) Spanyol és német katonáim követelésére engedélyt adtam katonáimnak a vár elhagyására. Remélem, ellenfelünk is betartja ígétét!
- d) Azt gyanítom, hogy összeesküvést terveznek ellenem. Ha történik velem valami, a bátyám bosszúja el fogja érni ellenségeimet.
- e) Nem viselnek, és nem ismernek vasfegyvereket. Mindenféle csecsebecsét nagy értéknek gondolnak.
- f) Két napig hordták embereim és a környék parasztjai a nádat a híd alá. Szép kis tüzet raktunk alája.

a1
b1
c1
d1
e1
f1
.../6



1/B. Dönts az alábbi állítások igazságtartalmáról! Írj utánuk „igaz” vagy „nem igaz” kifejezést!

- a) Igaz-e, hogy a „B” térkép egy időrend szerint készült atlaszban előbbre lenne található, mint a „D” térkép?
- b) Igaz-e, hogy a „C” térképpel kapcsolatos történelmi események egyidőben voltak az „A” térkép eseményeivel?
- c) Igaz-e, hogy az „A”, „B”, „D” térkép eseményei hazánk történelmét tekintve időrendi sorrendben vannak?
- d) Igaz-e, hogy az „A”, „B”, „D” térkép eseményei idején ugyanaz az uralkodócsalád uralkodott hazánkban?
- e) Igaz-e, hogy a „C” térképen ábrázolt események megváltoztatták a világról alkotott gondolkodást?

a1
b1
c1
d1
e1
.../5

2. Hiányos a blogoldal profilja! Írd a pontozott vonalra az illető személy vezetéknevét!

a2

.../2

Utazó és kalandor

Kezdőlap Rólam Kapcsolat



Francisco.....

Felfedező és kalandor

Utazó és felfedező vagyok.
1531-ben katonáimmal egy távoli birodalmat döntöttünk meg.
Rengeteg aranyat szereztünk.

3. Írd az ábrán található „?”-ek helyére a megfelelő fogalmat! A megadott fogalmak közül választhatsz!

a1

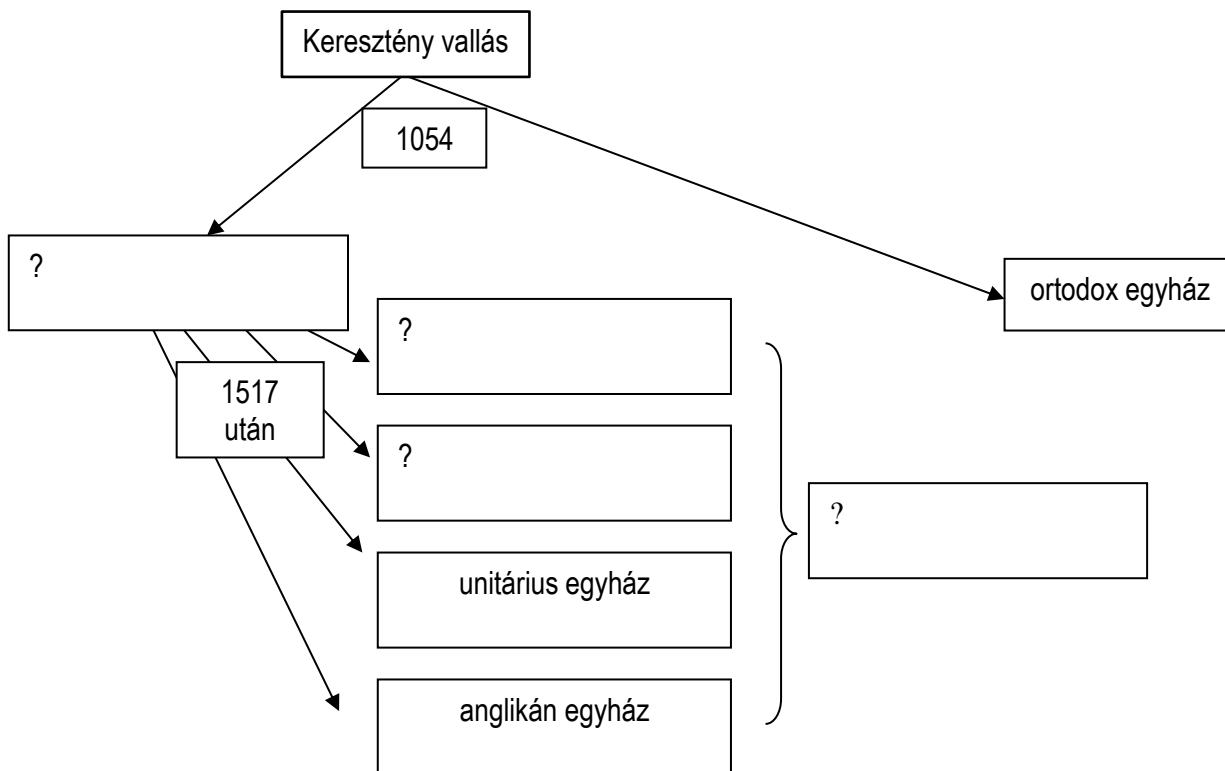
fogalmak: zsidó vallás, evangélikus egyház, protestáns egyházak, katolikus egyház, iszlám vallás, református egyház

b1





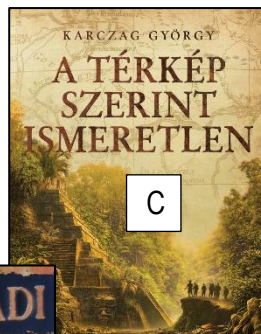

c1

d1

.../4



4. Egy tanuló a mellékelt polcra szeretné rendszerezni a történelemmel kapcsolatos könyveit. Segíts neki a könyvek betűjeleit a megfelelő polcra írni!



- a1
- b1
- c1
- d1
- e1
- f1
- g1
- h1
- i1
- j1
- .../10

5. Döntsd el a soronkénti történelmi eseményekről, adatokról, hogy azok helyes vagy helytelen időrendben követik-e egymást! Tegyéél „X”-et soronként a táblázat megfelelő oszlopába!

- a) I. (Nagy) Lajos - I. Mária - I. (Luxemburgi) Zsigmond - V. László - I. (Hunyadi) Mátyás
- b) II. (Jagelló) Ulászló - I. (Szapolyai) János - II. Lajos - I. (Habsburg) Ferdinánd
- c) Vasco da Gama eljut Indiába - megjelenik Luther 95 pontja - Mohácsi csata - Eger ostroma
- d) Első magyar nyelvű Biblia - 15 éves háború - Leonardo da Vinci halála - Szigetvár ostroma
- e) Buda török kézre kerül - Kőszeg ostroma - Bethlen Gábor fejedelmesége - Török kiűzése
- f) Kálvin új egyháza - Magellán útja - XIV. Lajos halála - Thököly fejedelmesége

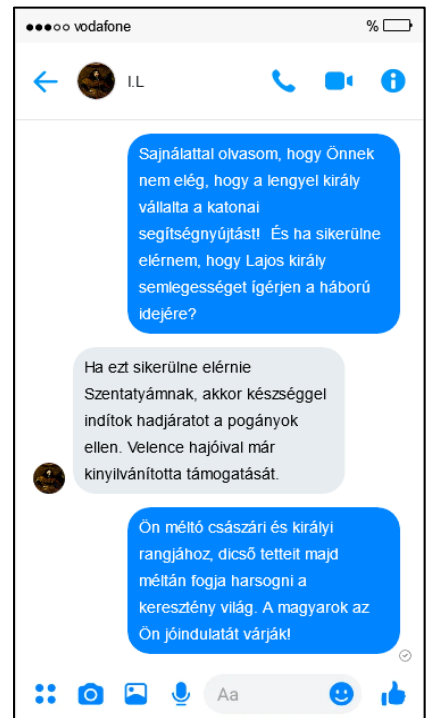
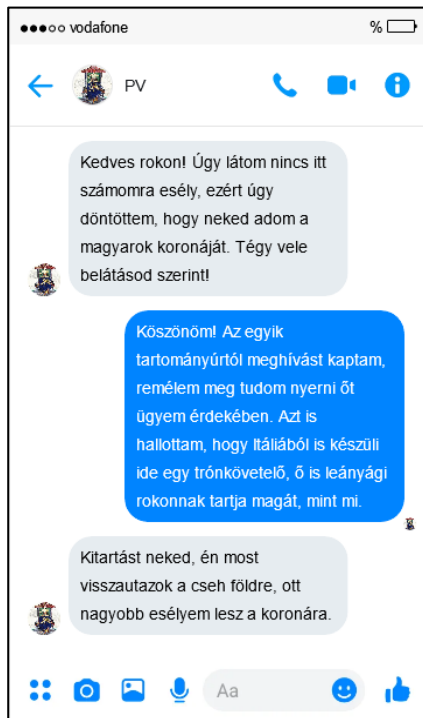
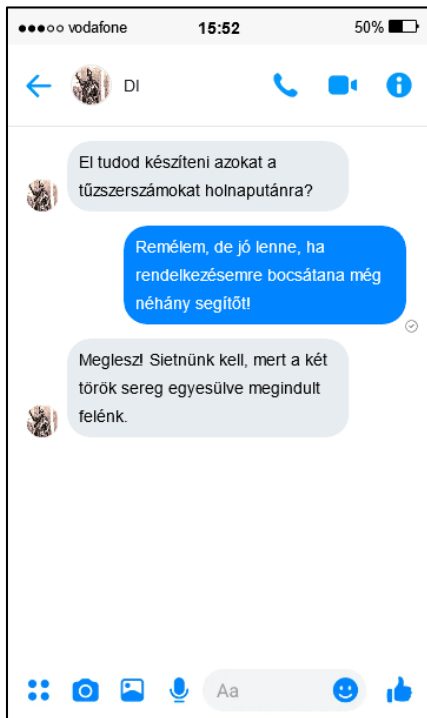
Helyes	Helytelen

- a1
- b1
- c1
- d1
- e1
- f1
- .../6

6. Döntsd el az alábbi leírásokról, hogy azok történelmi tények vagy csak vélemények! Írj soronként a táblázat megfelelő részébe „X”-betűt!

leírás	tény	vélemény
Mátyás király a legjelentősebb királyunk volt.		
A reformáció elősegítette az anyanyelvi kultúra terjedését.		
Az azték uralkodók szebb piramisokat építettek, mint az egyiptomi fáraók.		
Zsigmond királyunk nem ehetett paprikás krumplit.		
XIV. Lajos hiú és gőgös uralkodó volt.		
A barokk épületek jellemzője a mozgalmasság, a hullámzó vonalak, a gazdag díszítés.		

7. Mely történelmi személyek írhatták volna egymásnak a telefonokon lévő kitalált szövegeket? Nevezd meg a chatszövegek íróit!



két történelmi személy neve:

két történelmi személy neve:

két történelmi személy neve:

a1
b1
c1
d1
e1
f1
.../6
a1
b1
c1
d1
e1
f1
.../6

8. Csoportosítsd a felsorolt adatokat! A már beírt adatok alapján végezd a csoportosítást! Írj minden 4-es csoportba még 3 adatot! Egy adat csak egy helyen szerepelhet!

inkvizíció, mozsár, Leonardo da Vinci, manufaktúra, vizesárok, barokk, jezsuiták, bárók, Galileo Galilei, vármegyei nemesség, reneszánsz, portya, napközpontú világkép, misszió, jobbágyok, Nagy Francia Enciklopédia, részvény, tőzsde

Isaac Newton	
tudomány	

prédikátor	
vallás	

kódexfestészet	
művészet	

tűzéréség	
hadászat	

tőke	
gazdaság	

polgárság	
társadalom	

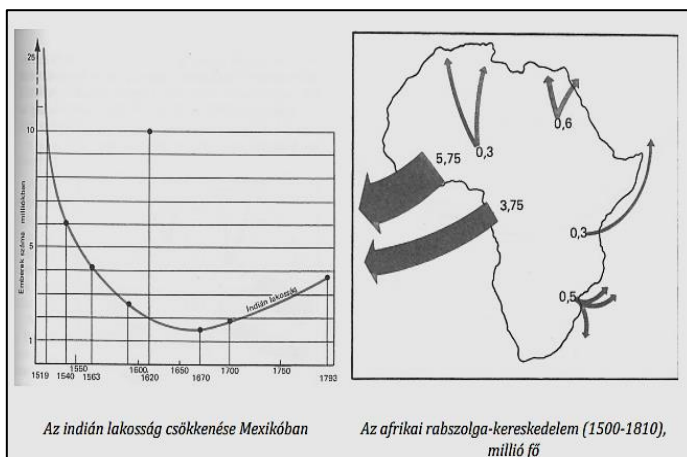
9. Írj 3 történelmileg összefüggő mondatot az ábrák lényegi mondanivalója alapján!

.....

.....

.....

Spanyolországi nemesfém-behozatal		
év	ezüst (tonna)	arany (tonna)
1503-1510	-	4,97
1511-1520	-	9,15
1521-1530	0,15	4,89
1531-1540	86,19	14,47
1541-1550	177,57	24,96
1551-1560	303,12	42,62
1561-1570	942,86	11,53
1571-1580	1118,59	9,43
1581-1590	2103,03	12,10
1591-1600	2707,63	19,45



- a2
- b2
- c2
- d2
- e2
- f2
- .../12

- a1
- b1
- c1
- .../3

10. Jelöld „+” jellel azokat az állításrészeket, melyek történelmileg helyessé teszik az állítások első felét, „-” jellel, melyek helytelenül!

állítás első fele	állítás második fele	a befejezések jelölése
Hazánk elvesztette a törökök elleni küzdelmet a 16. századra, mert....	...politikai rendszere elavultabb volt ellenfelénél.	
	...katonai ereje alulmaradt ellenfelénél.	
	...gazdasági ereje elmaradt ellenfelétől.	
A 17. századra Nyugat-Európában átalakult a társadalom, vagyis....	...megerősödött a jobbágy-földesúr kapcsolat.	
	...megindult a polgárosodás.	
	...megszűnt a rabszolgaság.	
Hunyadi Jánost méltán tartják Magyarország legjelentősebb hadvezérnek, hiszen...	...az összes csatáját megnyerte a török ellen.	
	...királyként élete nagy részét a törökellenes harcoknak szentelte.	
	...mindent megtett, hogy megvédje hazánkat a török támadásoktól.	

a1
b1
c1
d1
e1
f1
g1
h1
i1
.../9

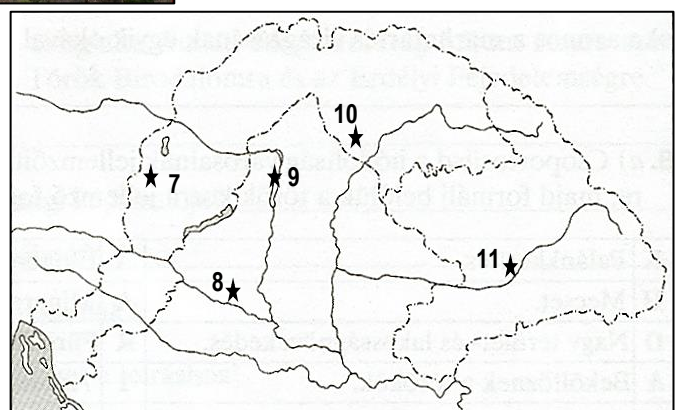
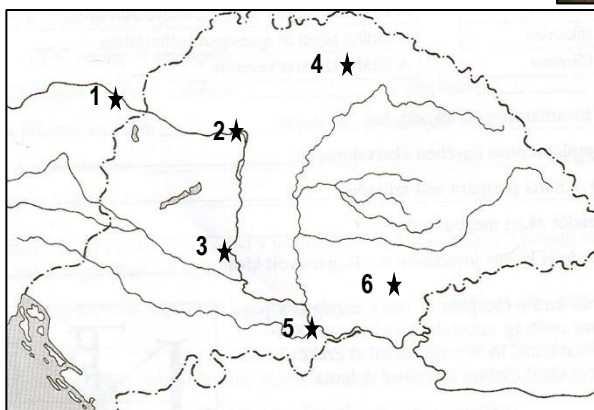
11. Írj megfelelő számjegyet a két térkép valamelyikéről a számhoz tartozó kép, leírás négyzetébe!



„...Magyarország királya, Károly, ötszáz márka legfinomabb aranyat adott neki, hogy megváltsa őt a cseh királynak fizetendő adózástól.”

„...A király sorainkból akkor tűnt el, mikor az ellenség ágyúi megszólaltak, s a jobbszárny futásnak eredt.”

a1
b1
c1
d1
e1
f1
g1
.../7



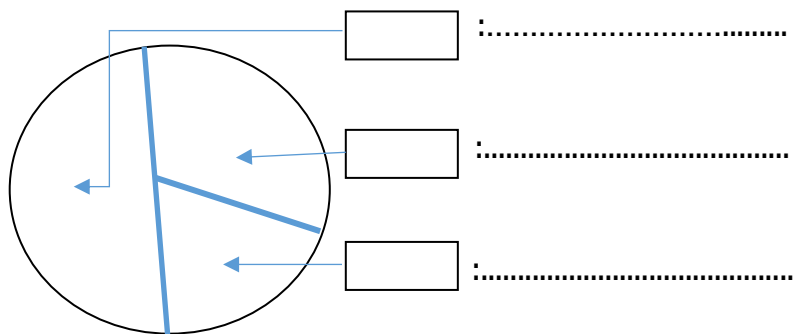
12. Oldd meg az alábbi szöveggel kapcsolatos feladatokat!

Az Erdélyi Fejedelemség etnikai sokszínűsége, népcsoportjainak különféle jogállása és vallása révén a korabeli Európa egyik legsajátosabb államalakulata volt. Erdély három alapvető etnikumnak - a magyarnak, a románnak és a németnek (szásznak) - adott otthont. A magyar nép Erdélyben az eltérő történelmi fejlődés következtében két csoportból, a magyarokból és a székelyekből állott. A fejedelemség korszakában a sík- és dombvidéket a magyarok, a keleti és délkeleti hegy-völgyeket a székelyek, míg Dél-Erdély egy részét és az északi Beszterce-vidéket a szászok lakták. A román települések eredetileg a Bihar és az Érchegység magaslatain, a Hunyad és Fogaras környéki hegyvidéki tájakon voltak, az erdélyi állam fennállása alatt azonban már folyamatos a románoknak a szántóterületekre költözése. A XVII. század közepén Erdély népességének közel a fele volt magyar, egyharmada román, egyötöde szász. A fejedelemség idejének nagyobb részében - Európában egyedülálló módon - Erdély népei számára négy vallás szabad gyakorlását biztosította a törvény: a katolikus, a lutheránus, a református és az Erdélyben kialakult unitárius vallás szabadságát. Az ortodox vallást is gyakorolhatták híveik.

a-d) Írd le Erdély 4 népcsoportjának nevét a fenti szövegben olvasott vallásával együtt, ha tudjuk, hogy a magyarul beszélő kisebb népcsoport többsége nyugati keresztény maradt, a nagyobb népcsoport inkább Kálvin János egyházához csatlakozott. A szászok a német nyelvterületről induló protestáns vallást vették át. A románok megmaradtak a régi, keleti keresztény hitükön.

<i>népcsoport neve</i>	<i>népcsoport szövegben olvasható vallása</i>

e-g) Felosztottuk a kördiagramot Erdély lakossági arányának megfelelően. Készíts jelmagyarázatot a kördiagramhoz! A téglalapokba arányszám (pl. 10%) kerüljön!



13. Magyarázd meg, hogy miért a visegrádi reneszánsz kút került az 1000 Ft-os hátoldalára?

magyarázat:.....

.....

.....

.....

.....

.....



a1
b1
c1
d1
e1
f1
g1
.../7

a2
.../2