

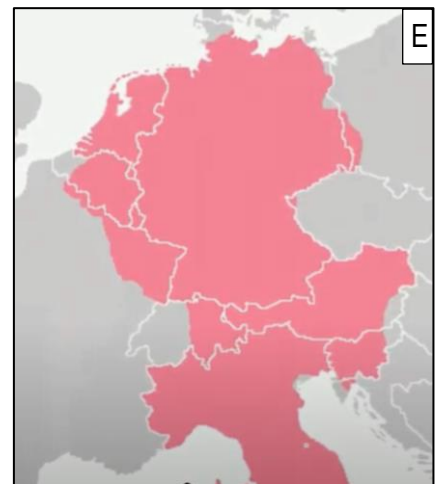
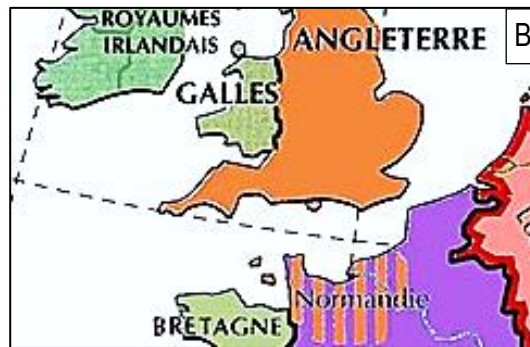
Sorszámod:

Elért pontszámod: /120 pont

1. Töltsd ki a táblázatot a megfelelő térkép betűjével! Egy sorba csak egy betűjel (a legjellemzőbb térkép betűjele) kerülhet, de egy-egy betűjel többször is szerepelhet az oszlopban.

a1
b1
c1
d1
e1
f1
g1
h1
.../8

térképekkel kapcsolatos állítás	betűjel
A viking hódítás eredménye látható a térképen.	
A mai országok területeire helyezték az egykori császárságot.	
Az első Capetingek befolyási területei láthatók a térképen.	
Egy nyíl térképre rajzolása után ráírható lenne arra az 1066-os évszám is.	
Frank területi igazgatási forma olvasható le a térképről.	
A Magyar Királtsággal közel egyidőben létrejött királyság látható a térképen.	
I. Ottó uralkodásához köthető a térkép.	
Ezen a térképen olvasható annak az országnak a neve, melynek nyelve görög, vallása ortodox.	



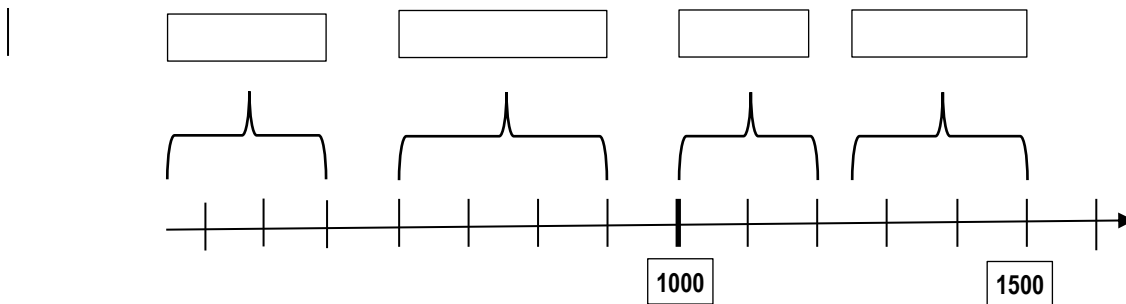
2. Húzd alá a felsorolt történelmi adatok közül azt a négyet, mely a Frank Birodalomhoz kapcsolható!

- első rendi gyűlés—poitiers-i csata—rigómezei csata—dominátus rendszere—verduni szerződés—
pápai állam létrejötte—első bencés kolostor megalakulása—szász törzsek meghódítása

a1
b1
.../2

3. Melyik időszakban történtek az alábbi események? Írd a történelmi adatok betűjelét a megfelelő téglalapba!

- | | |
|--|---|
| a) a 7 választófejedelem rendszerének létrejötte | b) a vandálok megszállják Észak-Afrika egy részét |
| c) Jeanne D'Arc győzelmei | d) a fekete halál legnagyobb pusztítása |
| e) Kis Pippin uralkodása | f) őseink kazár befolyás alatt |
| g) Verocchio művészeti iskolája | h) Horvátország a Magyar Királyság befolyása alá kerül |
| i) Jeruzsálemet elfoglalják a kereszttesek | j) a mai Pécs területén megalakul az első keresztény közösség |



4. Töltsd ki a megfelelő szabály alkalmazásával a táblázatok hiányzó részeit! Mindegyik táblázatnál más-más szabály működik.

900	1000	1100	1200	1300
Árpád	I. István			

Frank Birodalom	Oszmán Birodalom 1453 előtt	Magyar Királyság 1250 után	Arab Birodalom Harun ar Rasid uralkodása idején	(kelet)Római Birodalom 476 után
Achen				

I. István	I. Salamon	III. Béla	IV. Béla
Gizella			

5. A soronkénti felsorolások közül három egy-egy városhoz köthető. Húzd alá soronként mindig azt az egyet, amelyik nem kapcsolható az adott városhoz!

- a) törvénylátó nap—szerepel a tihanyi alapítólevélben—itt koronázták meg I. Istvánt—Szentföldi zarándokút állomása
- b) fő mecénása volt Laszkarisz Mária—kereskedőváros—mai neve Split—itt született Szent Margit
- c) tengeri átjáró—arab uralom—dupla városfalak—könyvtárak és lóversenypályák

6. Dönts az alábbi összefűzött történelmi állítások tartalmáról! Írj a négyzetbe 1-es számot, ha mindkét állítás igaz, 2-es számot, ha csak az egyik igaz, 3-as számot, ha mindkettő hamis tartalmú.

- a) Géza halála után Koppány a primogenitúra joga alapján követelte magának a hatalmat. Koppány tevékenységére tehát nem a legjobb kifejezés a lázadás, hiszen csak a szokásjogot követelte magának.
- b) A középkori krónikásaink gyakran az éppen uralkodó személy érdekeit figyelembe véve alakították történeteiket. Így fordulhatott elő, hogy I. Istvánt felmentették Vazul megvakíttatása alól, míg I. Kálmánt negatív színben tüntették fel.
- c) A vörös-ezüst sávokat azért nevezzük Árpád-sávoknak, mert már a honfoglalás idején megjelent jelképként őseinknél. A címerünkben lévő kettős keresztet pedig azért tartjuk az állam jelképének, mert államalapító királyunk I. István használta először.
- d) A Kárpát-medencében is sokféle nép volt hatással a magyarságra, a hét több napja vagy éppen Pest elnevezése is szláv eredetű. A budai várban pedig a magyarok mellett- központjukként a Mária Magdolna templommal- németek is éltek.
- e) A magyarok idővel több népcsoportot is beolvasztottak magukba. Így történt ez a besenyőkkel, a kunokkal, is, akik aztán idővel a magyar haderőt gyarapították.
- f) I. István sikeresen térítette meg a magyarokat, hiszen az ország teljes lakossága már uralkodása alatt keresztény lett. Hódításai következtében állama pedig regionális hatalommá vált.

a1

b1

c1

d1

e1

f1

.../6

7. Válaszd meg a kérdéseket!

- a) Miért nem raboskodhatott a visegrádi Salamon-toronyban I. Salamon király ?

.....

- b) Miért hordtak a magyar nők is nadrágot a 10. században?

.....

- c) Miért nem jött létre a német területeken a középkorban erős egységes rendi állam ?

.....

- d) Miért hatékonyabbak a manufaktúrák, mint a céhek ?

.....

- e) Miért állíthatjuk, hogy III. Béla idején kezd felváltani a szóbeli ügyintézést és irányítást az írásbeli ?

.....

a1



b1

c1

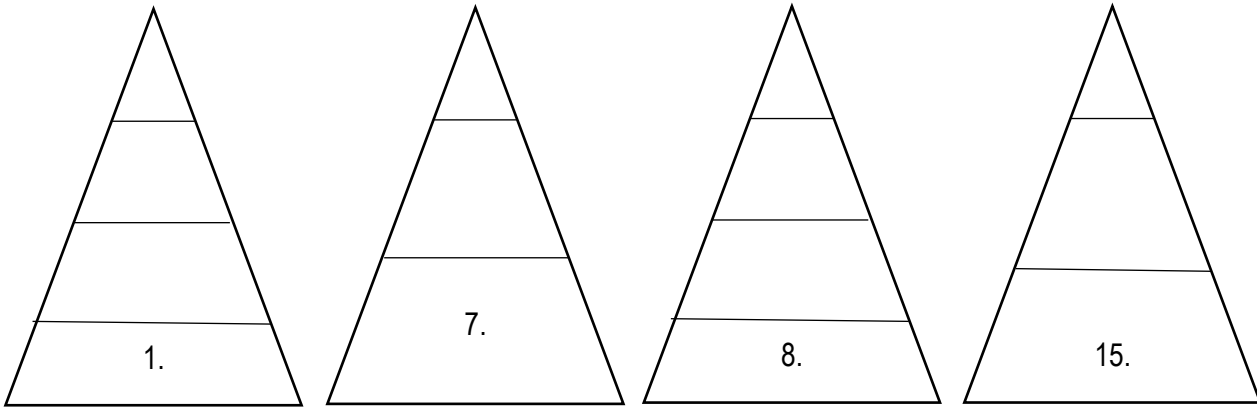
d1

e1

.../5

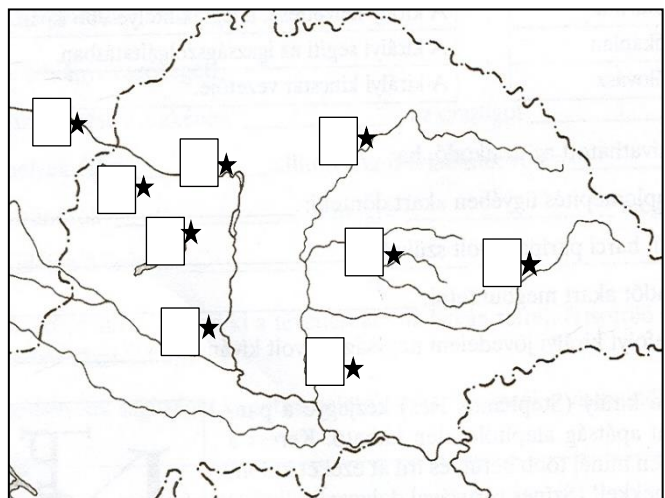
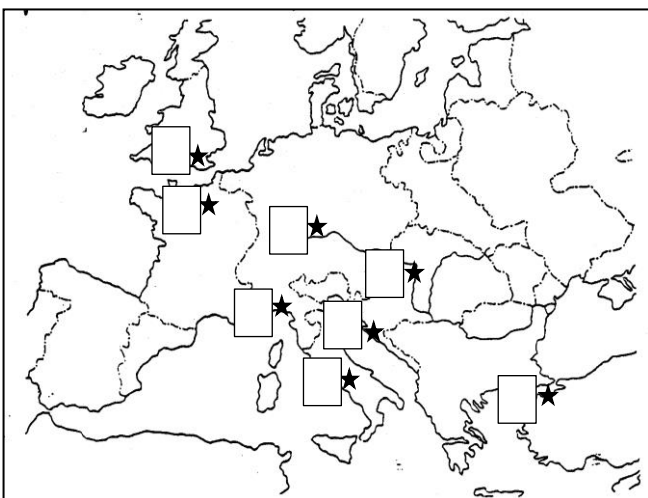
8. Válogasd szét, majd írd a hiányzó történelmi fogalmak számjegyét a megfelelő  megfelelő részébe!
Minden részben csak egy számjegy szerepeljen! (a  szintjei rangbeli, befolyásbeli különbséget jelentenek)

1. plébánosok 2. bők 3. dékán 4. szabad harcosok 5. pápa 6. serviensek 7. tanárok 8. (rab)szolgák 9. rektor
10. bárók 11. inasok 12. érsekek 13. inek 14. püspökök 15. várjobbágyok



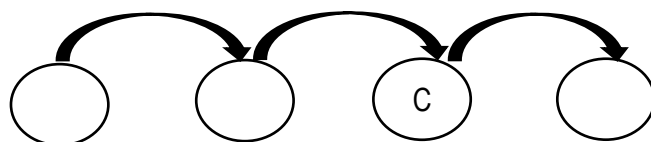
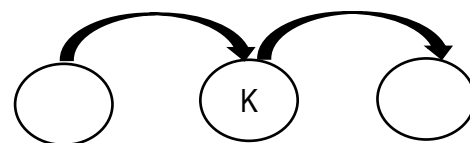
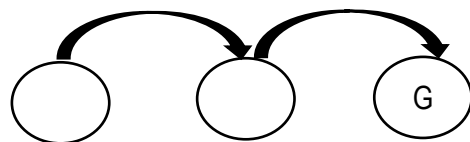
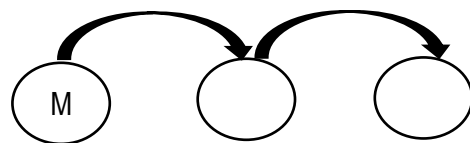
9. Írd az alábbi betűjeleket a megfelelő térkép megfelelő csillagához tartozó -be!
Egy betűjel csak egy térképen szerepelhet!

- a) az első bencés kolostor Európában
b) Koppány legyőzésének helyszíne
c) a Földközi-tenger nyugati területének vezető kereskedővárosa
d) kolostor, mely 1002-ben kapott kiváltságlevelet I. Istvántól
e) az első egyetemes keresztény zsinat helyszíne
f) ez a város fogadta be IV. Béla királyunkat a tatárjárás idején
g) a 12. században ebben a városban működött Európában a legtöbb kolostori iskola
h) Szent László végső nyughelye



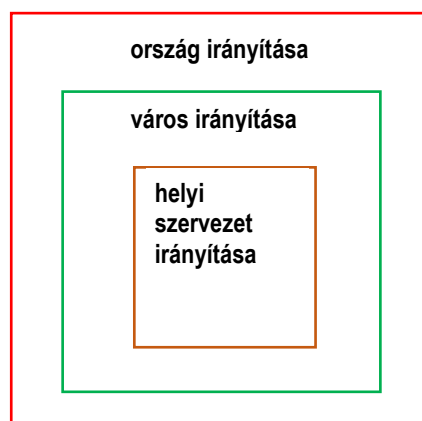
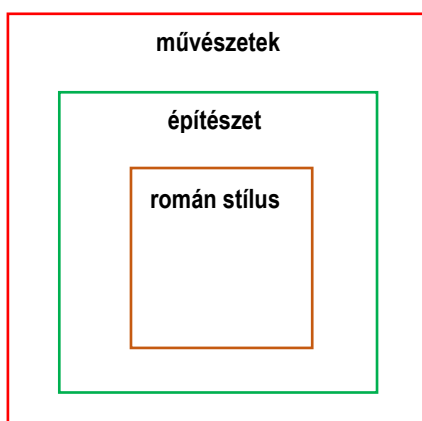
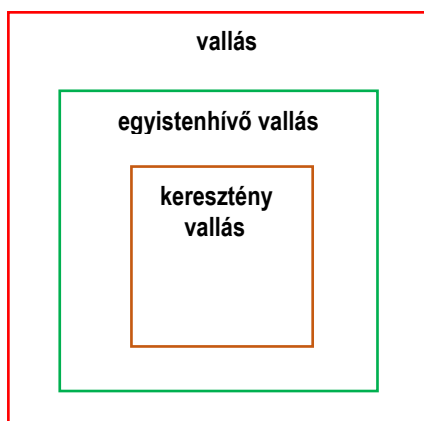
10. Töltsd ki a megfelelő betűjelekkel a hiányzó köröket úgy, hogy az összetartozó körök egy történelmi logikai egységet képezzenek! A nyilak következményt jelentenek.

- A) nemzetségfők, törzsfők katonai hatalmának csökkenése
- B) iszlám terjeszkedés
- C) Magna Charta kiadása
- D) királyi birtokadományozások
- E) földesúri hatalmi központok kialakulása hazánkban
- F) angol parlament létrejötte
- G) itáliai kereskedővárosok fellendülése
- H) keresztes hadjáratok
- I) ispáni hatalomgyakorlás kiépítése
- J) francia királyok franciaországi angol területeket szereznek meg
- K) várépítések hazánkban a 13. században
- L) Földnélküli János adókivetési kísérletei
- M) vármegyék kialakítása



11. Írd a fogalmak, leírások betűjelét a megfelelő téglalapokba úgy, hogy a külső téglalapokba mindig egy, a középsőkbe kettő, a belsőkbe mindig három betűjel kerüljön! A beírt betűjelekhez tartozó fogalmak, leírások kapcsolódjanak a téglalapok megnevezéséhez! Egy betűjel csak egy helyen szerepelhet!

- A) Janus B) falusi rotundák C) inkvizíció D) ramadán E) trubadúr F) rendi gyűlés
- G) jáki templom H) árumegállító jog I) kontármunka tiltása J) emelődaru K) simónia L) zsidó nép
- M) Cirill és Metód N) lőrészerű ablakok O) céhszabályzat P) rektor R) díszes kapuzatok
- S) polgármester




12. A táblázat mely állításai kapcsolhatók a felsorolt Árpád-házi uralkodókhoz?

Ha az adott leírás egy konkrét királyunkhoz kapcsolható, válaszd ki a felsorolásból és írd a táblázatba a nevét! Más esetben tegyél „X”-et a táblázat megfelelő sorába! Egy-egy sorban tehát vagy egy név vagy egy „X” szerepel.

Királyok: Orseoló Péter, I. András, I.(Könyves) Kálmán, II. (Vak) Béla, III. Béla, IV. Béla, IV. (Kun) László, III. András

leírás	csak ehhez az egy uralkodóhoz kapcsolható (név beírása)	mindegyik felsorolt uralkodóhoz kapcsolható	egyik felsorolt uralkodóhoz sem kapcsolható	a felsorolásból több uralkodóhoz kapcsolható
Az országban dukátus működött.				
Az aradi bosszú.				
A morvamezei csatákban Ottokár ellen zajlott a harc.				
Épségben maradt fenn sírja Székesfehérváron.				
Egyenesági rokonságban áll Géza fejedelemmel.				
Vörös Konrád belehal a győztes csatába.				
Szent Koronával való koronázás.				
Latin kultúra működése és támogatása.				



13. A könyvismertető segítségével írd le Ken Follett (versenyünk egyik korszakához a) középkorhoz kapcsolódó regényeinek címeit időrendben úgy, hogy a felsorolást a legkorábbi történelmi időben játszódóval kezd!

KEN FOLLETT (Cardiff, Wales, 1949. június 5.) napjaink egyik legsikeresebb regényírója. Eddigi 31 könyve 33 nyelvre lett lefordítva, sok százezer példányban jelent meg szerte a világon. Minden műve olvasható magyarul is. 1989-ben jelent meg a XII. századi Angliában, Kingsbridge-ben játszódó regényfolyamának első kötete: A katedrális. A történet folytatódott a XIV. (Az idők végezetéig címmel) és a XVI. században (A tűzoszlop). Így született meg a Kingsbridge-trilógia. A nemrég megjelenő, legújabb művében pedig a X. századba lép vissza, melyben megírja az első könyv előzményét.

Regénycímek:

.....

14. Esszéfeladat.

Írj fogalmazást ismereteid és az alábbi források segítségével I. István egyház- és államszervezési tevékenységéről! Ügyelj a fogalmazás tagolására, a helyesírára, a külsőre és a terjedelmi korlátokra!

„A monostort még Géza fejedelem alapította,...” (Ezeréves Magyarország című könyvből)

„A püspökségek jelentik azt, amikor szervezeti kereteket kezd kapni a keresztény egyház.” (Magyarország története 3. rész)

„Az első érsek Domonkos volt, akit Radla, őt pedig Szent István bizalmasa, Asztrik követett...” (Ezeréves Magyarország című könyvből)

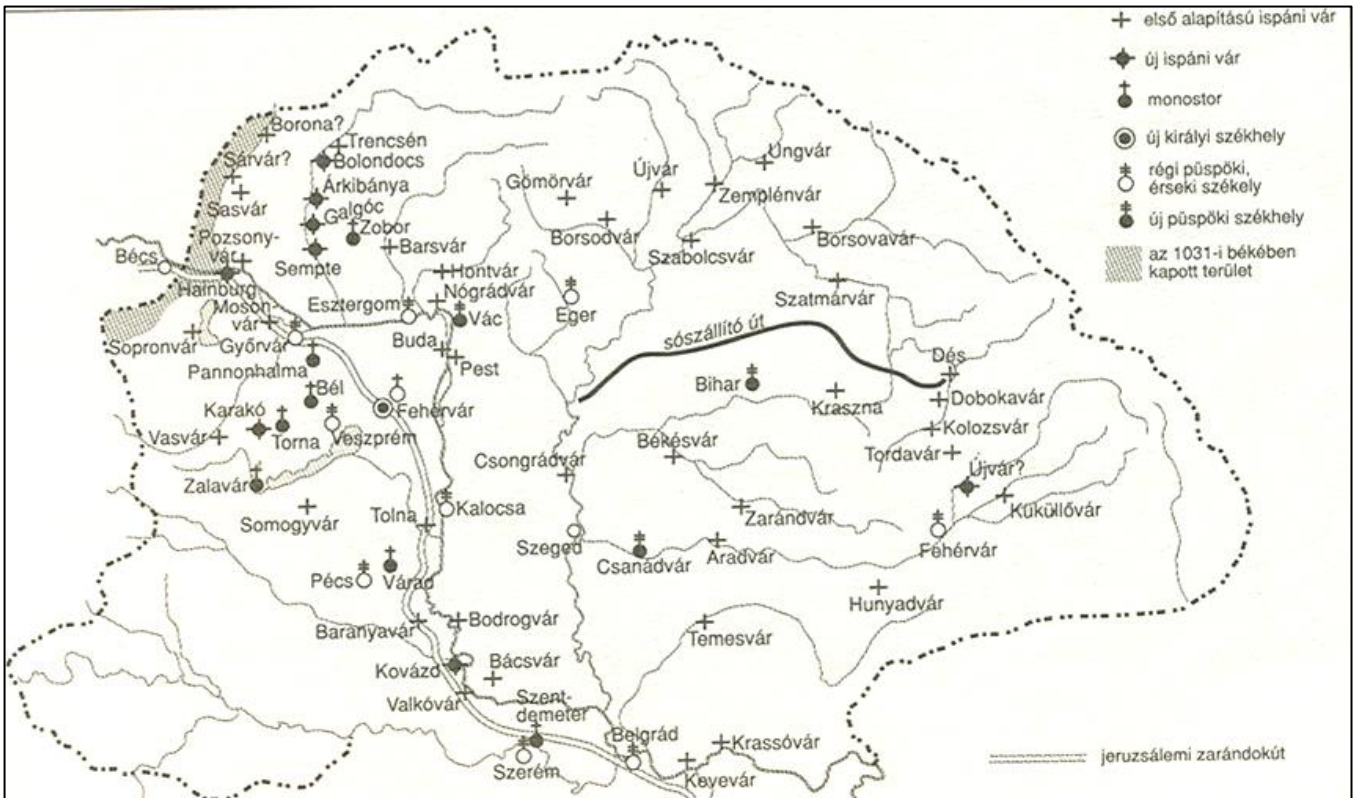
„Ha valakinek az Isten tízet adott egy évben, a tizedik részt adja Istennek,...” (Szent István törvénykönyve)

„...vasárnap mindenki menjen el templomba,...” „Tíz falu építsen egy templomot, amelyet két telekkel s ugyanannyi szolgálával lássanak el,...” (Szent István törvénykönyve)

„A királyi várakhoz tartozó várbirtokok adták az uralkodó fő bevételeit.”
(Zanaz tv: Államalapító Szent Istvántól államgyarapító Lászlóig és Kálmánig)

„Az udvar első embere a nádor lett, aki a király után a legszélesebb jogkörrel rendelkezett.” (Ezeréves Magyarország című könyvből)

A mai vármegyék jelentős részének a neve ebből a korból származik. (Magyarország története 4. rész)



15. feladat: PPT teszt

/1)

/2)

/3)

/4)

/5)

/6)

/7)

/8)

/9)

/10)

/11)

/12)

/13)

/14)

/15)