


Neved:

Felkészítő tanárod:

Iskolád:

Elért pontszámod: / 80 pont

1. Melyik időszalonon ábrázolhatók a legjobban az alábbi történelmi időszakok, események? Írd a -be a megfelelő időszalon betűjelét!

Rákóczi-szabadságharc: Reformkor időszaka: Napóleoni háborúk: Első ipari forradalom időszaka: Budapest létrejötte: Polgárháború az USA-ban: 

2. Párosítsd az idézeteket, a megfelelő történelmi eseménnyel, vagy korszakkal! Írd a megfelelő betűjelet az idézetek előtti -be.

- A) Munkásmozgalmak korszaka B) Áprilisi törvények C) Kossuth-Széchenyi vitája D) Napóleoni háborúk
 E) Bach-korszak F) Rákóczi-szabadságharc G) II. József uralkodása

- „Ő felsége a végrehajtó hatalmat ezen túl kizárólag csak a magyar minisztérium által fogja gyakorolni..”
- „A közelmúlt idők gyászos eseményei után oly állapotok között, melyek még jelenleg is uralkodnak, lehetetlenség, hogy én nyilvános ügyekben közreműködhessenek.”
- „Puskák hiányában kardokkal, vasvillákkal és kaszákkal fegyverkeztek fel, és kijelentették, hogy velem akarnak élni-halni.”
- „Azt akarjuk, hogy minden egyes jobbágy, tetszése szerint, földesura beleegyezése nélkül is házasságot köthessen, tudományos munkát végezhesen, kitanulhassa a mesterségeket.”
- „Tábornok úr, ön egy fejjel magasabb nálam, de ha továbbra is ilyen arcátlan válaszokat enged meg magának, hamar meg fogom szüntetni ezt a különbséget.”


3. Helyes időrendben vannak-e soronként a képek? Tegyéél a ○ -be „+” jelet, ha helyes a sorrend, „-” jelet, ha helytelen!


a1


b1

c1

.../3

○ 

○ 

○ 

4. Keress logikai kapcsolatokat a sorokon belül, majd annak megfelelően egészítsd ki a mondatokat!

a1

b1

c1

d1

e1

f1

.../6

- Ha Alexander Bach = belügyminiszter, akkor Andrassy Gyula =
- Ha Ganz Ábrahám = Mechwart András, akkor Liszt Ferenc =
- Ha az ipari bérmunkások = agrárproletárok, akkor a nagypolgárság =
- Mivel a magyarok kiegyeztek az osztrákokkal, gyorsan fejlődött a gazdaságuk. A magyarok tehát vagy a választják vagy
- Ha a korabeli magyar nemzetfelfogás szerint a magyarországi románok ≠ nemzetalkotók, akkor a szlovákok
- Ha a villanykörte feltalálása → sötétben is lehetett dolgozni, akkor gőzmozdony alkalmazása →

5. Írd a történelmi adatok betűjelét a megfelelő tankönyvből vett tananyagcímek után! Minden tananyagcímez két betűjel kerül. A betűk sorrendje soronként tetszőleges.

történelmi adatok

[A] a Pesti Hírlap átütő sikereket ér el. [B] megtartják az első népképviseleti választásokat [C] megjelenik a *Hitel* című könyv [D] győri vereség [E] emelkednek a terményárak [F] megalakul a Magyar Tudós Társaság [G] megtörténik a jobbágyfelszabadítás [H] kiszabadul Táncsics Mihály [I] létrejön a Védegylet [J] Metternich kancellárt leváltják [K] Deák-Kossuth vitája

tananyagcímek

- Forradalmak Európában és Magyarországon:
- A reformkor hajnalán
- Magyarország a napóleoni háborúk korában:
- Kossuth Lajos politikai tevékenysége a reformkorban:
- A forradalmi célok megvalósulása:

6. Igazak lehettek volna-e az adott korban az alábbi kitalált történelmi állítások? Írj az állítások után megfelelő kezdőbetűt (I=igaz, N=nem igaz)

- Széchenyi István meglátogathatta volna Keszthelyen az ország első mezőgazdasági főiskoláját.
- Bonaparte Napóleon utazhatott volna Franciaországban vasúton.
- Lincoln elnök megcsodálhatta volna az Eiffel-tornyot.
- II. Rákóczi Ferenc vásárolhatott volna bányáiba gőzgépet.
- Ferenc József utazhatott volna a budapesti földalattin.
- Robespierre vásárolhatott volna géppel szőtt pulóvert.

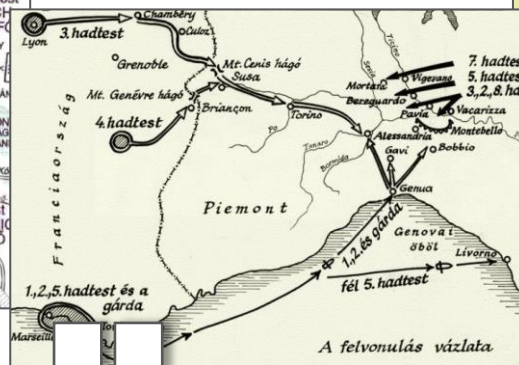
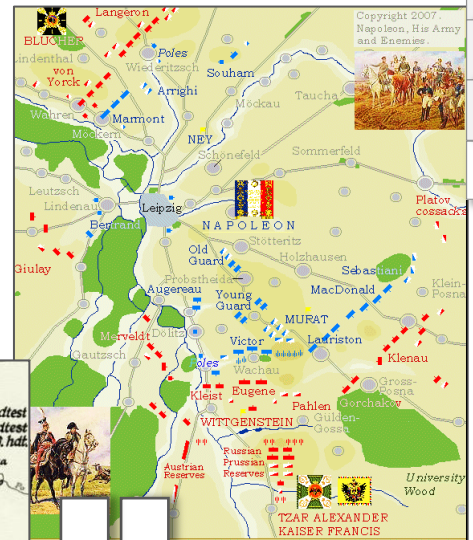
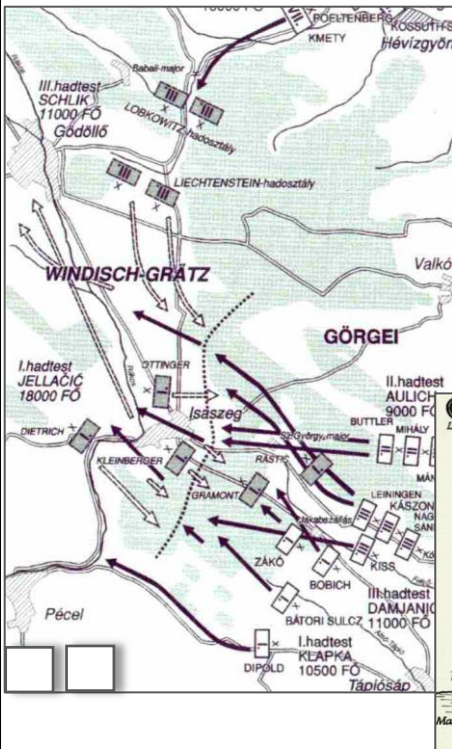
7. Melyik történelmi esemény volt korábban a párok közül? Jelöld soronként a korábban történt eseményt így!

- millenniumi ünnepek 19.század utolsó éve
- Szent Szövetség megalakulása első reformországgyűlés hazánkban
- Mária Terézia uralkodásának kezdete ónodi országgyűlés
- világsi fegyverletétel schwechat-i csata

8. Írd a megfelelő térkép -be a térkép eseményéhez kapcsolódó történelmi adatok betűjeleit! A betűjelek sorrendje képenként tetszőleges.

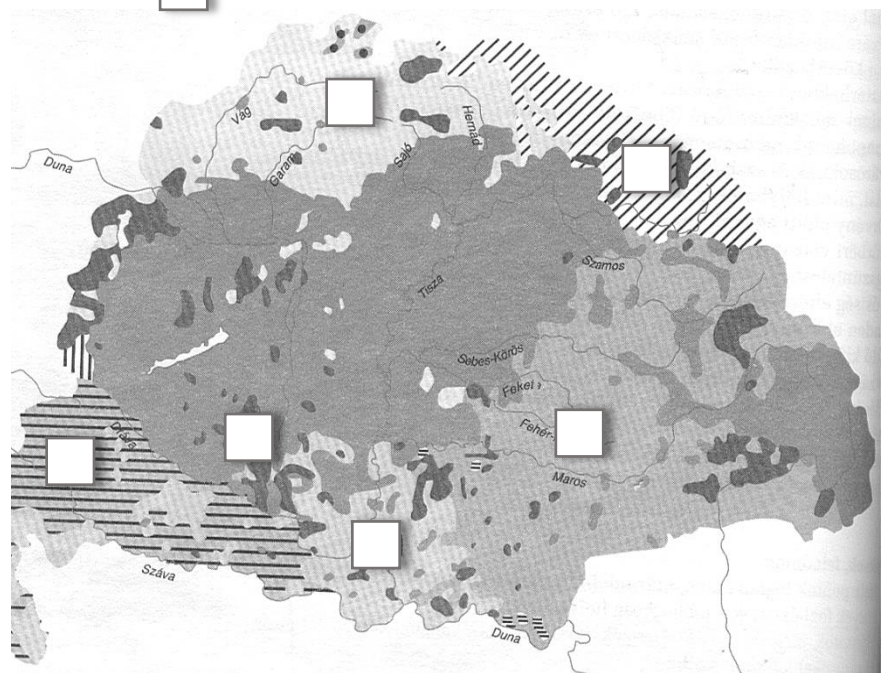
A) Lipcsei csata B) 1848. szeptember C) Trafalgar csata D) Isaszegi csata

E) Vöröskereszt megalakulása F) következménye száműzetés G) magyar győzelem H) 1859



9. Mely köszönési forma volt a jellemző a térképen -el jelzett területeken a 19.században? Írd a megfelelő köszönési forma betűjelét a megfelelő -be!

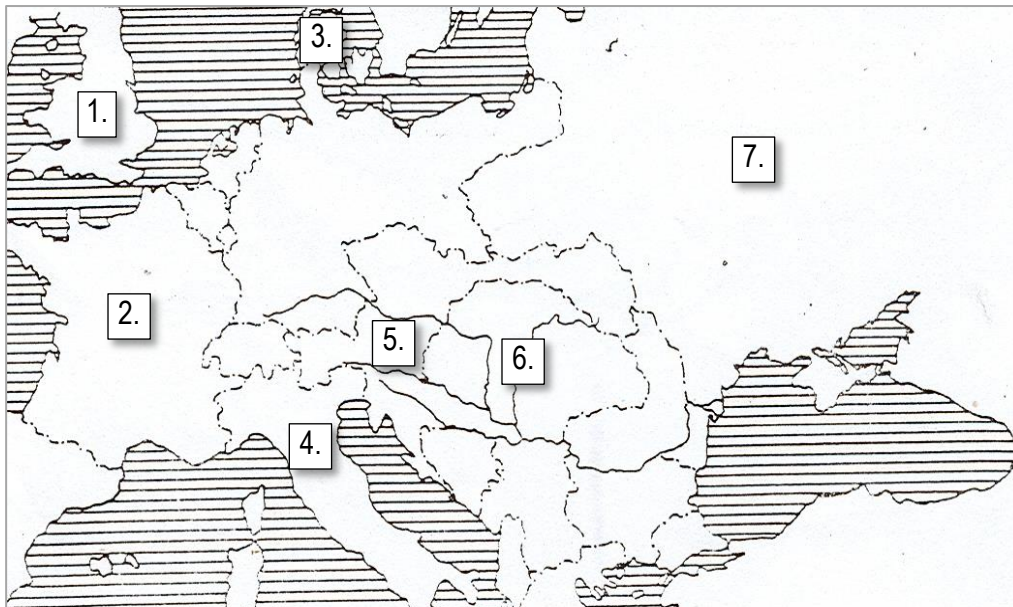
- A) Ahoj! Dobry den! (szlovák)
- B) Buna ziua! (román)
- C) Dobar dan! (szerb)
- D) Guten tag! (német)
- E) Dobar dan! (horvát)
- F) Dober dan! (szlovén)
- G) Dobrij gyeny! (ruszin)



10. Kire ismersz a leírásokból? Melyik országhoz köthető az élete? Töltsd ki a táblázatot a felismert történelmi személy nevével és a leginkább hozzá kapcsolódó ország számjelével!

- A)** Uralkodása idején a legbefolyásosabbnak számított a Földön. Több mint 60 éves uralkodása alatt birodalma virágzott. 34 unokája született. Egy egész korszakot neveztek el róla.
- B)** Igazi szabadságharcos, sokat tett hazája függetlenségéért, egységéért. Leghíresebb akciójában felhasználta tengerészeti tudását is.
- C)** Híres volt szépségéről, néha Gödöllőn is megfordult. Bár nem volt magyar, a magyarok körében népszerűségnek örvendett. Egy a Dunán átívelő híd is róla kapta nevét.
- D)** Kalandos élete során volt szabadságharcos, halálraítélt, majd miniszterelnök és birodalmi külügyminiszter is. Egy főváros híres sugárútja is róla kapta nevét.
- E)** Egy diktatúrát működtető párt vezére, aki mindent megtett forradalmának megmentéséért. Nem csak egy király, de egyszerű emberek tömegének halála sem tántorította el céljaitól. Végül ő is a vérpadon végezte.

történelmi személy neve	kapcsolódó leírás	az ország térképszáma
	A)	
	B)	
	C)	
	D)	
	E)	



11. Válaszd meg a szöveggel kapcsolatos kérdéseket, oldd meg a feladatot!

A magyar társadalom

A XIX. század első felében Magyarország összlakosságának mintegy 5%-a volt nemes. A főurak - arisztokraták - aránya ezen belül igen csekély, mintegy kétszáz (hercegi, grófi, bárói) család csupán. Ezeknek a családoknak a birtokában volt az ország területének csaknem a fele.

A városi lakosság (városi polgárok és más városiak) kiváltságos aránya Magyarországon igen alacsony volt, 2% körüli. Ők, -ahogy nemeség- is képviselték magukat az országgyűlésen.

A lakosság 90%-a semmilyen kiváltsággal nem rendelkezett: ide tartoztak a telkes jobbágyok, akiknek volt saját használatú földjük, és a föld nélküli zsellérek. A zsellér sem volt feltétlenül teljesen nincstelen; lehetett háza, szőlője, állatai, kézműves műhelye. A telkes jobbágyokhoz hasonlóan a zsellérek is a földesúr joghatósága alatt álltak.

1. Miért volt mai szemmel igazságtalan hazánkban a birtokeloszlás?

válasz:

2. A lakosság hány %-a szólhatott bele az ország ügyeibe?

válasz:

3. Írj az alábbiak mellé megfelelő fogalmat a szövegből

- hercegek, grófok, bárók összefoglaló neve:.....
- a legszegényebb paraszti réteg neve:.....

12. Keress összefüggést két-két adattábla adatai között, majd írd le egy-egy mondatban az összefüggést!

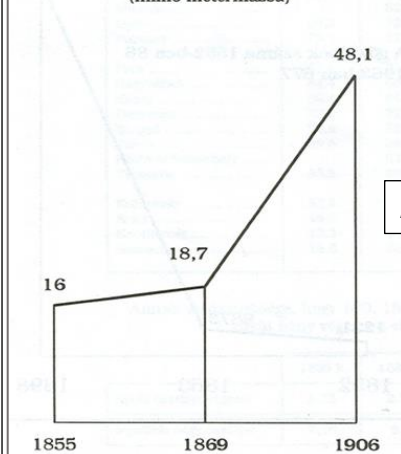
- Két kapcsolódó adattábla betűjele

Kapcsolat:.....

- Két kapcsolódó adattábla betűjele

Kapcsolat:.....

Az összes búzatermelés növekedése
(millió métermázs)



	férfiak	nők
1869	40,8%	21,1%
1890	66,1%	46,5%

Az írni-olvasni tudók aránya a hat éven felüli lakosság körében 1869-ben és 1890-ben.

1869	13 788
1890	16 805
1895	18 235

Az elemi népiskolák száma Magyarországon (1869–1895).

A Tisza-szabályozás fontosabb adatai (1879)

Folyószakasz	Eredeti hossza (km)	Átvágások		Megrövidült szakasz hossza (km)
		db	km	
D				

13. Tervezd át a képen látható papírpénzek kiegészítő képeit! Az elsón kettő, a másodikon egy olyan általad tervezett, tetszőleges kép szerepeljen, amely szorosan kapcsolódik a pénzen ábrázolt személy életútjához! Írd megnevezésüket a szövegdobozokba!



hídpillér helyett:

gőzhajó helyett:



képviselőház helyett:

14. Töltsd ki a rejtvényt!

1. nagy változásokat hozó, gyorsan lejátszódó gyakran erőszakos eseménysorozat
2. nyomtatott információk politikai ellenőrzése, felügyelete
3. bécsi udvarhoz hű katona elnevezése a Rákóczi-szabadságharc idején
4. egy személy, vagy párt egyeduralma
5. eszmerendszer, melynek célja a saját nemzeti közösség felemelése, gyakran túlzó dicsőítése
6. a reformkori magyar országgyűlés része, ahol a megyék követei is részt vehettek
7. szabadversenyos gazdaság

