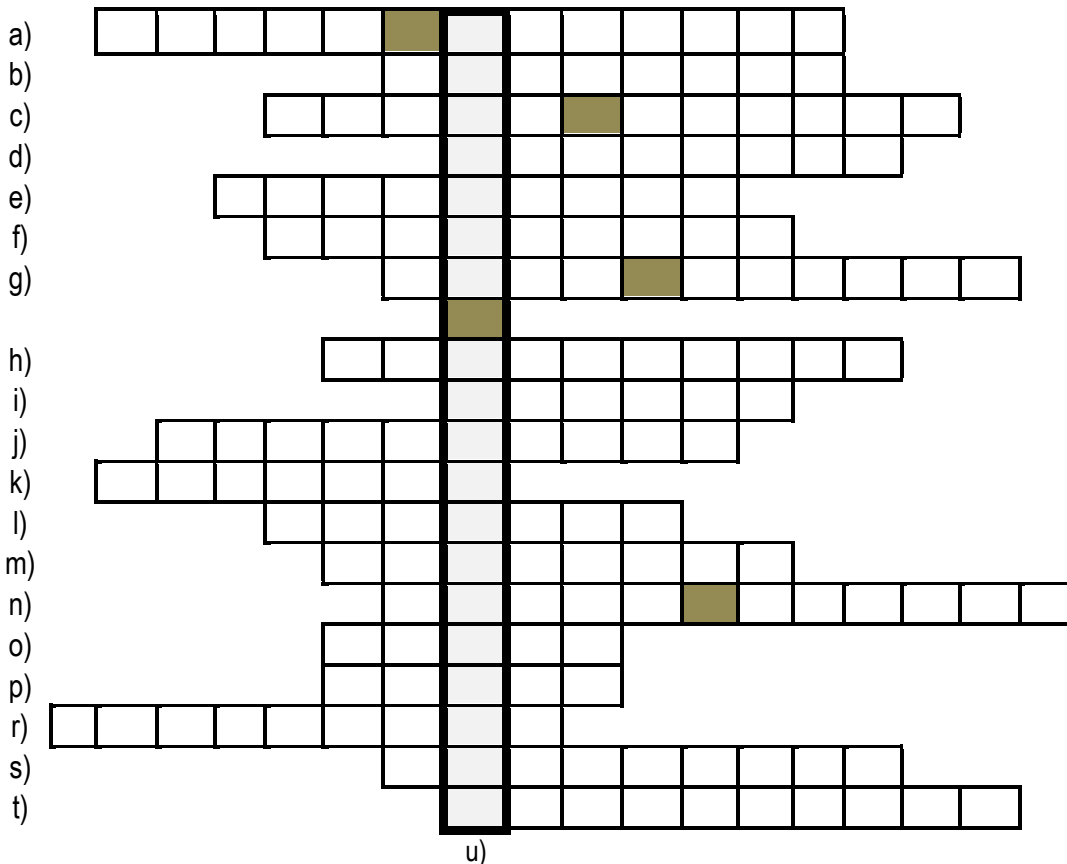


Kódszámod:

Elért pontszámod: / 100 pont

1.1. A keresztrejtvény megfejtése Csukovits Enikő Liliom és holló című könyvének egyik fejezetcímét tartalmazza. (A szóközőket jelöltük.)



- | | |
|---|---|
| a) híres XIV. századi történelmi forrás | k) Zsigmond által alapított lovagrend jelképe |
| b) királytalálkozó helyszíne | l) Anjou András felesége, Nápoly királynője |
| c) I. Lajos királyi példaképe | m) Mátyás könyvtárából származó könyvek |
| d) dongás faedény, amelyben elrejtették a Szent Koronát | n) I. Lajos udvari vitéze |
| e) országgyűlések helyszíne | o) az első magyar királynő |
| f) a könyvnyomtatás feltalálója (családnév) | p) a középkori adásvétel fő színtere |
| g) ezt az uralkodói címet is viselte Zsigmond | r) ez a zsinat ítélte halálra Husz Jánost |
| h) emberközpontú gondolkodásmód, filozófia | s) ennyiszor koronázták meg I. Károlyt |
| i) itt alapított magyar kápolnát I. Lajos | t) kormányzó latin szóval |
| j) Anjou-címerrel díszített koronázási jelvény | |

1.2. Értelmezd a megfejtést!

2. Mi kapcsolja össze (történelmi szempontból) a következő felsorolások tagjait? Írd a pontozott vonalra!

- | | |
|---|-------|
| a) Dés – Torda – Vízakna | |
| b) Garai Miklós – Cillei Hermann – Filippo Scolari | |
| c) Bakócz Tamás – Vitéz János – Szalkai László | |
| d) Stiborici Stibor – Hunyadi János – Szapolyai János | |

a	b
c	d
e	f
g	h
i	j
k	l
m	n
o	p
r	s
t	u
v	
.../21	


a	b
c	d
.../4	

3.1. Melyik uralkodási sorrend a helyes? Jelöld a betűjel bekarikázásával!

- A) Mária – Zsigmond – V. László – Albert – I. Ulászló – II. Ulászló – Mátyás – II. Lajos
 B) I. Lajos – Mária – Zsigmond – II. (Kis) Károly – I. Ulászló – Albert – V. László – Mátyás
 C) I. Lajos – Mária – II. (Kis) Károly – Mária – Zsigmond – Albert – I. Ulászló – V. László

a2	b
c	d
.../5	

3.2. Melyik uralkodók címerei az alábbiak? Írd a pontozott vonalakra!



4. Egészítsd ki az I. Lajos hódításairól szóló hiányos szöveget a pontozott vonalakon helynevekkel és jelöld ezeket a térképen!



I. Lajos két alkalommal is személyesen vezetett hadjáratot (.....) ellen, hogy igazságot tegyen és egyben megszerezze az öccse halálával – szerinte – immár őt illető trónt. A hadjáratokban ugyan legyőzte ellenfeleit, de nem tudta megtartani a távoli területet.

Hosszú harcokat folytatott Velencével (.....) birtoklásáért.

Uralma délen és keleten sem ért véget az ország határainál. (.....) hűségének biztosítására ritkán volt szüksége fegyverekre, hiszen a terület élén apósa, Kotromanics István bán állt. A legtöbb gondot a két román fejedelemség, a Bogdán vajda vezetésével ekkor létrejövő (.....),

valamint (.....) jelentette számára.


III. Kázmér halála után Lajost (.....) székesegyházában lengyel királlyá koronázták, ezt követően harcolnia kellett a lengyelek ellenségeivel is.

(Csukovits Enikő műve nyomán)

a	b
c	d
e	f
g	h
i	j
k	l
m	
.../13	

5. Válaszolj a képekhez kapcsolódó kérdésekre!

A



Melyik csatajelenetet ábrázolja a kép?
.....

Mikor volt a csata?
.....

Kik küzdöttek egymással?
.....

Melyik város látható a képen?
.....

B



Nevezd meg a képen látható várat!
.....

Kinek a székhelye volt a XIV. század első felében?
.....

Melyik országrészben található?
.....

C




Kit ábrázol a szobor?
.....

Kik a szobor alkotói?
.....

Hol tekinthető meg eredetiben?
.....

D



Nevezd meg a képen látható épületet!
.....

Hol épült?
.....

Milyen stílusban?
.....

a	b
c	d
e	f
g	h
i	j
k	l
m	
.../13	

6. Kinek a törvénye, rendelkezése? Mi volt a célja elrendelésével?

A

„Elrendeltük és parancsoljuk, hogy minden megyében, minden egyes kapu után, amelyen szénával vagy gabonával megrakott szekér képes befordulni, vagy azon át kijönni – lakjék bár ugyanazon kapu mögött három, négy vagy ennél több ember is –, [...] 18 dénárt tartoznak szolgáltatni és fizetni.”

Név: **Cél:**

B

„... mind az országunk határai között lakó valódi nemesek, mind pedig azok is, akik országunk határain belül fekvő hercegi tartományokban élnek, egy és ugyanazon szabadságot élvezzék.”

Név: **Cél:**

C

„Hogy a fonttal, mérleggel, öllel való mérés, a bornak, gabonának kimérése, s általában minden megmérhető és mázsálható dolognak kimérése is megmázsálása minden városban, a mezővárosokban, várakban, falvakban [...] országunk határain belől mindenütt Buda városunk mértéke szerint történjék.”

Név: **Cél:**

a	b
c	d
e	f
.../6	

<p>9. Melyik csatáról, hadjáratról írhatta volna Hunyadi János a következő hadijelentéseket? Írd a pontozott vonalra évszámával együtt!</p> <p>a) A törökök ellen fordítottuk saját ágyúikat. Elvonultak.,</p> <p>b) A fosztogató hadakat utolértük és legyőztük.,</p> <p>c) A király meggondolatlan lépésre szánta magát. A janicsárok győztek.,</p> <p>d) A szultáni had már várt ránk. Háromnapos csatában vereséget szenvedtünk.,</p> <p>e) Eljutottunk Szófiáig, kemény tél van.,</p>	a2	b2
	c2	d2
	e2	
	.../10	
<p>10. Igazak vagy hamisak az alábbi, Hunyadi Mátyásról szóló állítások? Jelöld a megfelelő szó aláhúzásával!</p> <p>a) Királlyá választása után rövid ideig nagybátyja állt mellette kormányzóként. igaz - hamis</p> <p>b) Törvényes koronázására 1463-ban került sor, miután visszavásárolta a Szent Koronát III. Frigyesztől. igaz - hamis</p> <p>c) Bevételeinek növelése céljából a füstadót kapuadóra változtatta. igaz - hamis</p> <p>d) A déli országrészek védelmére létrehozta a jajcai bániságot. igaz - hamis</p> <p>e) Apjához hasonlóan aktív támadó politikát folytatott a törökkel szemben. igaz - hamis</p> <p>f) Hadseregének létszáma uralkodása vége felé meghaladta a hússzezer főt. igaz - hamis</p> <p>g) 1486-ban Bécset is meghódította. igaz - hamis</p>	a	b
	c	d
	e	f
	g	
	.../7	
<p>11. Kire ismersz rá az alábbi életrajzi elemekből? Írd a pontozott vonalra!</p> <p>a) Komárom – „utószülött” – Székesfehérvár – Prága b) Kőrös megye – váradi püspök – Buda – Esztergom c) Ferrara – Padova – pécsi püspök – Medvevár</p>	a	b
	c	
	.../3	