



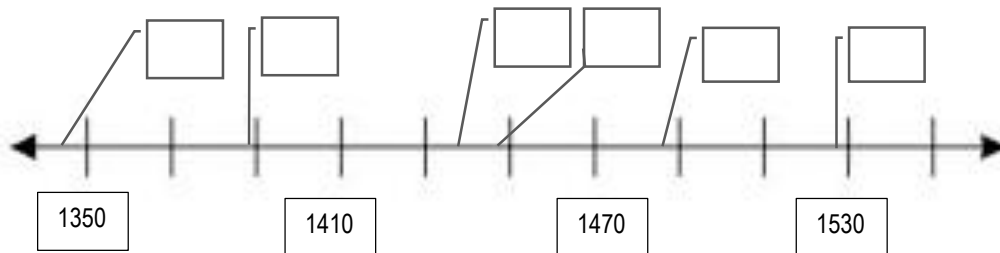
Neved: .....

Felkészítő tanárod: .....

Iskolád neve és címe: .....

Elért pontszámod: ..... / 92 pont

1. Írd a királyokat ábrázoló képek betűjelét az idővonal megfelelő helyére! Egy téglalap üresen marad!



2. A történelmi személyekhez kapcsolódó megállapítások között egy helytelenül szerepel. Karikázd be ennek a betűjelét!

Luther Márton

- A) csak két szentség van      B) francia jogász      C) nem kell pápa  
D) Ágoston-rendi szerzetes

III. Pál pápa

- A) búcsúcedulák betiltása      B) jezsuita szerzetesrend elismerése      C) konstanzi zsinat összehívása  
D) katolikus iskolák és nyomdák alapításának ösztönzése

I. Károly (Róbert)

- A) pénzverő kamara felállítása Selmecebányán      B) bányaregálé harmada a földesúr  
C) királyi székhely Temesvár      D) honoráriumbirtokok adományozása

John Locke

- A) jog az élethez, a tulajdonhoz és a szabadsághoz      B) a hatalmi ágakat szét kell választani  
C) angol filozófus a 16. században      D) példaképe az angol alkotmányos monarchia

XIV. Lajos

- A) Colbert      B) manufaktúrák      C) tisztképző iskolák      D) reneszánsz stílus

a1

b1

c1

d1

e1

.../5

a1

b1

c1

d1

e1

.../5

3. A térkében bejelöltünk több történelmi korszakhoz tartozó helyszínt. Töltsd ki a táblázatot a fejléceknek megfelelően!

térképre írt szám	helynév (pl.: város, történelmi terület, egyéb helyszín)	helynévvel kapcsolatos leírás	helynévhez kapcsolódó magyar uralkodó
1	Pécs		I. Lajos
2	Velence	béke, melyben a dalmát városok újra a magyar király alattvalói lesznek.	
3		a bosnyák végvár magyar kézre kerül	I. Mátyás
4	Rozgony		I. Károly (Róbert)
5		a keresztény hadak Savoyai Jenő vezetésével nagy győzelmet aratnak a török seregeken	I. Lipót
6		Dózsa György seregeinek sikertelen ostroma, majd veresége	



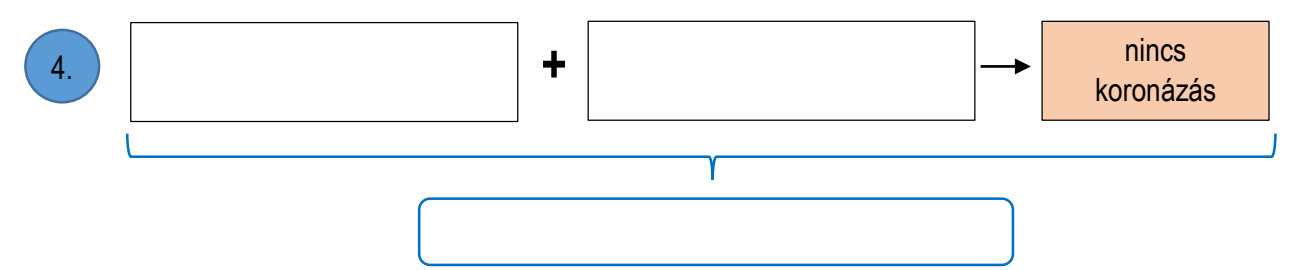
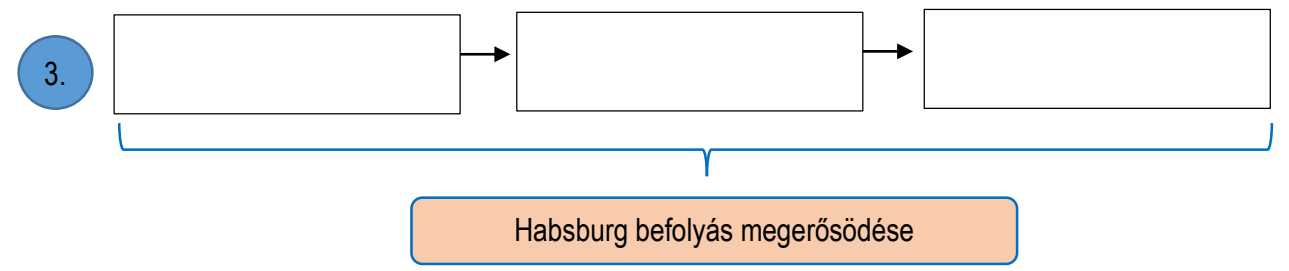
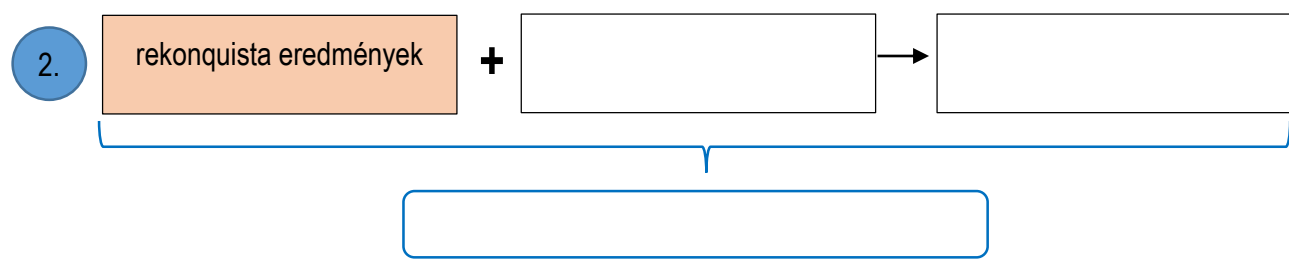
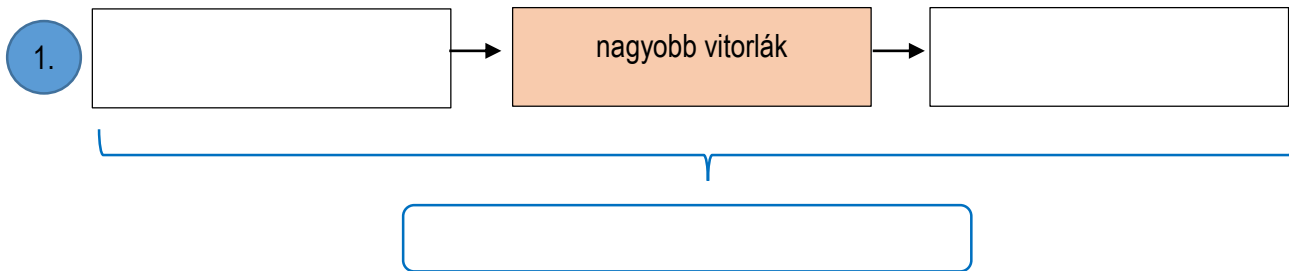
4. Írd a pontozott vonlra azt a kifejezést, fogalmat, ami történelmi szempontból összekapcsolja a felsoroltakat, a zárójelben lévő szóval, fogalommal!

- a) Brassó, Nagyszében, Beszterce (népcsoport): .....
- b) kukorica, paradicsom, burgonya (honnét): .....
- c) koronavám, füstadó, hadiadó (uralkodó): .....
- d) hosszú hadjárat, várnai vereség, rigómezei csata (hadvezér): .....
- e) reconquista, nyugati hajútak keresése, Dél-Amerika sok mai országának nyelve (ország): .....

5. Töltsd ki a négy, egymástól független hiányos logikai ábrát a megadott történelmi adatokkal. A → következményt jelent, a } összefoglalja a téglalapokba beírt adatokat.

- Bethlen Gábor
- Toscanelli térképe
- 1686
- gyorsabb haladás
- országgyűlés összehívása
- karavella
- a rendek nem kívánnak erős uralkodót
- hajóutak nyugatra
- Aranybulla ellenállási záradékának eltörlés
- új tőkesúlyok
- nincs török támogatás
- 1492 augusztusa

- a2
- b2
- c2
- d2
- .../8



**6. Az alábbi történelmi állításokat kritika alá vették. Miért kritizálták őket? Fejezd be a mondatokat!**

a) Kopernikusz megírta az „Égi pályák körforgása” című művét.

*Johannes Kepler:* Szerintem nem pontos a cím, mert .....

.....

b) Magellán körbehajózta Földet.

*6.-os diák:* Szerintem így nem pontos az állítás, mert.....

.....

c) Mátyás király 1458-ban lett hazánk törvényes királya.

*történelem verseny diákja:* Szerintem így nem pontos a mondat, mert .....

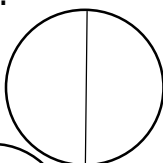
.....

d) *Feleltető tanár:* Mátyás király kedvelte a paprikás krumplit.*felelő diák:* Ez nem lehet igaz, mert .....

.....

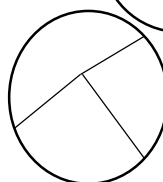
**7. Egy tanuló a török kori magyar történelem nagydolgozatra készülve különböző rajzokat készített. Válaszd meg az ábráival kapcsolatos kérdéseket!**

a) Melyik két magyar uralkodó nevét írhatta a körbe?



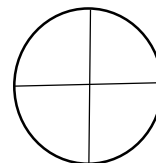
.....

b) Melyik három „főváros” nevét írhatta a körbe?

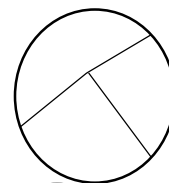


.....

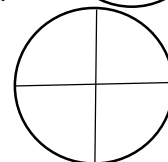
c) A kör melyik cikkelyét színezhette be, ha a legrövidebb ideig fennálló önálló országrészre gondolt és a kör Magyarországot jelképezi? .....



d) Milyen vallásokat írhatott az Erdély vallásait ábrázoló körbe, ha az unitárius és az ortodox vallást nem tanulták? .....



e) Milyen népeket nevezhetett meg a körcikkelyekben, ha azok Erdély népcsoportjaira utalnak?



.....

a1

b1

c1

d1

.../4

a2

b2

c2

d2

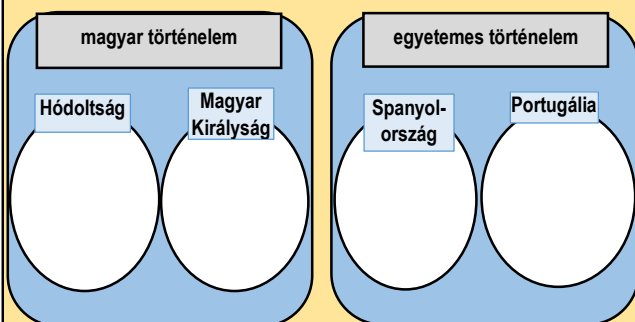
e2

.../10

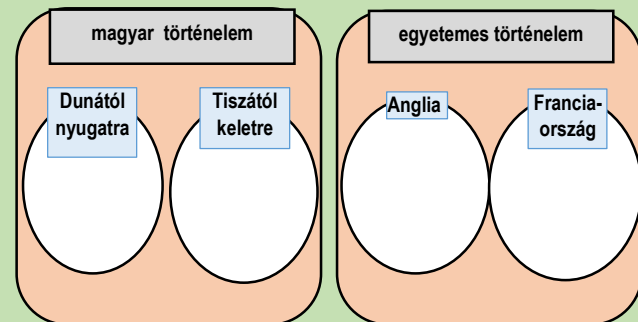
**8. Csoportosítsd a történelmi leírásokat! Írd a megfelelő körbe a leírások betűjelét! Egy betűjel csak egy helyen szerepelhet! Minden körbe kerül legalább egy betűjel.**

- a) Úgy döntöttem, hogy Lippa várát átadom a töröknek.
- b) Képzeljétek, saját földet kapunk, de azért továbbra is vigyázzuk és hajtjuk az állatokat, és ha kell katonának is beállunk.
- c) A török télen nem szeret harcolni, vezessünk ellenük télen hadat! A Dráva-híd környékén sok a nád, gyűjtsuk fel vele!
- d) Bejelentem, hogy tengerészeti akadémiát kívánok létesíteni!
- e) Szomorú volt látni nagy királyaink palotájának felrobbanását. De végre újra mienk a vár!
- f) *"Mért nem jön a Szondi két dalnoka, mért?"*
- g) *„Colbert célja a királyságot gazdagságban elsővé [...] tenni.”*
- h) *„A felső- és alsóházak [...] tagjai [...]nyilatkozatot adtak ki [...] 8. Hogy a parlamenti választások szabadok.”*
- i) Dobozi leszúrta a feleségét, nehogy az ellenség kezére kerüljön.
- j) Az uralkodó szabadságáért teremnyi aranyat, ezüstöt kértem.

**15-16. századi esemény**



**17. századi esemény**



**9. Melyik történelmi személyre illenek a furcsa jellemzések? Nevezd meg őket!**


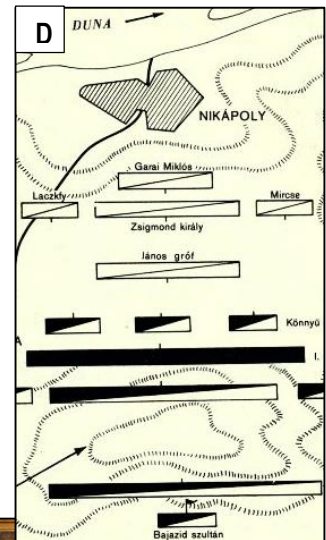
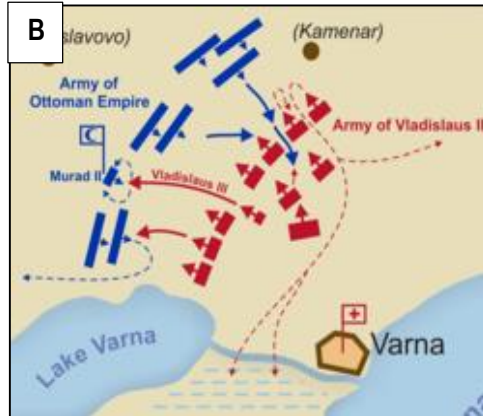
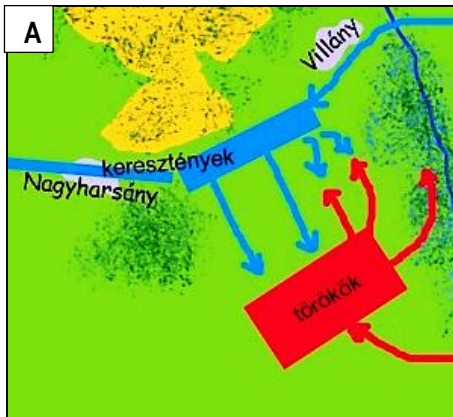
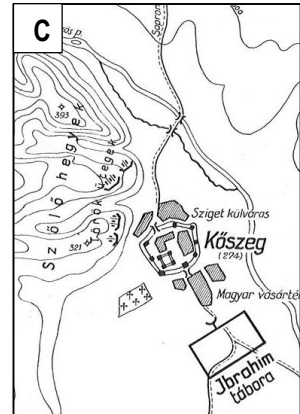
*A magyar személyek leírásának betűjelét bekereteztük.*

- a) Nem férfi, kivégzett apa, rab férjek, híres fiúgyermek. ....
- b) Nem nő, nem a tisztségének megfelelő székhelyen él, nem a protestánsokat kedvelte, nem az erőszak híve, nem a középkori szerzetesrendeket támogatta, nem világi ruhákban járt, nem a 16. században halt meg. ....
- c) Rend a lelke mindennek - ha kell vérrel és vassal! Az egyszerűség nagyszerűség! Betartod vagy fizess! .....
- d) Láttam és írtam is a fekete halálról, csakúgy, mint királyom híres hadjáratairól. ....
- e) Híres nagybácsi, híres király, híres lázadás, híres versek, híres kultúra. ....

a3  
b3  
.../6

10. Állítsd időrendbe külön-külön a térképeken látható csatákat, valamint a képeken látható történelmi eseményeket. Megoldásodat a betűjelek megfelelő sorszámhoz történő beírásával add meg!  
Az 1. sorszám jelöli a legkorábbi eseményt!

	1.	2.	3.	4.	5.
térképek eseményei					
	1.	2.	3.	4.	5.
képek eseményei					



11. A zárójelben megadott országok közül melyiké lehetett volna az aranyérem a leírt szempontok alapján? Írd az éremre az ország nevét!



Gazdasági és kulturális nagyhatalom a 15. században.

(Kína, Anglia, Portugália)

Kincstári nemesfémbevételek nagysága a 16. században.

(Anglia, Franciaország, Spanyolország)

Katonai potenciál a 15-16. században.

(Anglia, Törökország, Franciaország)

Ipari és kereskedelmi fejlesztések a 17. században.

(Spanyolország, Törökország, Anglia)

12. Történelmi facebook. Karikázd be hírenként annak a két személynek a betűjelét, akik biztosan nem hallhattak volna akkor, vagy később a híres eseményről!

Tudtul adatik, hogy a nikolsburgi béke megkötöttet!

- A) I. Rákóczi György      B) Brandenburi Katalin      C) Bocskai István      D) János Zsigmond

Gutenberg találmánya forradalmasítani fogja az oktatást!

- A) Dózsa György      B) Zách Felicián      C) Lackfi István      D) Loyolai Ignác

Megtekinthető Leonardo da Vinci csodálatos freskója, az *Utolsó vacsora*.

- A) Hunyadi János      B) Ferdinand Magellán      C) Dugovics Titusz      D) Martin Luther

Végre megkötötték a karlócai békét, új jövő elé néz Magyarország!

- A) Orániai (III.) Vilmos      B) XIV. Lajos      C) Leonardo da Vinci      D) Zrínyi Miklós

13. Igaz vagy hamis a válasz, vagy az állítás? Írd a megfelelő betűjelet a „Válaszod:” után!

- a) **Kérdés:** Legfeljebb hány nap alatt áshattak ellensáncot a keresztények a Budát felmenteni akaró török felmentő sereg ellen, ha Eszék 240 km-re van Budától és a török had átlagsebessége 60 km/48 óra.

**Válasz:** 6 nap

**Válaszod:** ....

.../3

- b) **Állítás:** Buda török elfoglalása és felszabadulása között több év telt el, mint Nagy Lajos törvényei és Mátyás halála között.

**Válaszod:** ....

- c) **Kérdés:** Hány arannyal volt több vámbevétele I. Mátyásnak egy 150 aranyat érő marhacsorda esetében, mint I. Károly Róbertnek, ha Mátyás vámadóját huszadnak nevezték?

**Válasz:** 3 arannyal

**Válaszod:** ....

**14. Töltsd ki a táblázatot betűjelekkel és számjegyekkel a fejléceknek megfelelően! Soronként csak egy betűjel és számjegy szerepelhet! Csak a számjegyek ismétlődhetnek!**

**Fogalomjelentések:**

- A) területhez kapcsolható vezető    B) tiltott könyvek jegyzéke
- C) kézműves munkán alapuló tőkés üzemi egység
- D) török lovas katona    E) egyedüli szereplő
- F) földesúri bíraskodási jog    G) török adószedő
- H) eleve elrendelés    I) függő helyzetben lévő

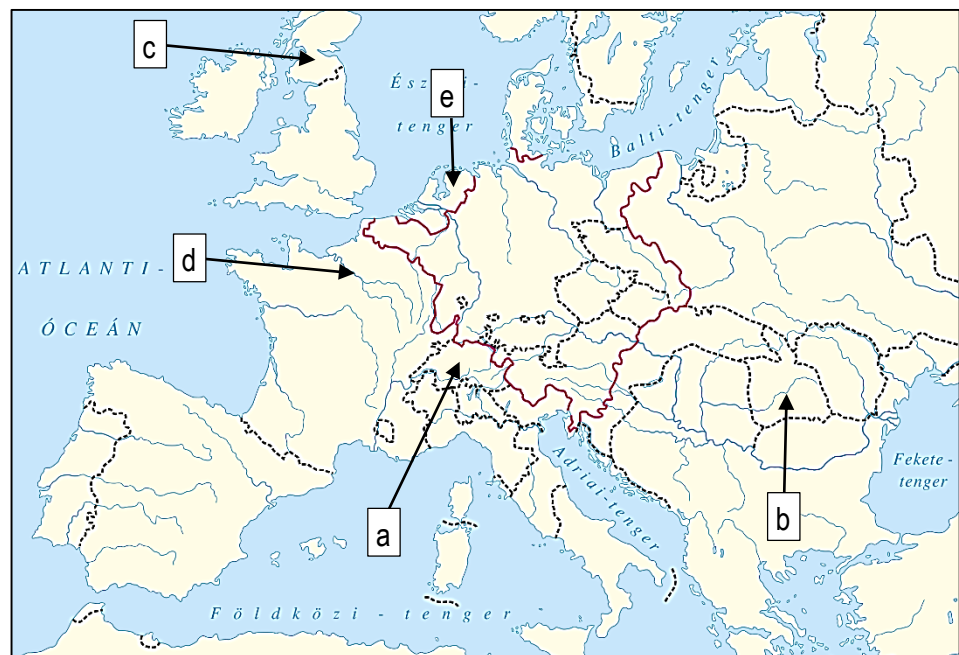
Fogalom	Fogalom jelentésének betűjele	Kapcsolat számjegye
Index		
predesztináció		
vajda		
vazallus		
monopólium		
defterdár		
manufaktúra		

**Kulcsfogalom kapcsolat**

- 1. gazdasági    2. politikai    3. vallási

**15. Válaszolj a kérdésekre, amelyek betűjele a térképen látható betűjelhez kapcsolódik!**

- a) Milyen új vallás lesz meghatározó a 16. századtól az országban?.....
- b) Melyik országtól függ- elsősorban külpolitikailag- a 16. században létrejött ország?.....
- c) Hogy hívják a 16. században az országot? .....
- d) Melyik fővárosra mutat a nyíl?.....
- e) Ez a kis ország a 17. században lesz tengeri hatalom. Mi a neve az országnak?.....



a1  
b1  
c1  
d1  
e1  
f1  
g1

.../7

a1  
b1  
c1  
d1  
e1

.../5