

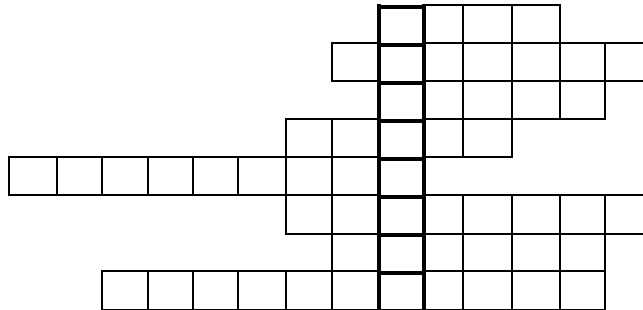
Neved:

Iskolád:

Elért pontszámod: / 92 pont

1.1. Fejtsd meg a középkori Európa életével kapcsolatos keresztrejtvényt!

- a)
b)
c)
d)
e)
f)
g)
h)



i)




- a) műveletlen földterület a nyomásos gazdálkodásban
b) „igazhitű” keresztény
c) lovagi életre készülő gyermek, ifjú
d) hordókészítő kézműves
e) bizánci főpap
f) középkori városok lakói
g) céhen kívüli iparos
h) francia alapítású lovagrend tagjai

a	b
c	d
e	f
g	h
i	j
.../ 10	

1.2. Értelmezd a megfejtésül kapott fogalmat!

2. A képek a középkori földművesek munkáját ábrázolják.

- Alkosd meg a munkavégzés helyes sorrendjét a betűjelek segítségével! A sorrend:
- Nevezd meg a nyíllal jelölt szerszámokat, eszközöket is!



a2	b
c	d
e	
.../6	

3. Számozással (1-3) állítsd fel soronként a helyes időrendet!

(A számozást a legkorábbi személlyel vagy eseménnyel kezd!

- a) Nagy Károly Kis Pipin Martell Károly
- b) Mohamed Justinianus Nagy Károly
- c) egyházszakadás keresztes hadjáratok Canossa-járás
- d) VII. Gergely II. Orbán II. Szilveszter

a2	b2
c2	d2
.../ 8	

4. A középkori Európa életét jelentősen befolyásolta az Arab Birodalom.
Keresd meg a betűhálóban az Arab Birodalommal kapcsolatos 7 fogalmat!
Írd a fogalmakat egymás alá a pontozott vonalakra! Magyarázd meg jelentésüket is!

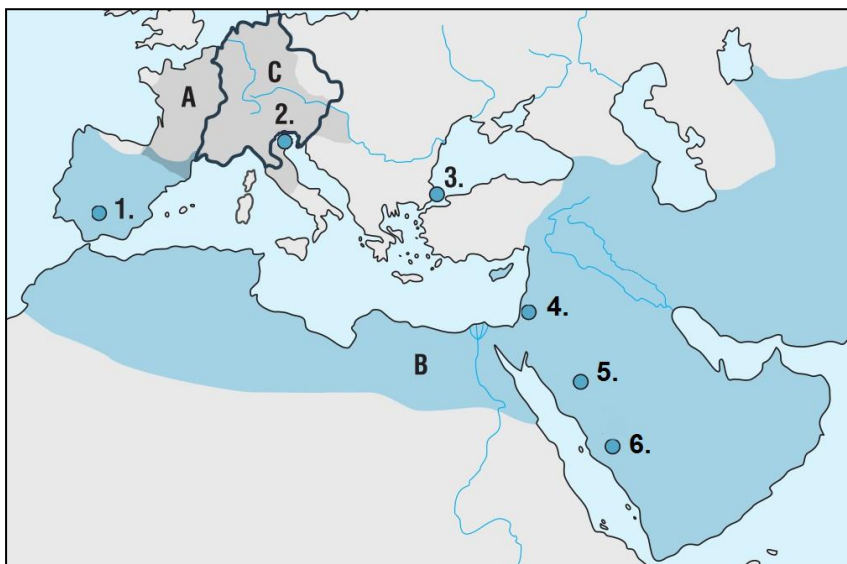
K	R	A	M	A	D	Á	N	O	M
A	Z	A	R	Á	N	D	O	K	Á
L	M	E	C	S	E	T	K	J	L
I	P	Q	R	P	R	N	L	M	Z
F	T	E	R	A	N	I	M	G	S
A	K	O	R	Á	N	K	T	J	I

A fogalom

A fogalom jelentése, magyarázata

- a) :
- b) :
- c) :
- d) :
- e) :
- f) :
- g) :

5. Melyik középkori államot, birodalmat, várost jelöltük a térképen? Írd a jelek mellé a pontozott vonalakra!

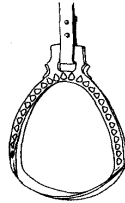
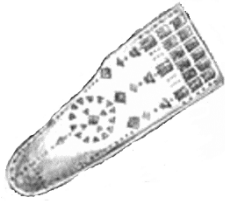


- A B C
1. 2. 3.
4. 5. 6.

a	b
c	d
e	f
g	
.../7	

a	b
c	d
e	f
g	h
i	
.../9	

6. Írd a pontozott vonalakra a tárgyak nevét és alatta azt is, hogy mire használták ősünk!



- a) c) e)
 b) d) f)

a	b
c	d
e	f
.../6	

7.1. A kalandozások kora bővelkedik mondákban. Ezeket László Gyula rajzokban is feldolgozta. Adj címeket a rajzoknak!



.....

.....

.....

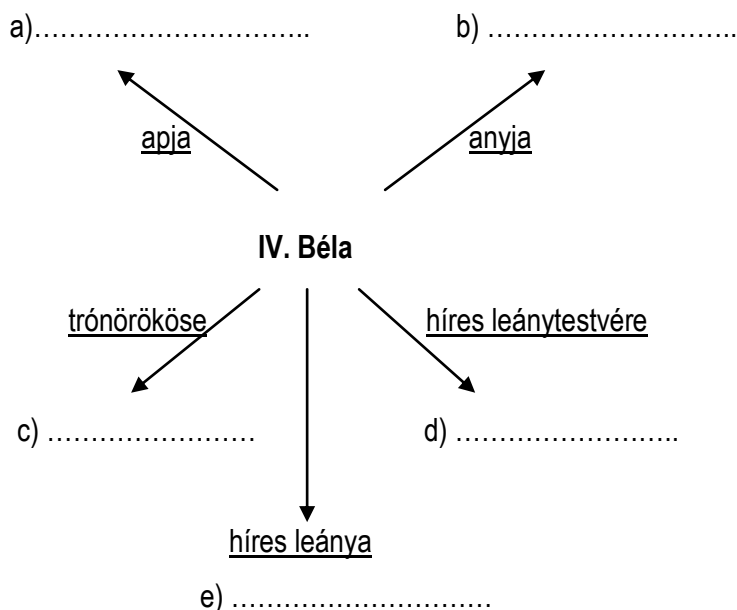
.....

7.2. Állítsd időrendbe a betűjelek segítségével a rajzokon ábrázolt eseményeket!
(Az időrendet a legkorábbi esemény betűjével kezd!

a	b
c	d
e2	
.../6	

<p>8. A következő felsorolások melyik tagja nem illik (történelmi szempontból) a sorba? Jelöld így: ☒ ! Választásodat indokold is a pontozott vonalon!</p> <ul style="list-style-type: none"> • <input type="checkbox"/> Veszprém <input type="checkbox"/> Kalocsa <input type="checkbox"/> Győr <input type="checkbox"/> Csanád • <input type="checkbox"/> I. István <input type="checkbox"/> Gellért püspök <input type="checkbox"/> I. László <input type="checkbox"/> András és Benedek • <input type="checkbox"/> Bakonybél <input type="checkbox"/> Pannonhalma <input type="checkbox"/> Veszprémvölgy <input type="checkbox"/> Tihany • <input type="checkbox"/> esztergomi érsek <input type="checkbox"/> Székesfehérvár <input type="checkbox"/> Esztergom <input type="checkbox"/> Szent Korona 	a	b																						
	c	d																						
	e	f																						
	g	h																						
	.../8																							
<p>9. Egészítsd ki az alábbi mondatokat történelmi fogalmakkal!</p> <p>a) I. István a vármegyék élére állított.</p> <p>b) A(z) élén a püspökök álltak.</p> <p>c) I. István óta országos méltóságokból álló segítette az uralkodókat a kormányzásban.</p> <p>d) A nem egyistenhívő vagy nem keresztény embereket nevezték.</p> <p>e) Bizonyíték hiányában a korai középkorban gyakran állapították meg a vádlott bűnösségét.</p>	a	b																						
	c	d																						
	e																							
	.../5																							
<p>10.1. Melyik uralkodónkra érvényesek az alábbi, kisbetűvel jelölt megállapítások? Írd a megállapítások előtti <input type="checkbox"/> -be a megfelelő betűjelet!</p> <p>A) I. András B) Könyves Kálmán C) III. Béla D) II. András E) egyik sem</p> <table style="width: 100%; border-collapse: collapse;"> <tbody> <tr><td style="width: 30px; height: 20px;"><input type="checkbox"/></td><td>a) Keresztes hadjáratra indult.</td></tr> <tr><td style="width: 30px; height: 20px;"><input type="checkbox"/></td><td>b) Francia királylányt vett feleségül.</td></tr> <tr><td style="width: 30px; height: 20px;"><input type="checkbox"/></td><td>c) Felszámolta az őt trónra segítő pogánylázadást.</td></tr> <tr><td style="width: 30px; height: 20px;"><input type="checkbox"/></td><td>d) Német-római császár hűbérese volt.</td></tr> <tr><td style="width: 30px; height: 20px;"><input type="checkbox"/></td><td>e) Hivatalt szervezett a királyi oklevelek kiadására.</td></tr> <tr><td style="width: 30px; height: 20px;"><input type="checkbox"/></td><td>f) Kezdeményezte I. László szentté avatását.</td></tr> <tr><td style="width: 30px; height: 20px;"><input type="checkbox"/></td><td>g) Kétszer került trónra.</td></tr> <tr><td style="width: 30px; height: 20px;"><input type="checkbox"/></td><td>h) Meghódította Dalmáciát.</td></tr> <tr><td style="width: 30px; height: 20px;"><input type="checkbox"/></td><td>i) Várkonyban nehéz döntés elé állította öccsét.</td></tr> <tr><td style="width: 30px; height: 20px;"><input type="checkbox"/></td><td>j) Tihanyban temették el.</td></tr> <tr><td style="width: 30px; height: 20px;"><input type="checkbox"/></td><td>k) Híressé vált kijelentése szerint: „Boszorkányok pedig nincsenek!”</td></tr> </tbody> </table> <p>10.2. Ki az az uralkodó, akire jellemzőek az általad E) -vel jelölt állítások? Nevezd meg!</p> <p>.....</p>	<input type="checkbox"/>	a) Keresztes hadjáratra indult.	<input type="checkbox"/>	b) Francia királylányt vett feleségül.	<input type="checkbox"/>	c) Felszámolta az őt trónra segítő pogánylázadást.	<input type="checkbox"/>	d) Német-római császár hűbérese volt.	<input type="checkbox"/>	e) Hivatalt szervezett a királyi oklevelek kiadására.	<input type="checkbox"/>	f) Kezdeményezte I. László szentté avatását.	<input type="checkbox"/>	g) Kétszer került trónra.	<input type="checkbox"/>	h) Meghódította Dalmáciát.	<input type="checkbox"/>	i) Várkonyban nehéz döntés elé állította öccsét.	<input type="checkbox"/>	j) Tihanyban temették el.	<input type="checkbox"/>	k) Híressé vált kijelentése szerint: „Boszorkányok pedig nincsenek!”	a	b
	<input type="checkbox"/>	a) Keresztes hadjáratra indult.																						
	<input type="checkbox"/>	b) Francia királylányt vett feleségül.																						
	<input type="checkbox"/>	c) Felszámolta az őt trónra segítő pogánylázadást.																						
	<input type="checkbox"/>	d) Német-római császár hűbérese volt.																						
	<input type="checkbox"/>	e) Hivatalt szervezett a királyi oklevelek kiadására.																						
	<input type="checkbox"/>	f) Kezdeményezte I. László szentté avatását.																						
	<input type="checkbox"/>	g) Kétszer került trónra.																						
	<input type="checkbox"/>	h) Meghódította Dalmáciát.																						
	<input type="checkbox"/>	i) Várkonyban nehéz döntés elé állította öccsét.																						
<input type="checkbox"/>	j) Tihanyban temették el.																							
<input type="checkbox"/>	k) Híressé vált kijelentése szerint: „Boszorkányok pedig nincsenek!”																							
c	d																							
e	f																							
g	h																							
i	j																							
k	l																							
.../12																								

11. Egészítsd ki nevekkel IV. Béla családi kapcsolatait szemléltető ábrát!



a	b
c	d
e	
.../5	

12. Megfelelnek vagy nem felelnek meg a történelmi valóságnak a tatárjárásról szóló állítások? Karikázd be a betűjelét, ha igen, illetve húzd át, ha nem!

- a) A közelgő tatár támadásról az első híreket a ferences rendi Julianus barát hozta.
- b) A tatár kán üzenetében önkéntes behódolásra kérte IV. Bélát.
- c) A tatár főszereg a Vereckei-hágón átkelve tört be országunkba.
- d) Dzsingisz kán 1241. április 11-én Muhinál legyőzte a magyarokat.
- e) A magyar sereg többségét könnyűlovasok alkották.
- f) A tatár támadásoknak a kővárak tudtak ellenállni.
- g) Kézai Simon Siralmas éneke a tatárjárás fontos írásos forrása.

a	b
c	d
e	f
g	
.../7	

13. Egészítsd ki a III. András uralkodásáról szóló hiányos mondatokat!

Az örökös nélkül elhunyt királyt III. András követte a trónon. III. András királyi származását és jogát a magyar trónra sokan kétségbe vonták. Uralkodása során sok háborút viselt a(z) ellen. évi halálával kihalt az Árpád-ház férfiága.

a	b
c	
.../3	