


Kódszámod:

Elért pontszámod: ..... / 100 pont

**1.1. Mi a királyi méltóság megőrzésének egyik legfőbb feltétele államalapító királyunk szerint?  
Megtudhatod a keresztrejtvény megfejtéséből.**



- |  |   |
|--|---|
| a) trónviszály résztvevője                       | i) Árpád-korban kialakított területi-közigazgatási egység                     |
| b) kolostorban élő pap                           | j) szerzetesi szabályzat  |
| c) szentek életéről szóló történet               | k) egyházi gyűlés   |
| d) középkori történetíró más szóval              | l) a „nép papja”  |
| e) Szent Benedek követői                         | m) különleges képességekkel rendelkező személy az ősi magyar hiedelemvilágban |
| f) szentektől megmaradt tárgy vagy testrész      | n) a hűbértokok latin neve  |
| g) kézzel írt könyv                              |   |
| h) ékszereket, tarsolylemezeket készítő kézműves |   |

**1.2. Melyik műből származik a keresztrejtvény megfejtése? .....**

**2. Az alábbi három állítás téves. Mindegyik mondatot - más-más szót (szavakat) véve hibásnak - kétféleképpen is igazáá teheted. Javítsd ki kétféleképpen a hibákat, hogy az állítások igazak legyenek! (Egész mondatokkal válaszolj!)**

- A jobbágyság hűséggel és katonai szolgálattal tartoztak uruknak.

.....  
.....

- A gótikus építészet egyik fontos építőeleme a félkörív.

.....  
.....

- A pannonhalmi apátság alapítólevelén I. András kézjegye látható.

.....  
.....

a	b
c	d
e	f
g	h
i	j
k	l
m	n
o	p
.../16	

a	b
c	d
e	f
.../6	

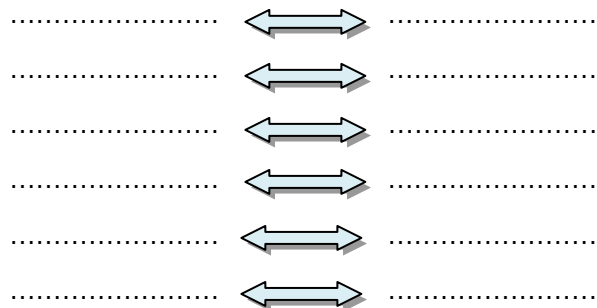
**3. Mi volt I. (Szent) István király fő célja az alábbiakkal? Írd a pontozott vonalakra!**

- a) vármegyék szervezésével .....
- b) királyi tanács felállításával .....
- c) templomok építtetésével .....
- d) tizedfizetés elrendelésével .....
- e) idegenek befogadásával .....

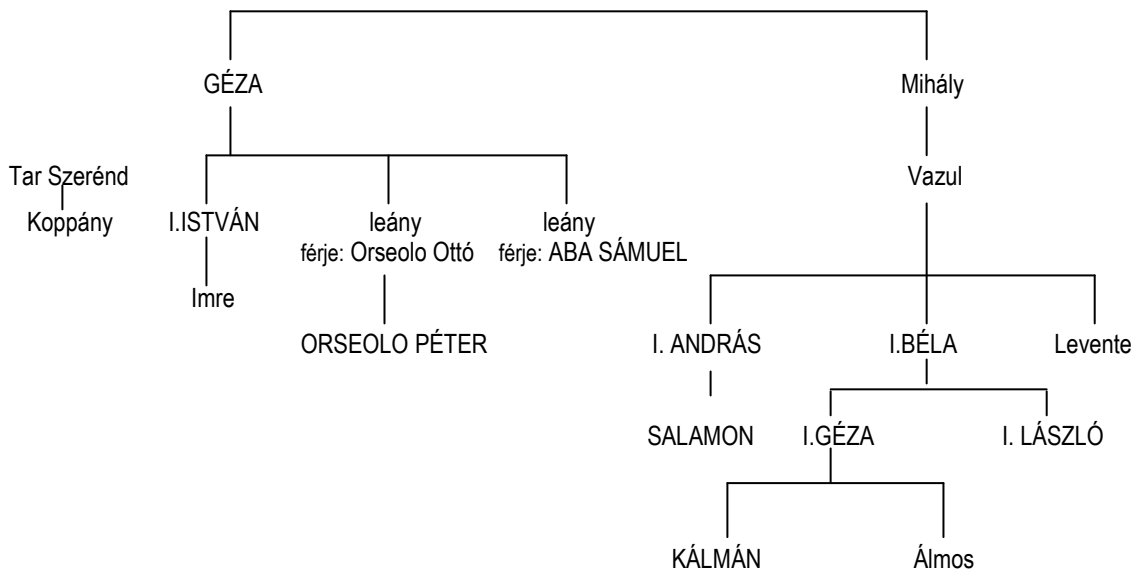
a	b
c	d
e	
.../5	

**4.1. Kik között folyt hatalmi harc a X-XII. században? Válaszolj az ábra alapján!**

A neveket az ellentétes nyilakhoz írd!



a2	b2
c2	d2
e2	f2
g	h
i	
.../15	



**4.2. Kik viseltek a XI. században hercegi címet későbbi uralkodóink közül? Karikázd be nevüket az ábrán!**

**5. Az alábbi kérdések megválaszolására három-három válaszlehetőséget adunk.  
Karikázd be a helyes válasz (esetenként a helyes válaszok) betűjelét!**

- a) Melyik párosítás helyes?  
A) Koppány - Somogyország      B) Ajtony - Erdély      C) Gyula - Maros-vidék
- b) Hol temették el I. Andrást?  
A) Esztergomban      B) Székesfehérvárott      C) Tihanyban
- c) Melyik események történtek VII. Gergely pápasága idején?  
A) IV. Henrik kiközösítése      B) az első kereszties hadak hazánkba érkezése      C) I. István szentté avatása
- d) Kik érkeztek Velencéből a Magyar Királyságba?  
A) Asztrik apát      B) Gellért püspök      C) (Orseolo) Péter
- e) Milyen foglalkozásra utal a Bocsár(d) falunév?  
A) pajzskészítőre      B) kádárra      C) ácsra
- f) Kik harcoltak egymással?  
A) I. András és III. Henrik      B) I. András és IV. Henrik      C) IV. Béla és Batu kán
- g) Melyik nem volt hercegségi központ?  
A) Békés      B) Bihar      C) Nyitra
- h) Melyik püspökséget alapította Könyves Kálmán?  
A) csanádi      B) nyitrai      C) zágrábi
- i) Kit nem volt hajlandó megkoronázni Lukács esztergomi érsek?  
A) Salamont      B) III. Bélát      C) IV. (Kun) Lászlót
- j) Melyik kódex tartalmazza a Halotti beszédet?  
A) Pray-kódex      B) Képes Krónika      C) Leuveni kódex
- k) Ki uralkodott legkésőbb az alábbi királyok közül?  
A) II. András      B) II. Béla      C) III. Béla
- l) Ki, mikor avattatta szentté I. László királyt?  
A) Könyves Kálmán 1112-ben      B) II. István 1116-ban      C) III. Béla 1192-ben

a	b
c	d
e	f
g	h
i	j
k	l
..../12	

**6. Egészítsd ki a képekről szóló ismertető szövegét!**



A korona aranyból készült, rekeszománc képecskék és drágakövek díszítik. Két részből áll. A felső koronarészt ..... koronának, az alsó abroncsot ..... koronának nevezik a képek ..... miatt. Szent Koronának először ..... király egyik oklevele nevezte. Ma a .....ben őrzik.



Az ereklyetartóban ..... király koponyacsontjának egy darabját helyezték el. Az ilyen fej- vagy mellszobor formájú ereklyetartót ..... nevezzük. Ma a .....i székesegyházban őrzik. A király másik, hasonlóan szép ereklyetartója a .....i székesegyházban látható.



A budapesti .....ben álló szobor annak az Árpád-kori történetírónak állít emléket, aki művében szerényen csak ..... mesternek nevezte magát, s mivel neve azóta sem ismert ..... nevezzük. Feltehetőleg ..... király jegyzője volt.

a	b
c	d
e	f
g	h
i	j
k	l
m	
..../13	

**7. Kire ismersz rá az alábbi életrajzi adatokból? Írd nevét a pontozott vonalakra!**

- a) ..... I. István király felesége.  
 b) ..... Békési nemzetségfő, az első pogánylázadás vezetője.  
 c) ..... Bizánci császár, udvarában nevelkedett III. Béla  
 d) ..... A tatárjárásról tudósító szemtanú, váradi kanonok.  
 e) ..... II. Béla felesége, kegyetlenségéről híres „társuralkodója.”  
 f) ..... IV.(Kun) László udvari papja, krónikaíró.  
 g) ..... Kun fejedelem a tatárjárás idején.

a	b
c	d
e	f
g	
.../7	

**8. Kinek a törvénye? Írd az uralkodó nevét és képének betűjelét a törvény szövege alá!**

- a) „A boszorkányokról pedig, mivel ilyenek nincsenek, semmiféle vizsgálatot ne tartsanak.”

**Neve:** ..... **betűjele:** ☾


- b) „Azok, akik [...] a misék szertartása alatt egymás közt mormognak, és másokat zavarnak, haszontalan történeteket mesélgetve és nem figyelve a szent olvasmányokra, [...] ha idősebbek, dorgálják meg őket, és gyalázzal üzzék ki a templomból, ha pedig fiatalabbak és közrendűek, [...] ostorozással és hajuk lenyírásával fenýítsék meg őket.”

**Neve:** ..... **betűjele:** ☾

- c) „[...] a főembereknek bármely rokonát lopás bűnében találjuk egy tyúk értékén túl, semmiképpen se rejthesse el vagy védhesse meg őt közülük senki. Azt is akarjuk, hogy magát a tolvajt, hacsak nem menekül az egyházba, akasszák fel.”

**Neve:** ..... **betűjele:** ☾

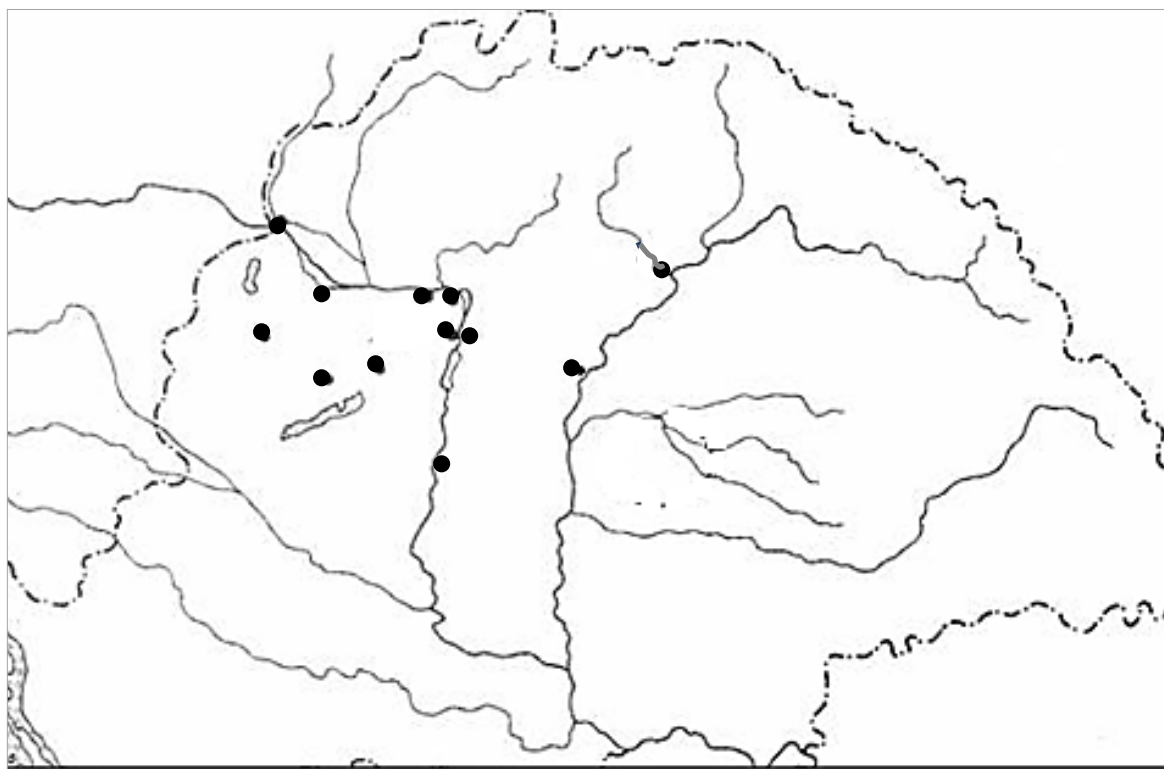
a	b
c	d
e	f
.../6	





**11. Jelöld a térképvázlatban a következőket!**

- Veszprém, Kalocsa, Esztergom, Fehérvár településeket kezdőbetűikkel!
- Az 1051-es német támadás útvonalát folyamatos nyíllal! ( —→ )
- Az 1052-es német támadás útvonalát pontozott nyíllal! ( .....▶ )
- A tatár főserég útvonalát Pestig szaggatott nyíllal! ( ---▶ )



a	b
c	d
e	f
g	
.../7	