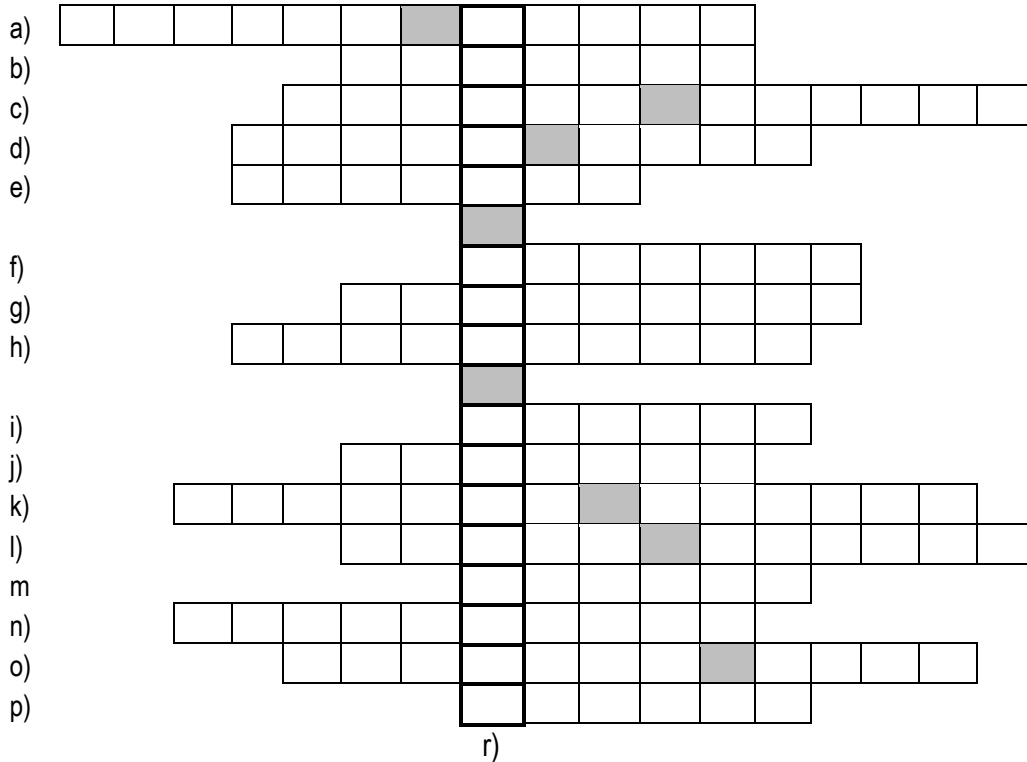


Kódszámod:

Elért pontszámod: / 100 pont

1. Milyen többletjelentésben használta Széchenyi István a *Hitel* kifejezést? Megtudhatod a kereszt-rejtvény megfejtéséből. (A szóközöket így  jelöltük.)



- | | |
|---|---|
| a) „Észak Kőrösi Csomája” | i) híres matematikusok, a két |
| b) a pesti vasútállomás korabeli szóval | j) föld nélküli vagy legfeljebb 1/8 telekkel rendelkező jobbágy |
| c) a Bánk bán című dráma szerzője | k) a Nemzeti Múzeum építésze |
| d) Széchenyi híres röpirata Kossuth ellen | l) Landerer Lajos nyomdász kiadó lapja |
| e) joggyakornok, ügyvédbojtár latin szóval | m) az alsótábla felsőtáblának küldött határozata |
| f) ennek a megyének a követe volt Kölcsey | n) az alsótábla elnöke |
| g) Kossuth által teremtett új hírlapi műfaj | o) a Szózat megzenésítője |
| h) a nyelvújítás hívei idegen szóval | p) Kossuth Lajos halálának helyszíne |

a	b
c	d
e	f
g	h
i	j
k	l
m	n
o	p
r	
.../17	

2. Melyik események történtek a *Hitel* című mű megjelenésének évében? Válaszodat jelöld így:

- | | | |
|--|--|---|
| <input type="checkbox"/> Bonaparte Napóleon halála | <input type="checkbox"/> V. Ferdinánd koronázása | <input type="checkbox"/> varsói felkelés |
| <input type="checkbox"/> Ferenc József születése | <input type="checkbox"/> párizsi forradalom | <input type="checkbox"/> brüsszeli felkelés |

a	b
c	d
e	f
.../6	

3.1. Melyik reformkori nemzetiségeket jellemzik az alábbi megállapítások? Írd a pontozott vonalakra!

- A nyugat-dunántúli Moson megyében többségben voltak.
- Általában katolikusok voltak.
- Kiterjedt szigeteket alkottak a Temesközben és a Dunántúl több körzetében.
- Jobbágyparasztok, iparúzők, tekintélyes városi polgárok egyaránt akadtak közöttük.

a).....

- Széleskörű önkormányzattal rendelkeztek.
- Saját tartománygyűlésük volt.
- Nemeseik a magyar nemesekhez hasonló jogokkal rendelkeztek.
- Ugyanúgy féltették nyelvi, kulturális érdekeiket a magyaroktól, mint a magyarok az örökös tartományoktól.

b).....

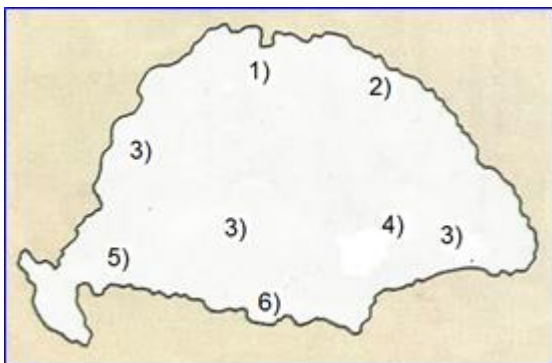
- Római katolikus és evangélikus vallásúak voltak.
- Szoros kölcsönhatásban éltek a magyarokkal.
- Nemeseik szinte kivétel nélkül magyarnak vallották magukat.

c).....

- Nagyobb részük pátriárkájuk vezetésével még a török elől menekülve telepedett meg az ország déli részén.
- A Habsburgoktól kiváltságokat kaptak.
- Görögkeleti egyházuk önkormányzatot élvezett, sőt fennhatósága kiterjedt más magyarországi görögkeleti nemzetiségre is.

d).....

3.2. Melyik nemzetiségek területi elhelyezkedését ábrázolja a térképvázlat? Írd a számok mellé a pontozott vonalakra!



- 1)
- 2)
- 3)
- 4)
- 5)
- 6)

4. Alkosd meg a helyes időrendet az eseményeket jelölő számok segítségével!

(A legkorábbi esemény száma legyen az első!)

- | | |
|--|--|
| <input type="checkbox"/> 1 Kossuth Lajos felirati javaslata | <input type="checkbox"/> 2 Pesti árvíz |
| <input type="checkbox"/> 3 Kölcsey Ferenc lemond követi mandátumáról | <input type="checkbox"/> 4 Kolerafelkelés |
| <input type="checkbox"/> 5 Törvényhatósági Tudósítások megjelenése | <input type="checkbox"/> 6 Ellenzéki Nyilatkozat kiadása |
| <input type="checkbox"/> 7 Báró Wesselényi Miklós bebörtönzése | |

Megoldás:

a	b
c	d
e	f
g	h
i	j
.../10	




a	b
c3	
.../5	

**5. Az alábbi kérdések megválaszolására három-három válaszlehetőséget adunk.
Karikázd be a helyes válasz (esetenként a helyes válaszok) betűjelét!**

- a) Kinek a kezdeményezésére tette meg gróf Széchenyi István híres felajánlását 1825-ben?
A) barátja, Wesselényi Miklós B) Felsőbüki Nagy Pál Sopron megyei követ C) Révai Miklós nyelvész
- b) Melyik programpont nem szerepelt a Stádiumban?
A) ősiség eltörlése B) kötelező örökváltság C) törvény előtti egyenlőség
- c) Ki nevezte így Wesselényit: „szörny-ölőknek szörny-ölő fia”?
A) Széchenyi István B) Kölcsey Ferenc C) Vörösmarty Mihály
- d) Melyik állítások igazak a Kossuth szerkesztésében megjelenő Pesti Hírlapra?
A) hetente egyszer jelent meg B) szépirodalmat nem közölt C) elérte az ötezres példányszámot
- e) Kik voltak az Országos Védegylet vezetőségének tagjai az alábbi személyek közül?
A) Kossuth Lajos B) gróf Batthyány Lajos C) gróf Batthyány Kázmér
- f) Kik hozták létre a Társalkodási Egyletet?
A) „honnunk szebbelkü asszonyai” B) írók, költők C) országgyűlési ifjak
- g) Hol működött az első porcelángyár?
A) Telkibányán B) Hollóházán C) Herenden
- h) Melyek voltak a reformkori Balatonfüred nevezetességei?
A) kőszínház B) Kisfaludy gőzös C) Operabál
- i) Mennyi idő alatt tette meg a Bécs és Pest távolságot az első menetrendszerűen közlekedő gőzhajó?
A) 12 óra alatt B) 1 nap alatt C) 2 nap alatt
- j) Ki nem volt a Kisfaludy Társaság alapítója?
A) Vörösmarty Mihály B) Arany János C) Bajza József
- k) Melyik megye követévé választották meg Kossuth Lajost 1847-ben?
A) Zemplén megye B) Moson megye C) Pest megye

a	b
c	d
e	f
g	h
i	j
k	
..../11	

6. Kinek a munkája? Írd a szerzők nevét a pontozott vonalakra!



*dictionary = szótár

a	b
c	d
..../4	



7. Ki mondta? Mikor (milyen alkalomból vagy melyik esemény kapcsán) mondta?

(Válaszodnak nem kell minden esetben évszámot tartalmaznia.)

- A) „Most szeretni fognak a magyarok, mert nem kérek tőlük semmit. Ki tudja, pár év múlva nem én leszek-e valamiben rájuk szorulva?”
Ki? Mikor?
- B) „Jelszavam törvény és törvényesség, s így áldozat lehetek, de bűnös nem. Adjunk hálát az Istennek, hogy tettünk annyit, miszerint üldözésre érdemesek vagyunk.”
Ki? Mikor?
- C) „Holnap ki kell vívunk a sajtószabadságot! és ha lelövöldöznek? isten neki; ki várhat ennél szebb halált?”
Ki? Mikor?
- D) „Barátom, csudákat éltünk. Nemzeti sorsunk hajszálon függött. Az első felvonás gyönyörűen sikerült ...”
Ki? Mikor?
- E) „... leborulok a nemzet nagysága előtt, s csak azt mondom, annyi energiát a kivételben, mint amennyi hazafiságot tapasztaltam a megajánlásban, s Magyarországot a poklok kapui sem fogják megdönteni!”
Ki? Mikor?

a2	b2
c2	d2
e2	
.../10	

8.1. 1848 tavaszának melyik forradalmi helyszínét ábrázolják a képek? Írd a pontozott vonalakra!



a	b
c	d
e	f
g	h
.../8	

8. 2. Melyik külföldi forradalmak gyakoroltak közvetlen hatást a magyar politikai életre?

Jelöld meg a képet így: !

9. A Tizenkét pont alábbi példánya sajnos töredékesen maradt ránk. Egészítsd ki a kiáltvány hiányos pontjait!
Válaszolj a Tizenkét ponttal kapcsolatos kérdésekre!

1848. március 15.

Mit kíván a magyar nemzet.

Legyen béke, szabadság és egyetértés.

1. Kivánjuk a' sajtó szabadságát, eltörlését.
2. Buda-Pesten.
3. országgyűlést Pesten.
4. Törvény előtti egyenlőséget polgári és vallási tekintetben.
5. Nemzeti őrsereg.
6. Közös teherviselés.
7. megszüntetése.
8. Esküdtszék. képviselőlet egyenlőség alapján.
9. Nemzeti Bank.
10. A' katonaság esküdjék meg az alkotmányra, magyar katonáinkat ne vigyék külföldre, a' külföldieket vigyék el tőlünk.
11. A' politikai szabadon bocsáttassanak.
12. Unio.

Egyenlőség, szabadság, testvériség!

Kiegészítések:



1.
2.
3.
7.
11.

Kérdések:

- Ki fogalmazta meg a kiáltvány pontjait?
.....
- Eredetileg milyen céllal készült az irat?
.....

10. Kire ismersz rá az alábbi életrajzi adatokból? Írd nevét és képének betűjelét a pontozott vonalra!

- Osztrák főherceg, II. Lipót fia. A nádori tisztséget több mint 50 esztendőn át töltötte be. Önzetlen, higgadt politikájával, a magyar érdekek óvatos képviselőjével kivívta a nemzet megbecsülését.
Neve: **betűjele:** ☾
- A jobbágyfelszabadítás apostola. Önerőből szerezte meg széleskörű műveltségét. Bejárta Nyugat-Európát. *Népkönyv* című munkájában alapjaiban támadta a feudális rendszert. 1847-ben Horvátországban tartóztatták le.
Neve: **betűjele:** ☾
- Tábormok, a fel-dunai hadsereg parancsnoka, később átvette a magyar főszereg vezényletét. A tavaszi hadjárat során sorozatos győzelmeket aratott. A szabadságharc leverése után Klagenfurtba internálták.
Neve: **betűjele:** ☾
- Osztrák hadvezér. Nemcsak az európai közvélemény, hanem saját bajtársai sem voltak túlzottan jó véleménnyel róla. „Olyan borotva, akit használat után vissza kell dugni a tokjába”- írta róla Radetzky.
Neve: **betűjele:** ☾



a	b
c	d
e	f
g	
.../7	

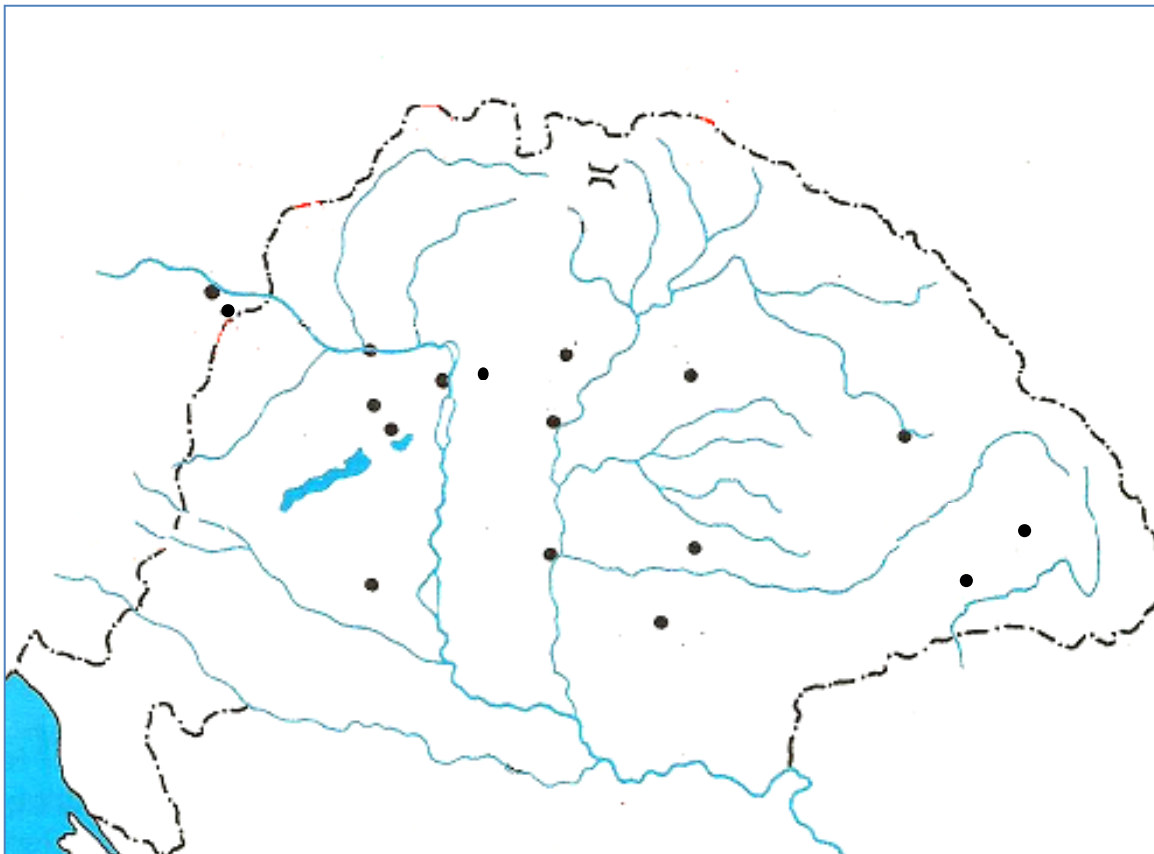
a2	b2
c2	d2
.../8	

11.1. Kik voltak a magyar seregek parancsnokai a szabadságharc alábbi csatáiban? Írd a helyszínek neve mellé a megfelelő számokat a pontozott vonalakra!

Helyszínek: Schwechat
Szolnok
Branyiszközi-hágó
Isaszeg
Nagyszeben
Kápolna
Segesvár

Parancsnokok: 1 Görgei Artúr
 2 Bem József
 3 Móga János
 4 Damjanich János
 5 Dembinski Henryk
 6 Guyon Richárd

11.2. Írd be a helyszíneket a térképvázlatba!



a	b
c	d
e	f
g	h
i	j
k	l
m	n
.../14	