

SAVARIA ORSZÁGOS TÖRTÉNELEM TANTÁRGYI VERSENY

a 9. évfolyam számára

2018-2019. TANÉV

ISKOLAI FORDULÓ

2019. január 10. 14.00 – 16.00

***Kedves Versenyző! Válaszait olvashatóan írja le!
Hiba esetén egyértelműen - egy áthúzással - javítson!***

***A versenyző neve:
A versenyző iskolája:***

A feladatsorban szereplő források hivatkozásai az értékelési útmutatóban találhatóak!

Maximum:100 pont

Elért pontszám:

A javítótanár aláírása:

1. feladat**Oldja meg a keresztrejtvényt!**

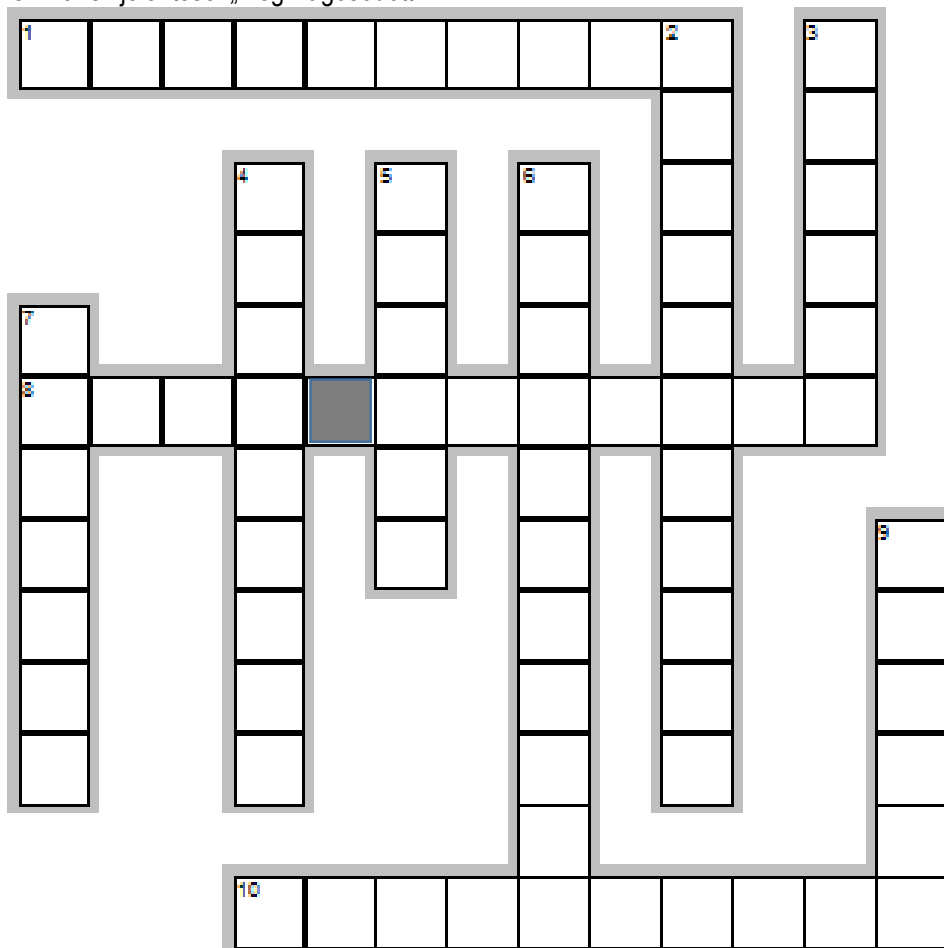
10 pont

Vízszintes

1. újkőkor
8. Az értelmes ember latin elnevezése (2 szó).
10. A Földközi-tenger keleti partvidékén és a Jordán folyó mentén elhelyezkedő terület. Nevét az egykor itt élt népről, a filiszteusokról kapta.

Függőleges

2. Egyistenhit.
3. Néppárti politikus Rómában. A hadsereg válságát a zsoldos haderő felállításával oldotta meg.
4. A világ egészével, annak kialakulásával és megismerhetőségével (az ember és a világ kapcsolatával) foglalkozó tudomány.
5. A köztársaság kori Rómában a legfőbb hivatali tisztség.
6. Korlátlan egyeduralom, amikor az uralkodó hatalmát sem törvények, sem egyéb szabályok nem korlátozzák.
7. Az egyiptomi Óbirodalom fáraója. Gízai piramisa a legnagyobb méretű ilyen síremlék.
9. A szanszkrit név jelentése: „megvilágosodott”.



Egyszerűsített

2. feladat**Azonosítsa** az ókori személyeket a rövid meghatározás segítségével! **Ügyeljen a helyesírássra!** 8 pont

Meghatározás	A személy neve
Meghódította a Perzsa Birodalmat (Kr.e. 4. század).	a)
Bevezeti a területi alapú hatalomgyakorlást Attikán.	b)
A látható világ másodrendű a szellemi világhoz képest.	c)
Ő Zeusz szobrának készítője Olümpiában.	d)
Rómát fenyegette pun hadseregével a Kr.e. 3. században.	e)
Ellenfeleit feketelisták segítségével ölette meg (Kr.e. 1. sz.).	f)
Kőbe vésett törvényei fennmaradtak a Kr.e. 18. századból.	g)
Megírta résztvevőként a peloponnészoszi háború történetét.	h)

3. feladat**Csoportosítsa** a történelmi forrástípusokat! **Írja a táblázatba a megoldás betűjelét!** 8 pont

- a) korabeli szobor b) Drakón törvényeinek szövege c) ismeretterjesztő cikk a mumifikálásról
d) korabeli népballada e) tankönyvi szöveg Spártáról f) mai térkép a Római Birodalomról
g) korabeli Vénusz-szobor h) a sumer városállamok gazdasági feljegyzései

	szájhagyomány	írott forrás	tárgyi forrás
Elsődleges			
Másodlagos			

4. feladat**Igaz vagy hamis az állítás? Jelölje a táblázatban X beírásával!** 8 pont

Állítás	Igaz	Hamis
a) II. Ramszesznek épült sziklatemploma az ókori Egyiptomban.		
b) Mózes vezette a zsidó népet Ur városából kiindulva Kánaánig.		
c) A bőr színe szerint különböző rasszok alakultak ki (pl. homo habilis).		
d) Nagy Sándor több Alexandria nevű várost alapított.		
e) A hagyomány szerint Rómának 7 királya volt.		
f) A Gracchus-testvérek meg akarták oldani a római hadsereg válságának kérdését is.		
g) Az első triumvirátus tagjai: Julius Caesar, Antonius és Pompeius.		
h) A principatus a császárság nyílt formája a Római Birodalomban.		

5. feladat

Egészítse ki a táblázatot a hiányzó évszámokkal! Írja **be** az évszám mellé a hozzátartozó név betűjelét is! 8 pont

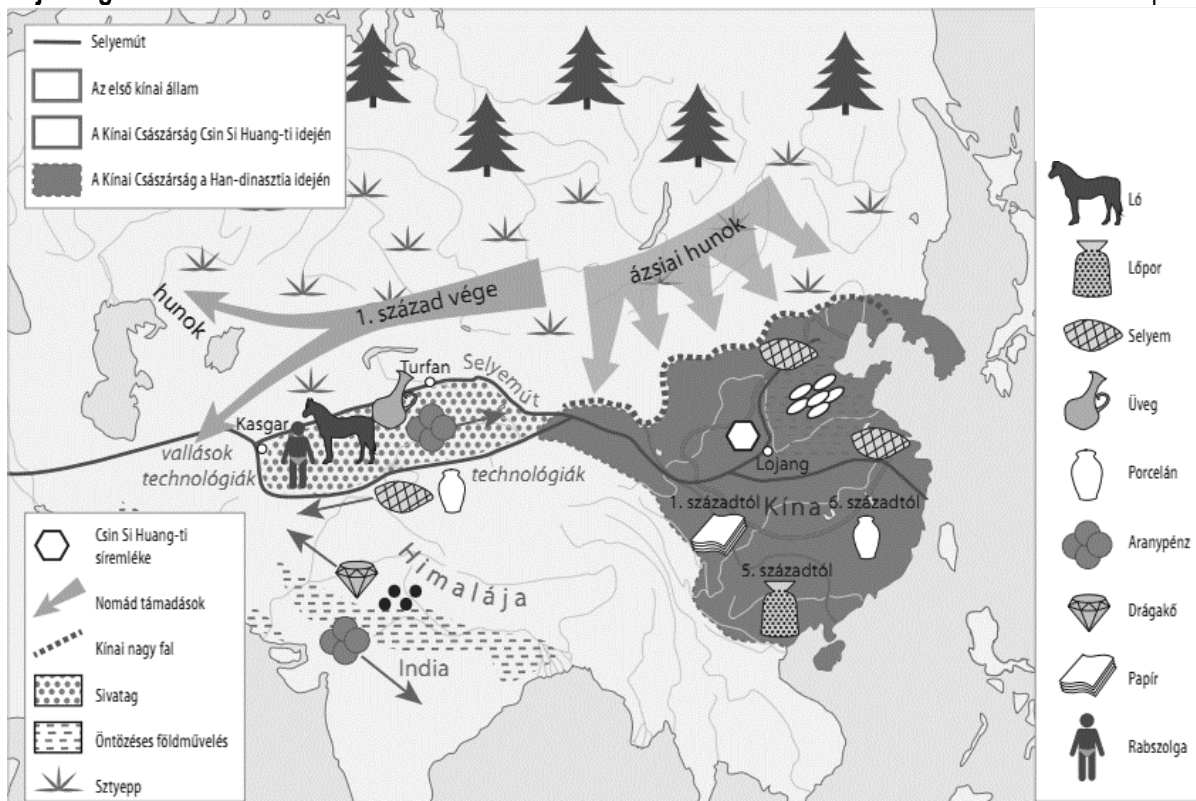
- A) Octavianus B) Hamilkar Barkasz C) Zeusz D) Miltiadész
E) III. Alexandrosz F) Romulus G) Brutus H) Periklész I) Salamon

Esemény	Évszám	Betűjel
Róma hagyomány szerinti alapítása.	a)	
Az actiumi csata.	b)	
Az ókori zsidó állam fénykora (évszázad).	c)	
Az 1. pun háború időszaka (a háború kezdő dátuma).	d)	
Julius Caesar meggyilkolása.	e)	
Az első feljegyzett olimpiai játékok.	f)	
A hellének legyőzték I. Dareiosz seregeit Marathónnál.	g)	
Nagy Sándor uralkodásának kezdete.	h)	

6. feladat

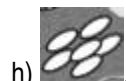
Oldja meg a feladatokat!

9 pont



- a) **Mely** ókori Keleti államok láthatók a térképen?
- b) **Milyen** fajtájú fatermelésre lehet következtetni Kínában a térkép alapján?
- c) **Milyen** élő „termékkel” kereskedtek a selyemúton a növényeken és állatokon kívül?
- d) **Miért** épült a kínai nagy fal?
- e) **Kinek** a „védelmezői” (név) az agyagkatonák?
- f) **Melyik** dinasztia időszakában érte el legnagyobb kiterjedését a kínai állam?
- g) **Milyen** gazdálkodást folytattak az ókori Kelet ázsiai birodalmai?

Mely növények jelei lehetnek az alábbiak?



.....



.....

7. feladat

Keresessen a betűhálóban idegen eredetű kifejezéseket! **Határozza meg** egy szóban az adott kifejezést!

7 kifejezés szerepel a táblázatban. A sorrend mindegy.

8 pont

T	I	R	A	M	K	E	S	E	T	I	A	E	R	J	S	T	Y	M	S
E	R	A	P	O	L	I	T	E	I	Z	M	U	S	Ú	Q	Ü	V	N	Z
A	F	P	B	C	S	E	H	Á	L	Ö	M	W	T	U	O	R	U	F	T
R	U	L	L	D	Á	Ű	N	M	E	A	O	P	P	I	Á	A	E	A	R
O	L	E	O	N	É	Ö	D	E	R	Á	P	R	O	V	I	N	C	I	A
D	A	B	V	M	O	M	K	P	A	L	A	C	L	Y	M	N	P	S	T
A	V	E	A	G	T	K	O	L	N	G	L	V	I	Í	P	I	L	I	É
D	R	J	R	O	N	I	Z	S	C	A	Ó	Z	S	Á	S	S	M	U	G
Í	X	U	F	J	L	O	L	A	Z	M	N	L	Z	I	É	Z	A	C	O
F	J	S	T	O	Ő	R	N	M	A	L	C	O	N	R	E	S	S	I	S
L	A	J	M	E	D	E	M	A	G	Ó	G	I	A	N	I	A	G	O	Z

Idegen eredetű kifejezés

A magyar jelentése

- a)
- b)
- c)
- d).....
- e).....
- f)
- g)
- h)

-
-
-
-
-
-
-
-

