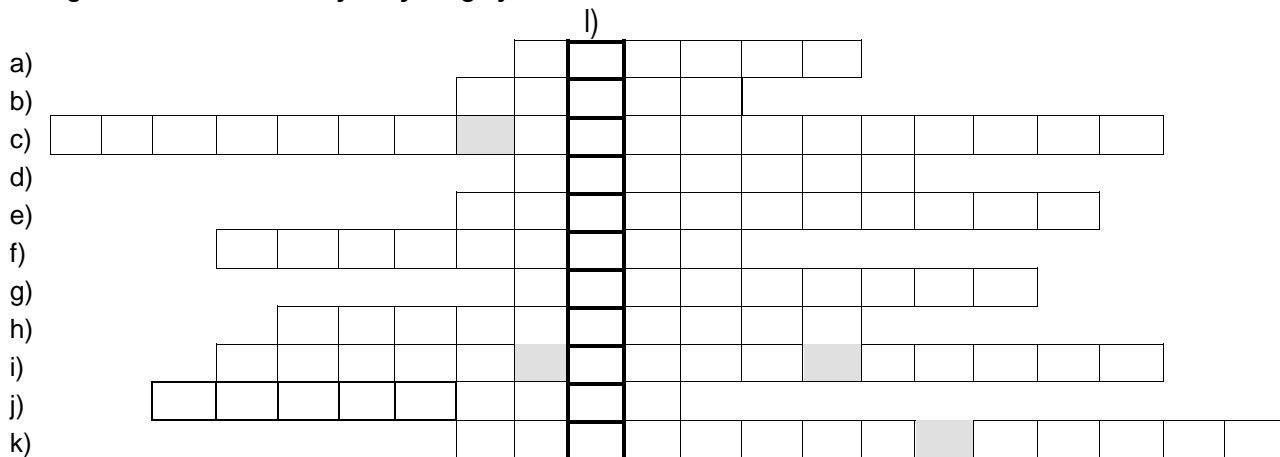


Neved:

Iskolád:

Elért pontszámod: / 92 pont

1. Hogyan nevezik latin kifejezéssel az Árpád-ház kihalását követő, király nélküli időszakot? Megtudhatod a keresztrejtvény megfejtésével.



- a) vára Zsigmond király börtöne volt
- b) pénznem, amelyben a kapudót fizették
- c) Werbőczy István tisztsége
- d) Nándorfehérvár mai neve
- e) híres felvidéki aranybánya és pénzverde, „ménéséből” kerültek ki a „sárga csikók”
- f) föld nélkül maradt jobbágyságok
- g) városi kiváltságokat élvező falusias jellegű település
- h) koronázási jelvény, amelyen az Anjou-címer is látható
- i) az 1437-es erdélyi parasztfelkelés vezetője
- j) főúri zászló alá gyűlt sereg
- k) Hunyadi János egyik önfeláldozó vitéze

a	b
c	d
e	f
g	h
i	j
k	l
.../12	

2. „ABC”. Melyik a helyes válasz? Írd a betűjelet a válasz oszlopba!

Kérdések	A	B	C	válasz
Hány uralkodócsalád ült a magyar trónon 1308 és 1526 között?	három	négy	öt	
Hány Anjou-házi királyunk volt?	kettő	három	négy	
Melyik magyar király harcolt először a törökkel?	I. Károly	I. Lajos	Zsigmond	
Ki viselte a német-római császári címet?	Zsigmond	Mátyás	mindkettő	
Ki örökölte apjától a magyar trónt?	I. Lajos	II. Lajos	mindkettő	
Melyikük uralkodott a leghosszabb ideig?	I. Lajos	Zsigmond	Mátyás	
Ki uralkodott a legrövidebb ideig?	I. Ulászló	II. Ulászló	II. Lajos	
Ki volt az első magyar királynő?	Gizella	Mária	Hedvig	

a	b
c	d
e	f
g	h
.../8	

3. Keresd meg és írd ki egymás alá a betűhálóban megtalálható nyolc fogalmat! Magyarázd meg jelentésüket is!

Ú	R	I	S	Z	É	K	K
V	P	A	L	L	O	S	K
Ő	H	j	K	O	M	D	I
S	A	B	Á	R	Ó	V	L
I	R	C	B	Z	S	I	E
S	M	E	T	R	F	N	N
É	I	S	O	M	G	A	C
G	N	C	A	D	Z	T	E
Y	V	É	G	V	Á	R	D

a	b
c	d
e	f
g	h
.../8	

fogalom

jelentése, magyarázata

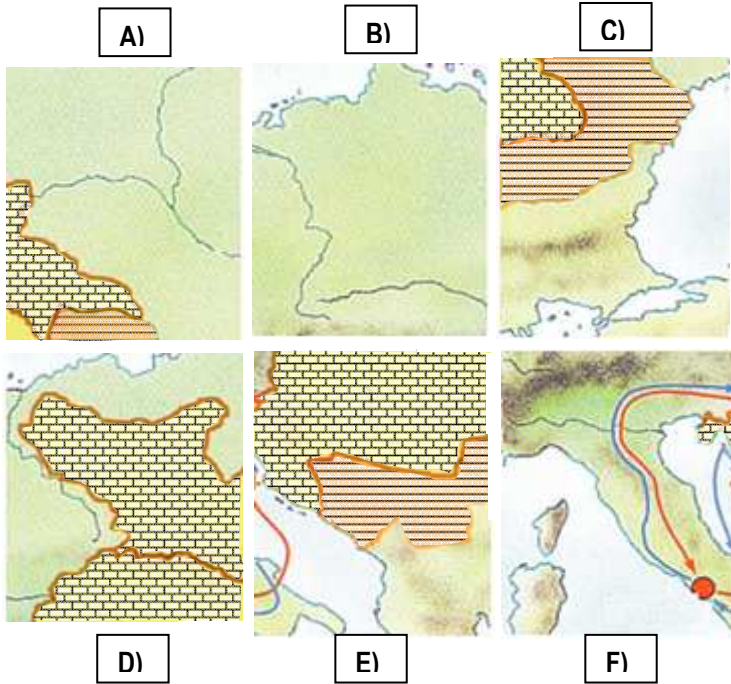
.....	:
.....	:
.....	:
.....	:
.....	:
.....	:
.....	:
.....	:
.....	:

4. Számozással állítsd időrendbe az alábbi eseményeket!

- a kilencedfizetés elrendelése
- a nagy európai pestisjárvány kezdete
- visegrádi királytalálkozó
- a Sárkány(os) rend megalapítása
- az első magyar egyetem alapítása
- magyar király lép a lengyel trónra
- az Abák leverése

a	b
c3	
.../5	

5. Térképes puzzle



a4	b
c	d
e	
.../8	

Feladatok:


- Állítsd össze a részletekből a térképet! Írd a -ba a betűjelek helyes sorrendjét!

<input type="text"/>	<input type="text"/>	<input type="text"/>
<input type="text"/>	<input type="text"/>	<input type="text"/>

- Adj címet a térképvázlatnak!

Cím:

- Készíts jelmagyarázatot a térképvázlathoz!



.....

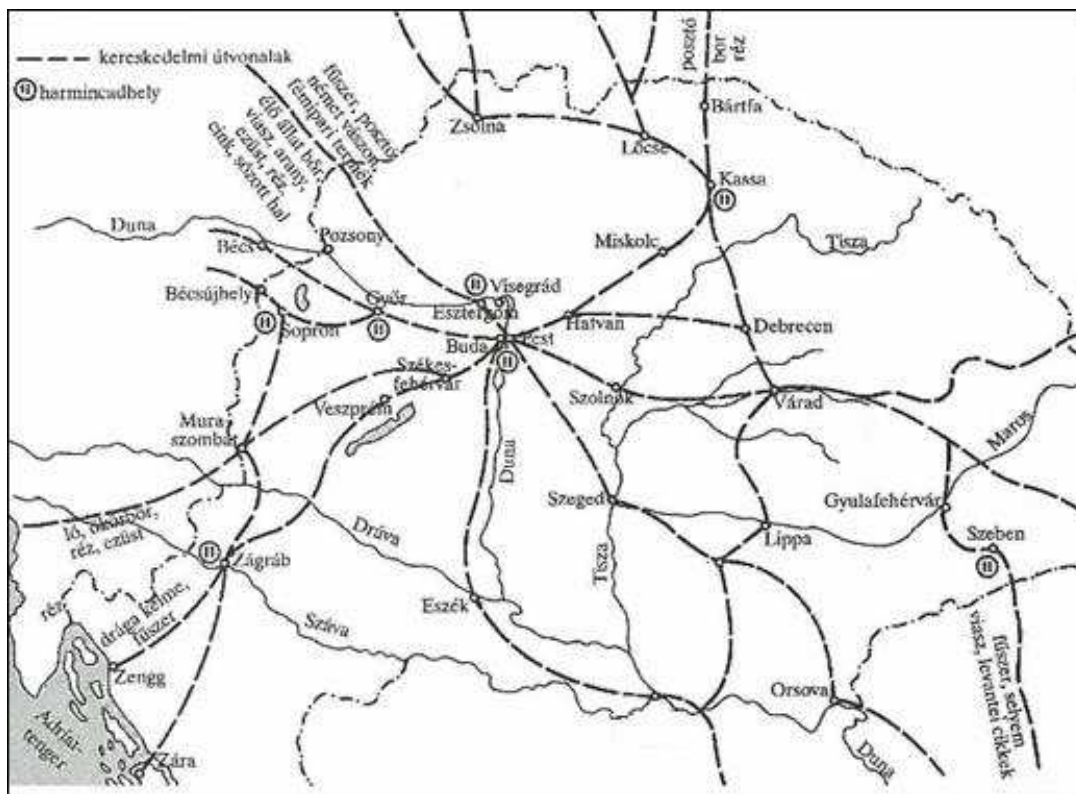


.....



.....

6. Oldd meg az alábbi térképvázlathoz tartozó feladatokat!



(Kereskedelmi útvonalak a XIV-XV. században)

Feladatok:

- Behozatal vagy kivitel? Jelöld nyilakkal a térképvázlaton jelölt árucikkneél!
- Posztókereskedőként Bártfáról Bécsűjhelyre akarsz árut szállítani. Melyik városokon kell áthaladnod? Írd a városok nevét a pontozott vonalra!

.....
.....

Hány helyen kell vámot fizetned?

7. Húzd alá egyenes vonallal az Anjou-kori, hullámos vonallal a Zsigmond korabeli kulturális és művészeti emlékeinket!

Képes Krónika corvinák óbudai egyetem diósgyőri vár pécsi egyetem

Thuróczy- krónika Sárkányölő Szent György szobra Friss-palota Hess András nyomdája

a	b
c	d
e	f
g	h
i	j
k	l
m	n
o	
.../15	

a	b
c	d
e	f
g	h
i	
.../9	

8. Melyik török ellenes harcunkat örökítette meg Thuróczy János krónikája?

Írd a pontozott vonalra! Írd le az események évszámát is!

A) „Mikor a törökök lovassága is megingott és futásnak eredt, és csupán a császári tábor állt nagy félelmek közepette a maga helyén, megszámlálhatatlan gyalogos csapattal: Ulászló király, látva, hogy az ellenséges lovasság fut, s hogy Amurát császár és tábora reszket a félelemtől, a személyének védelmére rendelt csapatot harcba indította, s miközben a vajda úr és a többiek vad küzdelemben csatáztak, megrohanta a császár táborát, teljesen meg akarta semmisíteni. A gyalogosok sűrű csapatai közé ért, azoknak a nagy sokasága rárohant, elnyomta őt a csapatával együtt: elesett.”

esemény: **évszáma:**

B) „A török császár pedig - akit a mi véneink ... Bajazidnak hívtak... - hallván, hogy a király nagy hadikészültséggel betört birodalmába, hasonlóképpen népe egész haderejét fegyverbe szólította, és övéi vitéz seregének közepette közeledett, hogy szembeszálljon a király hadával. A gallok, vagyis a frankok pedig felbuzdulva az ellenség közeledtének hírére, a király elé járultak, és kérték: engedje meg, hogy ők fogják fel az ütközet első csapásait... Amikor tehát feltűnt maga a császár a frankokat féktelen harci vágy fogta el, és mielőtt az egész királyi sereg hadirendben felállt, hogy zászlai alatt megkezdje az ütközetet, csatába bonyolódtak, kirohantak a táborból, és előreszárgulva rárohantak a szemben álló csapatokra, szokásuk szerint lóról leszállva, gyalogosan harcolva...”

esemény: **évszáma:**

C) „...ekkor a törökök összes csapatai a magyarok vitéz és elszánt rohamától megzavarodva megfutamodnak. A magyarok pedig bátorságukat visszanyerve... kardjukkal mindaddig üldözték őket, amíg az ágyúkat és a vár romba döntésére használt egyéb hadigépeket is ott nem hagyták őrizetlenül. Ezért a magyarok mindazokat az erődítéseket, amelyeket a törökök felállítottak, tűzzel felgyújtották, az ágyúkat pedig vasszegekkel beszegezték.... Nem is hagyták abba a küzdelmet mindaddig, amíg a nappali világosság tartott, nagy elszántsággal folytatták a széles mezőn azt, amit a vár szűk terén elkezdtek, amíg csak a leszálló éjszaka homályával el nem választotta a két ellenséget egymástól.”

esemény: **évszáma:**

D) „Végre ... a kormányzó úr, akiben harci erényei jóvoltából mindig volt merészség nagy feladatok megkísérlésére, arra gondolt, hogy a törökök császárát újból fegyveres haddal támadja meg. Nagy sereget gyűjtött tehát ...és az ősz első hónapja táján Szörény vára fölött átkelt a Dunán. Kemény rohammal betört Rácországba...”

esemény: **évszáma:**

a	b
c	d
e	f
g	h
.../8	

9. Jelöld az előző (8.) feladat helységneveit pontok és nevük beírásával az alábbi térkép vázlatban!



a	b
c	d
.../4	

10.1. Melyik uralkodónkra érvényesek az alábbi, kisbetűvel jelölt megállapítások?
Írd a megállapítások utáni -be a megfelelő betűjelet!

- A) I. Ulászló
- B) II. Ulászló
- C) II. Lajos
- D) egyik sem

- a) Nem a Jagelló-házból származott.
- b) Uralkodása alatt támadta meg országunkat II. Mehmed szultán.
- c) Híres hadvezére volt Hunyadi János.
- d) Uralkodása idején parasztháború tört ki az országban.
- e) Házassági szerződést kötött a Habsburgokkal.
- f) Fogságba vetette Mátyást.
- g) Részt vett törökellenes támadó hadjáratban.
- h) Kormányzója volt Hunyadi János.
- i) Uralkodása alatt esett el Nándorfehérvár.

<input type="checkbox"/>
<input type="checkbox"/>
<input type="checkbox"/>
<input type="checkbox"/>
<input type="checkbox"/>
<input type="checkbox"/>
<input type="checkbox"/>
<input type="checkbox"/>
<input type="checkbox"/>
<input type="checkbox"/>

10.2. Melyik uralkodóra jellemzőek az általad D) -vel jelölt állítások? Nevezd meg!

.....

a	b
c	d
e	f
g	h
i	j
.../10	


11. Hol járunk? Írd a pontozott vonalakra a települések nevét!

a	b
c	d
e	
.../5	



a)

b)



c)

d)

e)