

**ORSZÁGOS TÖRTÉNELEM TANTÁRGYI VERSENY**  
**2018/2019 – ISKOLAI FORDULÓ**  
**JAVÍTÁSI ÚTMUTATÓ ÉS JAVÍTÓKULCS**

A feladatok legkisebb, önállóan értékelhető elemeit, azaz az itemeket a magyar ABC kisbetűivel jelöltük. Az itemek már nem bonthatók fel további részteljesítményekre, ezért azok csak kétféleképpen értékelhetők, minősíthetők:

- a versenyző helyesen oldotta meg a feladatelemet, vagyis az item megoldott, vagy
- a versenyző hibásan vagy nem oldotta meg a feladatelemet, vagyis az item nem megoldott.

Az első esetben az item betűjelét karikázza be, második esetben húzza át!

<p><b>1. Válaszolj a kérdésekre!</b>  <b>(A) Hogy hívták Rákóczi Ferenc édesanyját?</b>  <i>Sarolt Amália</i>  <b>(B) Mikor volt a szatmári békekötés?</b>  <i>1711-ben.</i></p>	<p><del>a1</del></p> <p><b>b1</b></p> <p>1/2</p>	<p>Nem megoldott feladatelem.</p> <p>Megoldott feladatelem.</p> <p>Egy feladatelem megoldott a kettőből.</p>
<p><b>1. Válaszolj a kérdésekre!</b>  <b>(A) Hogy hívták Rákóczi Ferenc édesanyját?</b>  <i>Sarolt</i>  <b>(B) Mikor volt a szatmári békekötés?</b>  <i>1711-ben.</i></p>	<p><del>a2</del></p> <p><b>b1</b></p> <p>1/3</p>	<p>Nem megoldott feladatelem.</p> <p>Megoldott feladatelem.</p> <p>Egy feladatelem megoldott a kettőből.</p>

Egy-egy item akkor és csakis akkor tekinthető jól megoldottnak, ha a versenyző válasza, megoldása megegyezik vagy ekvivalens a javítási útmutatóban a feladatelemnél megadott megoldással.

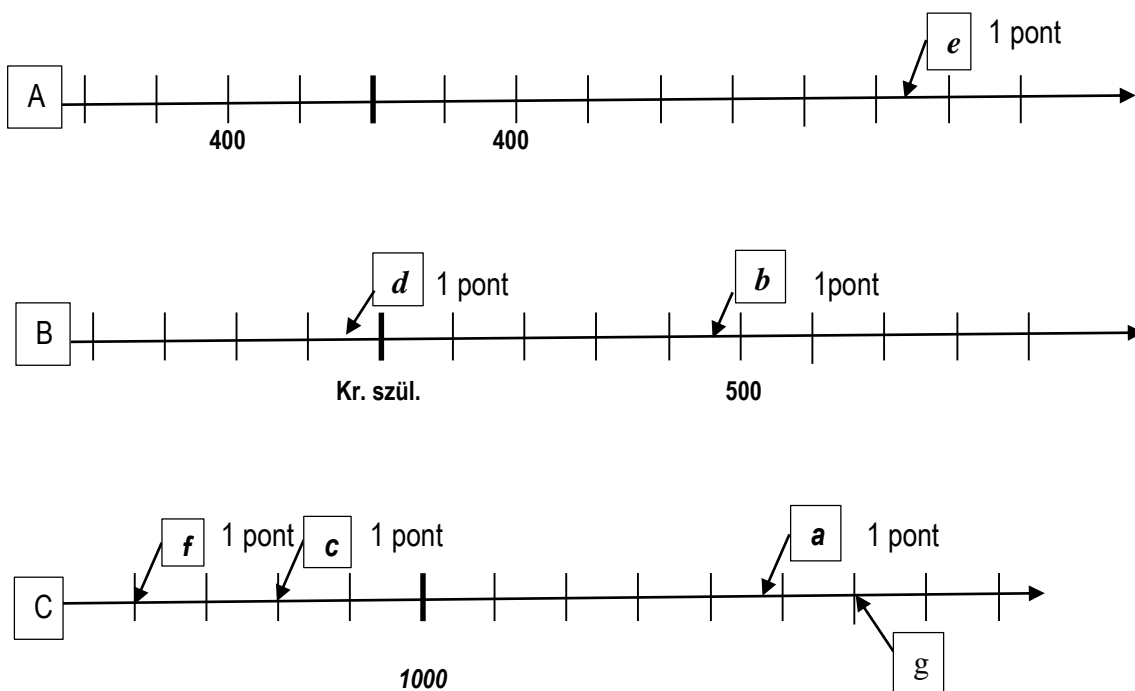
### 1. feladat

- |           |   |           |        |   |   |   |        |        |   |        |        |   |        |   |   |        |
|-----------|---|-----------|--------|---|---|---|--------|--------|---|--------|--------|---|--------|---|---|--------|
| a)        | <table border="1"><tr><td>l</td><td>e</td><td>g</td><td>i</td><td>o</td></tr></table>   | l         | e      | g | i | o | 1 pont |        |   |        |        |   |        |   |   |        |
| l         | e   | g         | i      | o |   |   |        |        |   |        |        |   |        |   |   |        |
| b)        | <table border="1"><tr><td>L</td><td>i</td><td>v</td><td>i</td><td>u</td><td>s</td></tr></table>   | L         | i      | v | i | u | s      | 1 pont |   |        |        |   |        |   |   |        |
| L         | i   | v         | i      | u | s |   |        |        |   |        |        |   |        |   |   |        |
| c)        | <table border="1"><tr><td>K</td><td>a</td><td>r</td><td>t</td><td>h</td><td>a</td><td>g</td><td>o</td></tr></table>   | K         | a      | r | t | h | a      | g      | o | 1 pont |        |   |        |   |   |        |
| K         | a   | r         | t      | h | a | g | o      |        |   |        |        |   |        |   |   |        |
| d)        | <table border="1"><tr><td>D</td><td>a</td><td>c</td><td>i</td><td>a</td></tr></table>   | D         | a      | c | i | a | 1 pont |        |   |        |        |   |        |   |   |        |
| D         | a   | c         | i      | a |   |   |        |        |   |        |        |   |        |   |   |        |
| e)        | <table border="1"><tr><td>p</td><td>r</td><td>o</td><td>v</td><td>i</td><td>n</td><td>c</td><td>i</td><td>a</td></tr></table>   | p         | r      | o | v | i | n      | c      | i | a      | 1 pont |   |        |   |   |        |
| p         | r   | o         | v      | i | n | c | i      | a      |   |        |        |   |        |   |   |        |
| f)        | <table border="1"><tr><td>g</td><td>e</td><td>r</td><td>m</td><td>á</td><td>n</td></tr></table>   | g         | e      | r | m | á | n      | 1 pont |   |        |        |   |        |   |   |        |
| g         | e   | r         | m      | á | n |   |        |        |   |        |        |   |        |   |   |        |
| g)        | <table border="1"><tr><td>T</td><td>i</td><td>b</td><td>e</td><td>r</td><td>i</td><td>u</td><td>s</td></tr></table>   | T         | i      | b | e | r | i      | u      | s | 1 pont |        |   |        |   |   |        |
| T         | i   | b         | e      | r | i | u | s      |        |   |        |        |   |        |   |   |        |
| h)        | <table border="1"><tr><td>p</td><td>a</td><td>t</td><td>r</td><td>i</td><td>c</td><td>i</td><td>u</td><td>s</td><td>o</td><td>k</td></tr></table>                               | p         | a      | t | r | i | c      | i      | u | s      | o      | k | 1 pont |   |   |        |
| p         | a   | t         | r      | i | c | i | u      | s      | o | k      |        |   |        |   |   |        |
| i)        | <table border="1"><tr><td>M</td><td>a</td><td>r</td><td>c</td><td>u</td><td>s</td><td>A</td><td>u</td><td>r</td><td>e</td><td>l</td><td>i</td><td>u</td><td>s</td></tr></table> | M         | a      | r | c | u | s      | A      | u | r      | e      | l | i      | u | s | 1 pont |
| M         | a   | r         | c      | u | s | A | u      | r      | e | l      | i      | u | s      |   |   |        |
| j)        | <table border="1"><tr><td>gladiátor</td></tr></table>   | gladiátor | 1 pont |   |   |   |        |        |   |        |        |   |        |   |   |        |
| gladiátor |   |           |        |   |   |   |        |        |   |        |        |   |        |   |   |        |

Bármely fogalom eltérő írásmódja nem ront a megoldottságon.

**Összesen: 10 pont**

### 2. feladat



A négyzetekbe írt betűjelek az itemeket jelölik!

A b,d,e itemek akkor megoldottak, ha tanuló az utasításnak megfelelően nyilat és szövegdobozt is készített, illetve ha a megfelelő és csak a megfelelő idővonalon annak megfelelő helyén jelölt.

**Összesen: 6 pont**

### 3. feladat

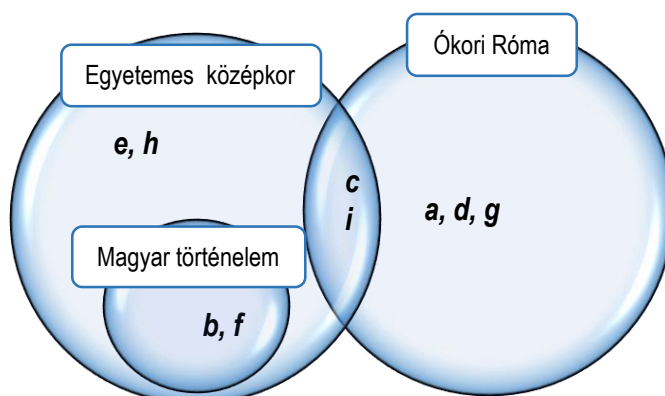
(A) Állítás	Igaz/Hamis
a) A török terjeszkedés a Fekete-tenger közeléből indult el.	<i>I</i> <b>bekarikázva</b>
b) Az E) térképen az iszlám világ mindhárom szent városának neve megtalálható.	<i>H</i> <b>bekarikázva</b>
c) Konstantinápoly városa korábbi nevén három térképen is látható.	<i>I</i> <b>bekarikázva</b>
d) A magyar sereg kör alakban védekezett a tatárok ellen.	<i>I</i> <b>bekarikázva</b>
e) A Római Birodalom területének legnagyobb része az ázsiai kontinensen feküdt.	<i>H</i> <b>bekarikázva</b>

f)	(B) Térképek betűjelei időrendben
1.	<b>C</b>
2.	<b>A</b>
3.	<b>E</b>
4.	<b>D</b>
5.	<b>B</b>

a)-e) item 1-1 pont. Az f) item csak akkor megoldott, ha az időrendi sor hibátlan, ez esetben az item 2 pont. Minden más esetben 0 pont.

Összesen: 7 pont

### 4. feladat



Az itemek akkor megoldottak, ha a betűjelek csak egy helyen, a megfelelő helyen szerepelnek. Ez esetben itemenként 1 pont adható.

Összesen: 9 pont

### 5. feladat

- a) *kódex* - 1 pont
- b) *jurta* - 1 pont
- c) *ispán* - 1 pont
- d) *konzul* - 1 pont
- e) *limes (határvédő rendszer)* - 1 pont
- f) *Újszövetség* - 1 pont

Összesen: 6 pont

### 6. feladat

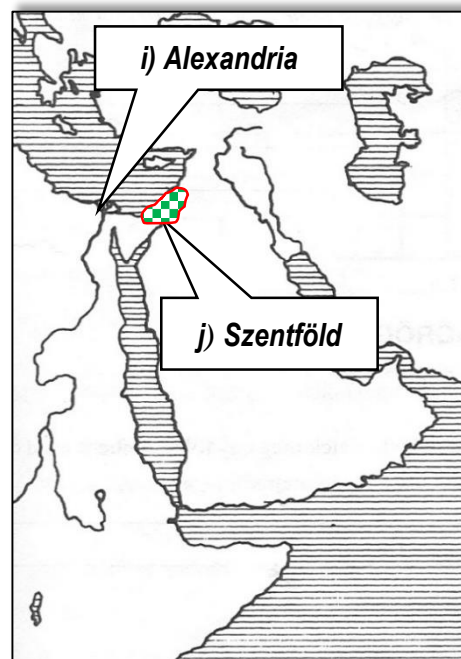
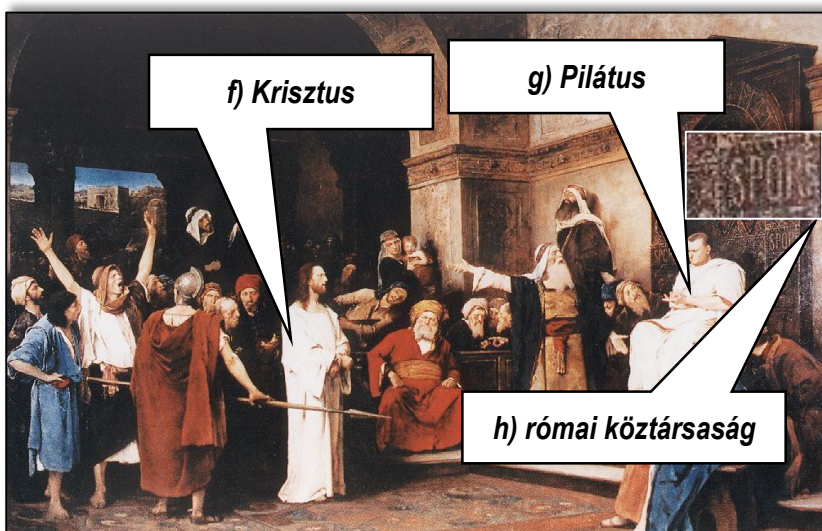
a)  B  A  C -1 pont. Az item csak akkor megoldott, ha az időrend hibátlan.

b)-e) helyes betűjelenként 1 pont

b) muszlim hódítók, keletnyugat kereskedelmének fellendülése, háromszor szent város <input type="checkbox"/> C	c) i.sz. 1. század, egyiptomi kulturális fellegvár, császárság kora <input type="checkbox"/> A	d) polgárháború, Augustus, tengeri csata <input type="checkbox"/> B	e) államforma váltás, szövetségesből ellenség, az utolsó fáraó <input type="checkbox"/> B
--	--	---	---

f)-h) helyesen beírásenként 1 pont

i)-j) helyesen beírásenként 1 pont



Összesen: 10 pont

### 7. feladat

	<b>Ok (előzmény)</b>	<b>Okozat (következmény)</b>
a)	A	<b>G - 1 pont</b>
b)	<b>K - 1 pont</b>	D
c)	<b>C - 1 pont</b>	H
d)	J	<b>F - 1 pont</b>
e)	<b>B - 1 pont</b>	E

**Összesen: 5 pont**

### 8. feladat

- a) ókori épületek:   - 1 pont
- b) nem keresztények által emelt épület:    - 1 pont
- c) magyar épület:   - 1 pont
- d) gótikus stílusban épült:  - 1 pont
- e) elsősorban vallási célokat szolgált:     - 1 pont

*Az itemenként beírt betűk sorrendje a megoldottság szempontjából indifferens.  
Egy item csak akkor megoldott, ha az összes szükséges betűjel szerepel. Ez esetben az item megoldása 1 pont.*

**Összesen: 5 pont**

## 9. feladat

a) **középkori hűbéri lánc** (láncolat), (kapcsolat) - 1 pont

b) **a magyar társadalom átalakulása** (változása) **a IX-XIII. sz-ban** (az Árpád-korban) (a középkorban) – 1 pont

vagy: középkori magyar társadalom – 1pont

c) **városok működése** és társadalma és/vagy jogai **a középkorban** (IX-XV. sz-ban) – 1 pont

vagy: középkori városi társadalom – 1 pont

vagy: középkori városok jogai – 1 pont

d) **a római köztársaság működése** és/vagy társadalma – 1 pont

római köztársaság -1 pont

e) **a középkori egyház szervezete** (hierarchiája) – 1 pont

vagy: a középkori egyház – 1 pont

*Az item teljesen csak akkor megoldott, ha mindhárom szempont része a megoldásnak.*

*Minden tartalmilag és szakmailag helyes válasz elfogadható, ha az megfelel a szempontoknak.*

**Összesen: 5 pont**

## 10. feladat

<b>Állítások</b>	<b>ábraszám</b>
a) Hazánk lakossága a tatárjárás következtében több százezer fővel csökkent.	<b>1</b>
b) A középkorban a vidéki lakosság aránya megnövekedett a városi lakosság arányához képest.	<b>X</b>
c) A középkorban kontinensünk lakossága folyamatosan nőtt.	<b>X</b>
d) Róma lakossága fénykorában meghaladhatta az 1 millió főt is.	<b>2</b>
e) Az ókorban a lakosság nagyrésze nem városokban élt.	<b>4</b>
f) A 14.században tomboló pestis következtében drasztikusan csökkent a lakosság száma.	<b>3</b>

*Helyes válaszonként 1 pont*

**Összesen: 6 pont**

### 11. feladat

- a) – **E** – 1 pont
- b) – **C** – 1 pont
- c) – **B** – 1 pont
- d) – **D** – 1 pont
- e) – **F** – 1 pont
- f) – **G** – 1 pont

Összesen: 6 pont

### 12. feladat

A pénteki napot töltsük (a) **Szombathelyen**, nézzük meg a vásári forgatagot és a légió felvonulást!

Minden hónap első szombatján (b) **Kaposmérőn**, Kassai Lajos völgyében nyílt napot tartanak. Látni fogjuk

miért is rettegett Európa 1100 éve. Dombóvár után (c) **Bikalon** egy nemrég épült középkori

élménybirtokon lesz a szállásunk. Másnap egy lovagi tornát is megnézünk, majd késő délután érkezünk meg

(d) **Pécsre**. A római alapítású város leghíresebb látnivalója felkerült a világörökség listájára is.

(e) Melyik betűvel van jelölve a térképen a turista helyes útvonala? Írd ide az útvonal betűjelét! **B**

Csak a helynevek ragozott, mondatba illő alakja fogadható el! Helyes válaszonként 1 pont.

Összesen: 5 pont

### Pontozási összesítő

sorszám	pontszám	%-os súly	itemszám	%-os súly
1	10	12,5	10	12,5
2	6	7,5	6	7,6
3	7	8,75	6	7,6
4	9	11,25	9	11,3
5	6	7,5	6	7,6
6	10	12,5	10	12,5
7	5	6,25	5	6,3
8	5	6,25	5	6,3
9	5	6,25	5	6,3
10	6	7,5	6	7,6
11	6	7,5	6	7,6
12	5	6,25	5	6,3
<b>összesen:</b>	<b>80</b>	<b>100%</b>	<b>79</b>	<b>100%</b>