

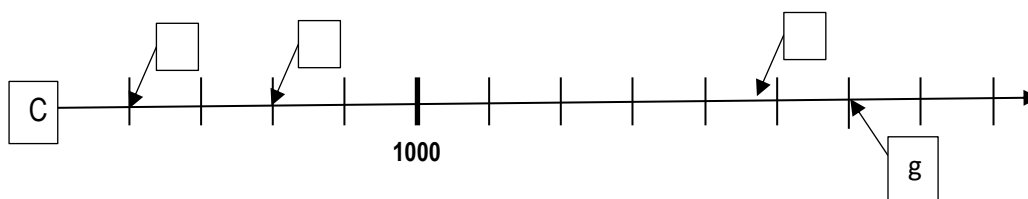
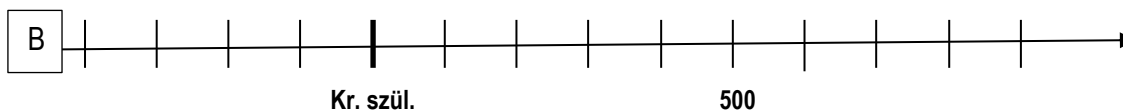
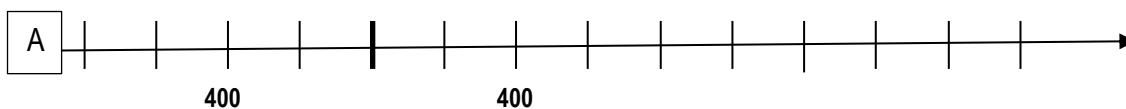


## 2. Oldd meg az időszakokkal kapcsolatos feladatokat!

(A) Írd a  C időszak üres négyzeteibe a megfelelő esemény betűjelét!

(B) Mutass rá a „C” időszalon meg nem jelölt eseményekre a legpontosabb jelölést lehetővé tévő időszakon így:  és írd bele az esemény betűjelét!

- a) Tatárjárás
- b) Nyugatrómai Birodalom bukása
- c) Honfoglalás vége
- d) Julius Caesar halála
- e) A középkor vége
- f) Nagy Károly császár lesz
- g) Árpád-ház kihalása



a1

b1

c1

d1

e1

f1

.../6

**3. Oldd meg a térképekkel kapcsolatos feladatokat!**

a1

b1

c1

d1

e1

f2

.../7

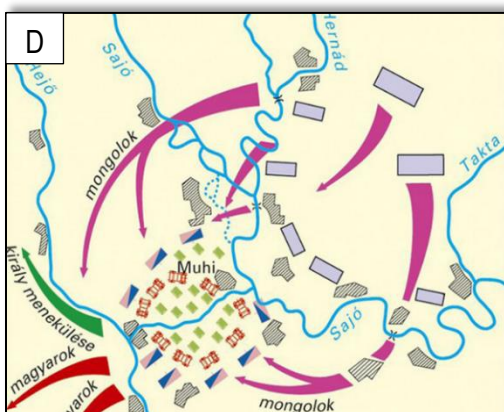
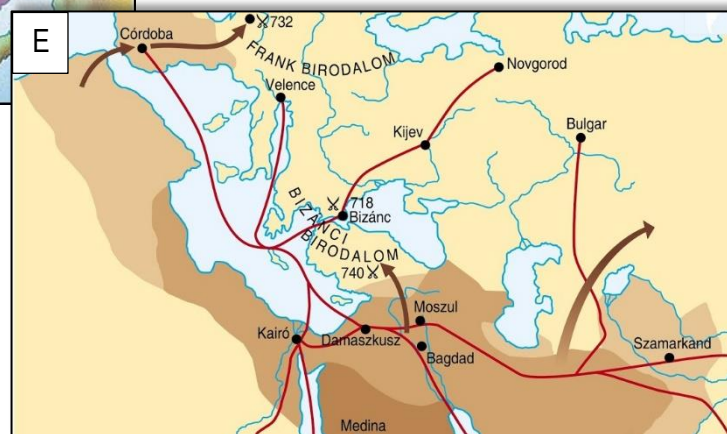
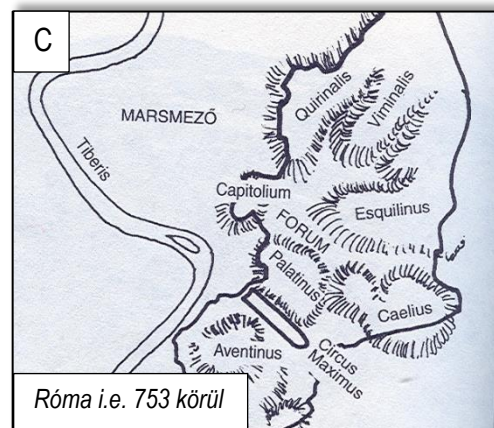
(A) Dönts a térképek segítségével az állítások igazságtartalmáról! Karikázd be soronként a megfelelő betűt!

(B) Állítsd számozással időrendbe a térképeket, az ábrázolt események, időszakok alapján! Az 1-es legyen a legkorábbi a táblázatban!

Állítás	Igaz/	Hamis
A török terjeszkedés a Fekete-tenger közeléből indult el.	I	H
Az E) térképen az iszlám világ mindhárom szent városának neve megtalálható.	I	H
Konstantinápoly városa korábbi nevén három térképen is látható.	I	H
A magyar sereg kör alakban védekezett a tatárok ellen.	I	H
A Római Birodalom területének legnagyobb része az ázsiai kontinensen feküdt.	I	H



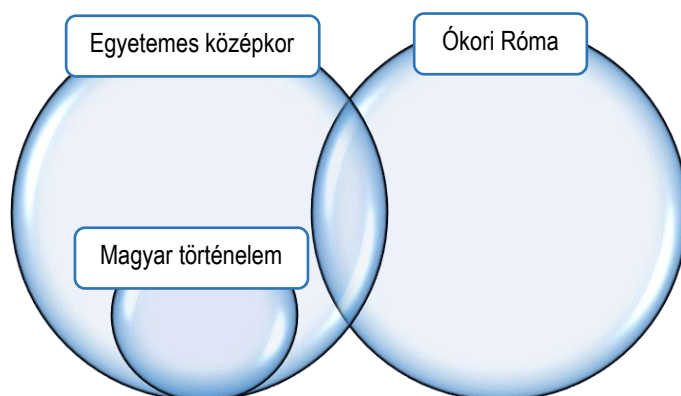
Térképek betűjelei időrendben
1.
2.
3.
4.
5.



**4. Melyik történelmi korra jellemzőek az alábbi események, fogalmak?**

Írd a halmazábra megfelelő részébe a betűjeleket! Egy betűjel csak egy helyen szerepelhet!

- a) pun háborúk kora b) kalandozások kora c) Konstatinápoly kereskedelmi központ  
 d) kereszténység kialakulása e) iszlám kialakulása f) román stílus  
 g) rabszolgafelkelések h) hűbériség kialakulása i) császári méltóság



a1

b1

c1

d1

e1

f1

g1

h1

i1

..../9

**5. Írd a pontozott vonalra az egyes felsorolásoknak megfelelő történelmi fogalmat!**

- a) másolás, sokáig készül, szerzetesek, iniciálék, miniatúrák díszítik: .....
- b) hőszigetelő anyag gyapjúból, mobil, meghatározott helyek: .....
- c) adót szed, katonaságnak parancsol, bíraskodik, képviseli a királyt a vármegyében: .....
- d) egy évre választott katonai vezető, később provincia irányítója is lehetett: .....
- e) lehet természetes, vagy mesterséges, őrtornyok, fennmaradt Skócia határánál: .....
- f) görög nyelven íródott, szent könyv fiatalabbik része: .....

a1

b1

c1

d1

e1

f1

..../6

**6. Az alábbiakban két regénnyel és egy filmmel kapcsolatos szöveget olvashatsz. Oldd meg a szövegekkel kapcsolatos feladatokat!**

A)

Spiró György regénye közel nyolcszáz oldalasra sikeredett. A téma a kétezer éves vallás, amely a nyugati civilizációt alapvetően meghatározza. Hőse az Uri nevű egyszerű, rövidlátó kisfiú, aki Krisztus megfeszítésének századában született. A kalandregénynek is beillő fejlődéstörténet az ő útján vezet végig: a római zsidók között felcseperedett fiú különös módon tagja lesz a delegációnak, amely Jeruzsálemba viszi az adót, és ez a gyenge fizikumú kölyök Jeruzsálemben, Júdeán és Alexandrián keresztül vándorol, hogy aztán évek múlva visszajusson Rómába. Valahogy mindig többnek hiszik, így olyan kiváltságos helyzetekbe kerül, hogy együtt vacsorázik Pilátussal, a császárnak tolmácsol, de gyakran a legsanyarúbb számkivetettség a sorsa.

(ajánlás Spiró György Fogság című regényéhez)

B)

A gigászok philippi csatája után, ahol a legutóbbi – akkor még úgy hittük: utolsó – kötetben elhagytuk a történetet, végképp úgy fest, hogy Róma ura immár a ravasz és elszánt, nő- és országhódításban, ivászatban és barátságban verhetetlen hős: Marcus Antonius. Csak épp megjelenik egy fura figura, egy Octavianus nevű tizennyolc éves kis senki, és Julius Caesar végrendeletét lobogtatva követeli jussát: a hatalmat. Antonius erőt és muníciót gyűjteni Egyiptomba vonul, ahol már tárt karokkal várja a korábbi kötetekből is jól ismert Kleopátra királynő. Mindkettejük végzete lesz az elsöprő szerelem álarcát öltő, rosszul felmért érdek: a kezdetben lebecsült ellenfél jeges ésszel tör a végső leszámolásra. Az actiumi ütközet a szeretőknek bukást hoz, Octavianusnak császári trónt – a római köztársaságnak békét. A diktatúra békéjét.

(ajánlás Colleen McCullough: Antonius és Kleopátra című regényéhez)

C)

Balian egy kis francia falu patkolókovácsa. Elveszítette a családját, és kis híján a hitét is. A keresztes háborúból érkező Godfrey lovag világosítja fel küldetéséről. Kiderül, hogy ő az apja, aki felfedi előtte a lovagi élet valódi értelmét, majd magával viszi őt Szentföldre. Eleinte úgy tűnik, távol áll Baliántól a vallási célokért vívott háború, ám mégiscsak magával ragadja a hév. Jeruzsálem hamis csillogása és a lovagok ármánykodása közepette szerelembe esik, majd egyik vezéralakja lesz az eseményeknek. Végül minden bátorságát és tudását összeszedve megpróbálja megvédeni a várost a hatalmas fölényben lévő ellenséggel szemben.

(ajánlás Ridley Scott Mennyei Királyság című filmjéhez)

**(A) Tedd időrendi sorrendbe a szövegeket az olvasott történelmi események alapján! Kezdd a legkorábbi eseményről szóló szöveg betűjével!**

**(B) A felsorolások a téglalpokban egy-egy szöveghez kapcsolhatók. Írd a téglalpok négyzeteibe a megfelelő szöveg betűjelét!**

muszlim hódítók, kelet-nyugat kereskedelmének fellendülése, háromszor szent város

i.sz. 1. század, egyiptomi kulturális fellegvár, császárság kora

polgárháború, Augustus, tengeri csata

államforma váltás, szövetségesből ellenség, az utolsó fáraó

a1

b1

c1

d1

e1

f1

g1

h1

i1

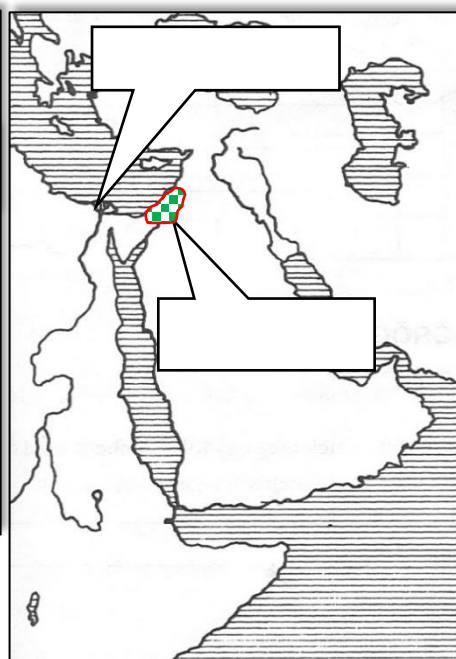
j1

.../10

(C) Az alábbi festmény és térkép kapcsolható egy vagy akár több szöveghez is! Írd a téglalpbuborékokba a szövegekből aláhúzott kifejezések közül a megfelelőt!



Munkácsy Mihály festménye



7. Töltsd ki a táblázatot a megadott leírásokból válogatva!

- A) gazdasági válság, barbár támadások
- B) vereség Augsburgnál, Bizánc és a Német-római Császárság szövetségkeresése
- C) hódító háborúk, paraszti terhek növekedése, elszegényedés
- D) szigorú tulajdont védő törvények, ősi szertartások betiltása
- E) Géza fejedelem követküldése Bajorországba
- F) népesség növekedése, városiasodás, kereskedelem fellendülése
- G) a birodalom kettéosztása
- H) zsoldosereg felállítása
- I) Honfoglalás és kalandozások
- J) mezőgazdasági újítások, javuló éghajlat
- K) pogánylázadások, népesség belső vándorlása, lopások számának növekedése

Ok (előzmény)	Okozat (következmény)
A	
	D
	H
J	
	E

a1

b1

c1

d1

e1

.../5

8. Írd az állításoknak megfelelő képek betűjelét az állítások után!

a) ókori épületek:

b) nem keresztények által emelt épületek:

c) magyar épületek:

d) gótikus stílusban épült:

e) elsősorban vallási célokat szolgáltak



a1

b1

c1

d1

e1

.../5



E

F



10. Írd az állítások után, az állításokat igazoló ábraszámot a táblázatba. Megfelelő ábra hiányában az állítás után tegyél „X”-jelet!

a1

b1

c1

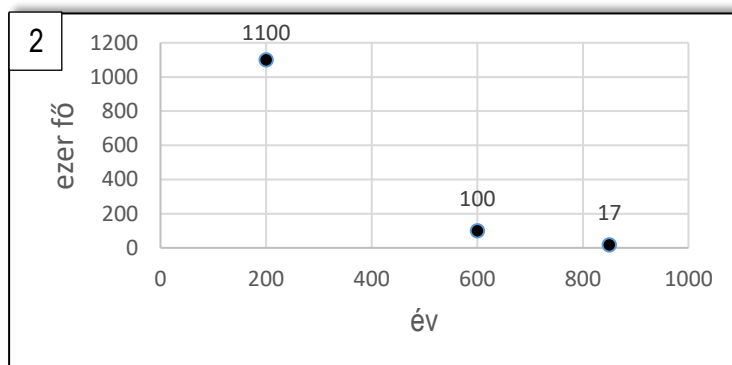
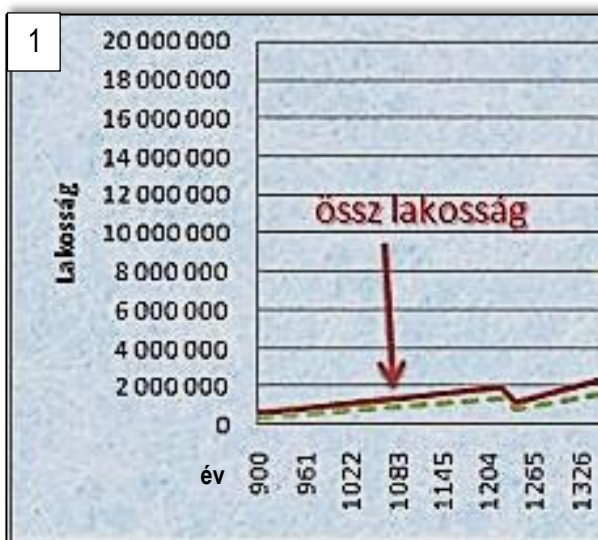
d1

e1

f1

.../6

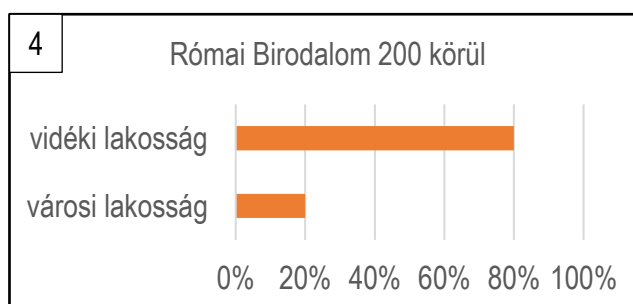
Állítások	Ábraszám
Hazánk lakossága a tatárjárás következtében több százezer fővel csökkent.	
A középkorban a vidéki lakosság aránya megnövekedett a városi lakosság arányához képest.	
A középkorban kontinensünk lakossága folyamatosan nőtt.	
Róma lakossága fénykorában meghaladhatta az 1 millió főt is.	
Az ókorban a lakosság nagyrésze nem városokban élt.	
A 14. században tomboló pestis következtében drasztikusan csökkent a lakosság száma.	



**Európa népessége (Biraben 1979)**

Kr.u.	millió fő
600	22
1000	30
1200	49
1340	74
<b>1400</b>	<b>52</b>
1500	67
1600	89

3

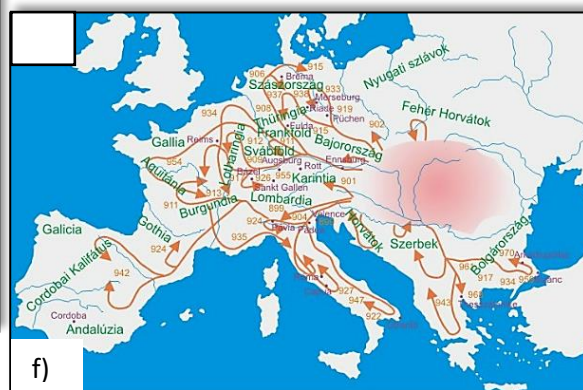
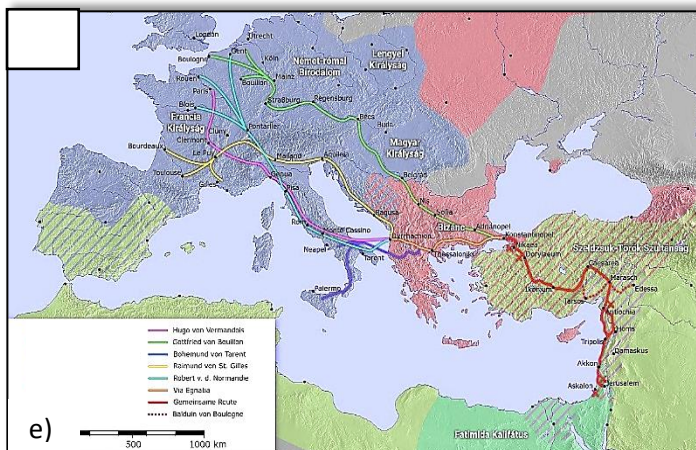
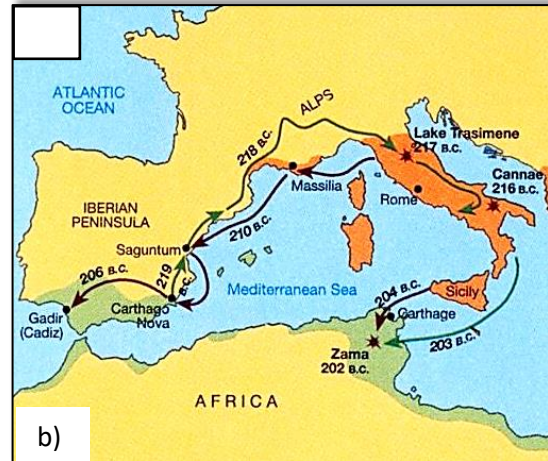
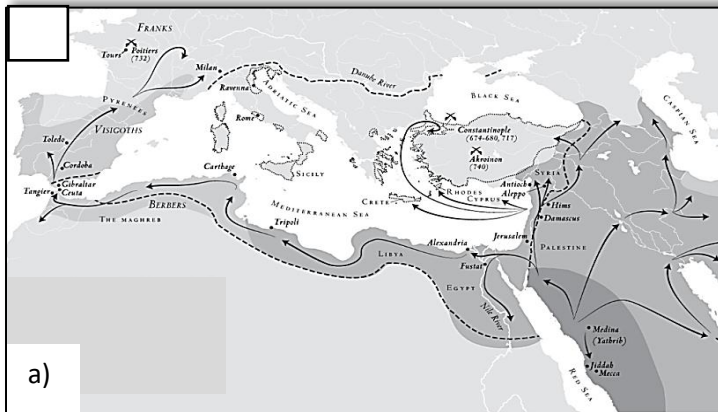


11. Melyik felsorolt történelmi eseményhez kapcsolhatók az alábbi térképek? Írd a térképeken lévő  -ba a megfelelő esemény betűjelét!

- A) Tatárjárás B) Népvándorlás C) Pun háború D) Őseink vándorlása E) Iszlám hódítás  
 F) Keresztes háborúk G) Kalandozások

- a1  
 b1  
 c1  
 d1  
 e1  
 f1

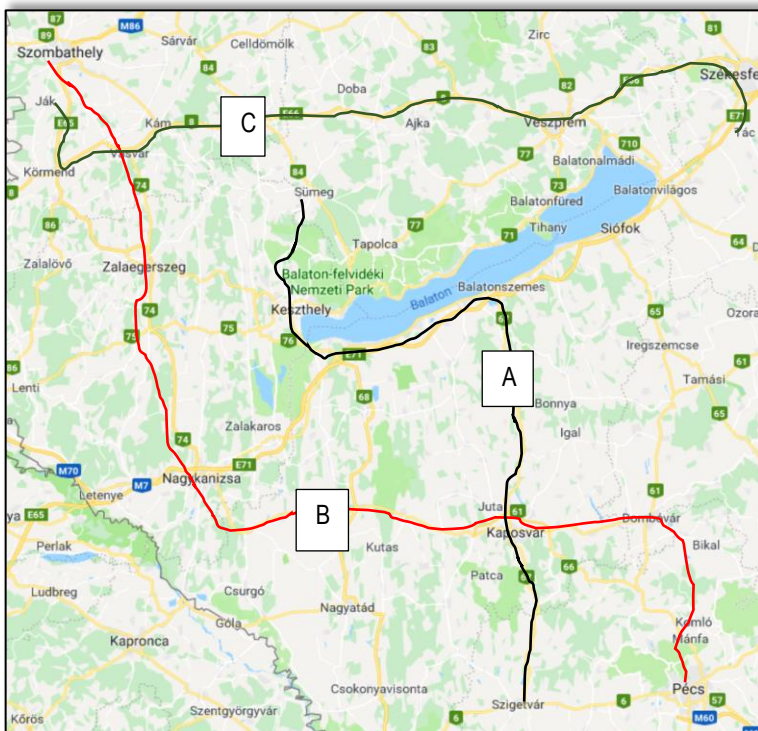
.../6



**12. Egy turista kirándulásának tervezésekor az alábbi képeket gyűjtötte össze.  
(A) Egészítsd ki útvonaltervének szövegét mai helynevekkel!**

A pénteki napot töltsük....., nézzük meg a vásári forgatagot és a légió felvonulást!  
Minden hónap első szombatján....., Kassai Lajos völgyében nyílt napot tartanak. Látni fogjuk  
miért is rettegett Európa 1100 éve. Dombóvár után .....egy nemrég épült középkori  
élménybirtokon lesz a szállásunk. Másnap egy lovagi tornát is megnézünk, majd késő délután érkezünk meg  
..... . A római alapítású város leghíresebb látnivalója felkerült a világörökség listájára is.

**(B) Melyik betűvel van jelölve a térképen a turista helyes útvonala?  
Írd ide az útvonal betűjelét! .....**



Kaposmérő címere

a1

b1

c1

d1

e1

..../5