

Kódszámod:

Elért pontszámod:

/ 100 pont

1. A betűrejtvény Széchenyi István nyolc gyakorlati alkotását tartalmazza. *Jelöld áthúzással* ezeket a betűhálóban, majd a megfejtéseket *írd ki* a pontozott vonalakra is!

A	B	C	S	A	B	C	D	E	F	G	A	B	C	D	E
D	E	F	Í	A	K	A	D	É	M	I	A	S	Ó	F	Q
N	Ó	A	U	É	F	H	Á	Ő	Ő	W	Y	S	B	M	B
E	N	A	R	Ú	Y	E	O	Ü	É	E	R	Z	U	N	A
M	I	B	Y	X	L	Á	N	C	H	Í	D	Z	D	F	G
Z	Z	B	T	Á	A	S	S	Z	Y	X	J	J	A	I	I
E	S	X	Q	R	R	Á	Y	G	Ó	J	A	H	I	K	V
T	A	Y	E	E	É	Ő	Ő	Ú	Ü	T	T	W	X	Y	H
I	K	X	P	E	Z	Ú	Y	F	C	B	A	Z	M	K	Y
D	X	C	H	T	T	Q	A	S	S	I	I	L	L	X	T
E	A	H	E	N	G	E	R	M	A	L	O	M	Q	Y	É
L	A	X	Z	W	L	Ó	V	E	R	S	E	N	Y	Ö	L
S	É	I	O	Á	W	S	S	Z	Ő	T	Ö	K	I	K	I
Ó	P	E	S	T	I	G	É	P	G	Y	Á	R	A	B	E

.....

.....

.....

.....

2. Fogalmazd meg röviden, Kossuth Lajos programjának mely pontjai jelennek meg a következő gondolatokban!

„Európa-szerte csak a koldus adómentes, nálunk viszont az úr.”

„Mi történjék ezzel a néppel itt? a népnek eme millióival?...
Járjon robotra és adjon dézsmát, kilenczedet?”

„ Ipar nélkül a nemzet félkarú óriás”

„Addig engedjen a nemesség kiváltságaiból,
amíg a nép nem kényszeríti erre.”

„A nemzeti erő valódi megtörhetetlen magköve” a
„középrendű nemesség”

a	b
c	d
e	f
g	h
.../8	

a	b
c	d
e	
.../5	

a	b
c	d
e	f
g	h
i	j
.../10	

3. Olvasd el a következő szöveget, majd oldd meg a hozzá kapcsolódó feladatokat!

„Javában tartott Pozsonyban az 1847-48. évi országgyűlés, amikor 1848 tavaszán – a népek tavaszán – megmozdult Európa.

Február 23-án forradalom tört ki Franciaország fővárosában ... Párizsból a forradalom futótűzként terjedt tovább. Európa feudális államiban egymás után robbantak ki forradalmak, s egyik ország forradalma erősítette a másikat

A Habsburg Birodalomban elsőként március 11-én Prága népe mozdult meg.

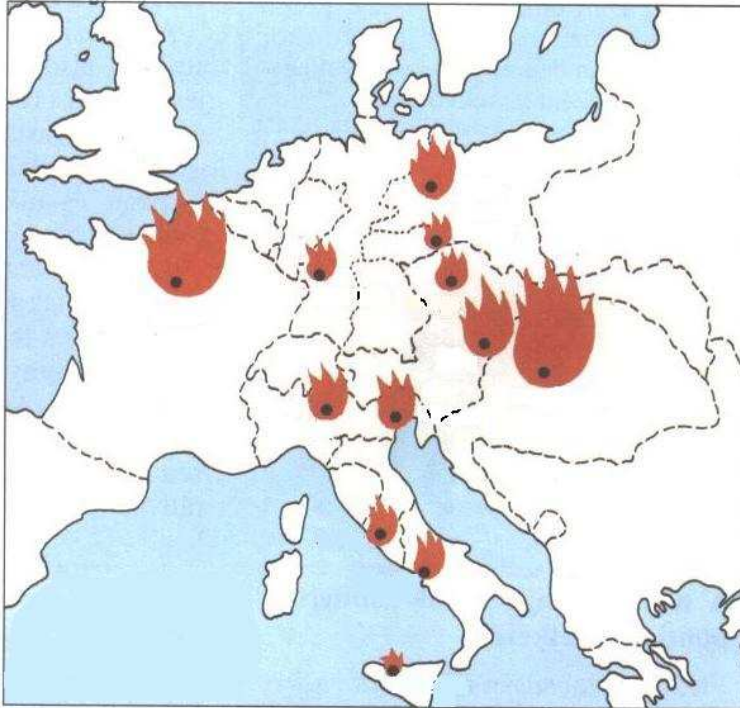
Két nap múlva, március 13-án kitört a bécsi forradalom ...

Bécs forradalmát napokon belül újabb forradalmak követték: Pesten (március 15.), majd az olasz nagyvárosokban, Milánóban (március 18.) és Velencében (március 22.)

Március 18-án Berlinben is barikádok emelkedtek.” (tankönyvi szöveg alapján)

Feladatok:

- **Jelöld a térképvázlatban az 1848-as forradalmak szövegben szereplő helyszíneit!**



- **Fogalmazd meg, milyen hatással volt a pozsonyi országgyűlésre**

a párizsi forradalom:

.....

és a bécsi forradalom:

.....

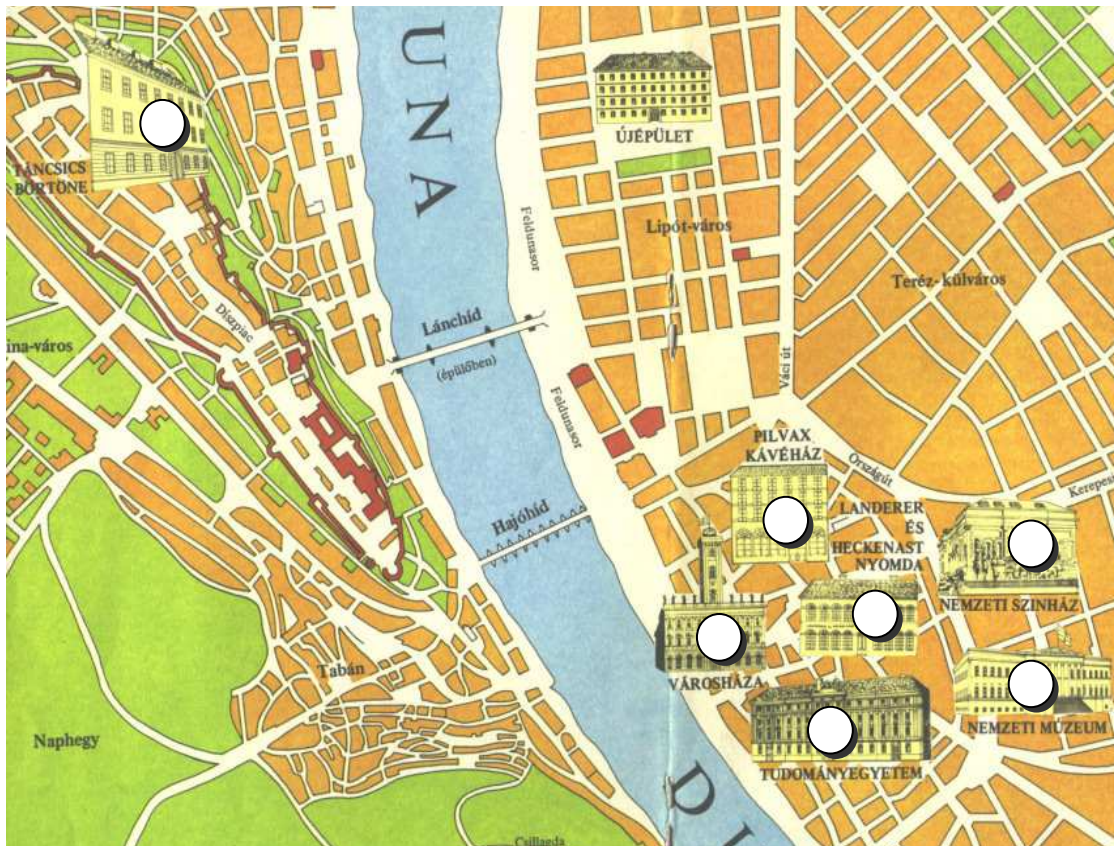
- **Nevez meg egy olyan várost, ahol a forradalom fő céljai megegyeztek a pesti forradalom céljaival!**

.....

a4

.../4

4. (A) Jelöld Pest-Buda térkép-vázlatán számokkal (1-7-ig) időrendi sorrendben a március 15-i forradalom helyszíneit!



(B) Írd be a táblázatba a számok mellé azt a fontos eseményt, amely a forradalom napján az egyes helyszíneken történt!

a	b
c	d
e	f

g

.../7

időrend	esemény
1.	
2.	
3.	
4.	
5.	
6.	
7.	

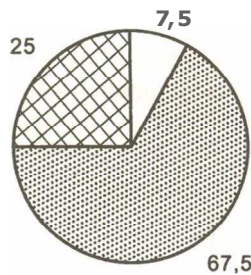
5. Karikázd be a következő felsorolásban azoknak a betűjelét, akik az áprilisi törvénykönyv alapján rendelkeztek választójoggal! Húzd át azoknak a betűjelét, akiknek nem volt választójoguk!

- (a) szombathelyi premontrei rendi gimnáziumi tanár
- (b) esztergomi érsek
- (c) özvegy grófné
- (d) 25 éves negyedtelkes büki jobbágy
- (e) 19 éves jurátus
- (f) 21 éves vasvári takácssegéd
- (g) hétszilvafás győrvári nemes

a	b
c	d
e	f
g	
.../7	

6. Tanulmányozd az első népképviseleti választások eredményeit bemutató diagramot, majd válaszolj a kérdésekre!

A választópolgárok rétegződése
1848-ban (%-ban)



volt nemes

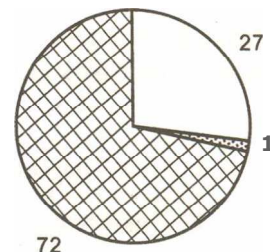


felszabadult jobbágy



egyéb

A megválasztott képviselők összetétele
1848-ban (%-ban)



Kérdések:

Kik közül került ki a választópolgárok többsége 1848 nyarán?

Kik közül került ki a megválasztott képviselők többsége?

Mivel magyarázod ezt?

.....

Melyik az a társadalmi réteg, amelyik legkevésbé tudta érvényesíteni a választásokon a saját érdekképviseletét?

Mivel magyarázod ezt?

.....

Fogalmazd meg, melyik számadattal hogyan utal a diagram a meginduló polgárosodásra!

.....

a	b
c	d
e	f
.../6	

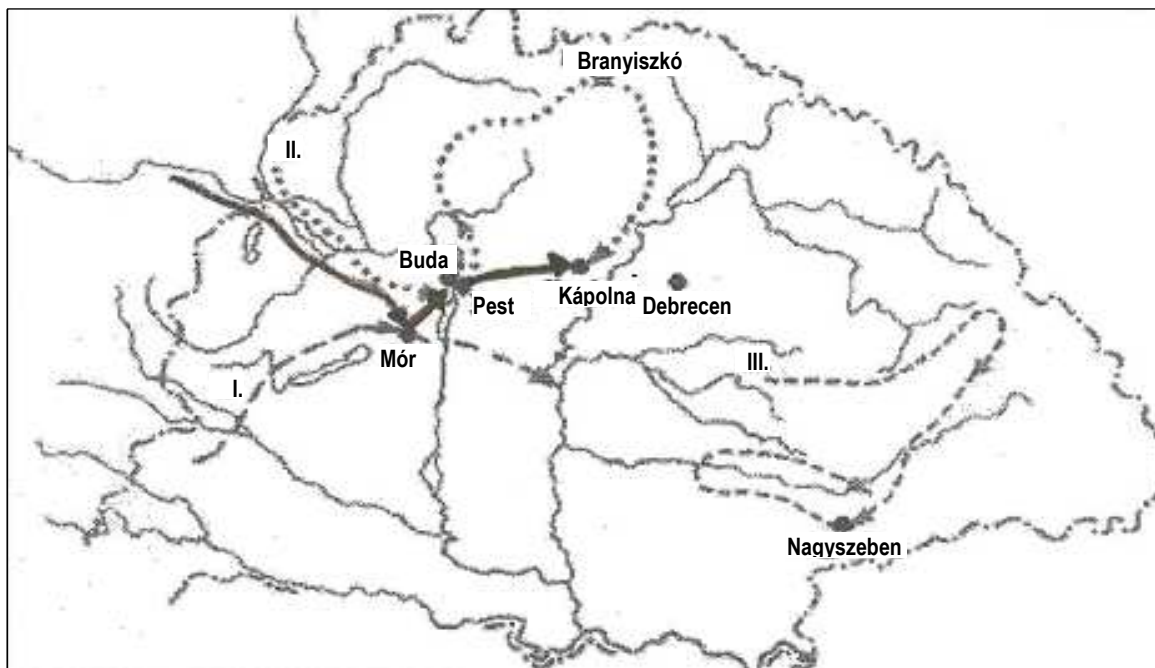
7. A térképvázlat alapján **döntsd el és jelöld a megfelelő szó aláhúzásával, hogy IGAZ vagy HAMIS a pákozdi csatáról szóló megállapítás!**



- A térképről egyértelműen leolvasható, hogy a csatát Székesfehérvár irányából Jellasics lovassági támadással kezdte.
- A magyarok ágyút dombvonulat védte.
- A magyarok ágyútűzzel fogadták az ellenséget.
- Délen népfelkelők támadtak Jellasicsra.
- A horvát sereg egy része Dinnyés felől sikertelenül kísérelte meg a magyarok hátba támadását.

IGAZ - HAMIS
IGAZ - HAMIS
IGAZ - HAMIS
IGAZ - HAMIS
IGAZ - HAMIS


8. **Tanulmányozd az udvar második támadásáról szóló térképvázlatot, majd oldd meg a hozzá kapcsolódó feladatokat!** (A feladatok a következő oldalon olvashatóak!)



a	b
c	d
e	
.../5	

<p>10. Fogalmazd meg a következő katonai és politikai események közötti összefüggést!</p> <ul style="list-style-type: none"> • kápolnai csata - olmützi alkotmány <p>.....</p> <p>.....</p> <ul style="list-style-type: none"> • tavaszi hadjárat - Függetlenségi Nyilatkozat <p>.....</p> <p>.....</p> <p>Fogalmazd meg a következő két politikai esemény közötti összefüggést!</p> <ul style="list-style-type: none"> • olmützi alkotmány - Függetlenségi Nyilatkozat <p>.....</p> <p>.....</p>	a	b
	c	
	.../3	
<p>11. Írd a következő idézetek alá, ki, mikor (milyen alkalomból, melyik esemény kapcsán) mondta a következőket? (Válaszodnak nem kell évszámot tartalmaznia.)</p> <p>A) „Hú magyar nemzetemnek szívből óhajtom boldogságát, mert abban találok föl a magamét is. Ami tehát ennek elérésére tőlem kívánt: nemcsak teljesítem, hanem királyi szavammal erősítve, ezennel át is adom neked, kedves öcsém, s általad az egész nemzetnek...”</p> <p>.....</p> <p>B) „Birodalmam valamennyi ellenségének erejét meg fogom törni. Tudni fogom a módját, hogyan teremtsék rendet.”</p> <p>.....</p> <p>C) „... leborulok a nemzet nagysága előtt, s csak azt mondom, annyi energiát a kivételben, mint amennyi hazafiságot tapasztaltam a megajánlásban, s Magyarországot a poklok kapui sem fogják megdönteni!”</p> <p>.....</p> <p>D) „A kocka elvettetett! Holnap átlépek a Drávát – a Rubicon lehetne, ha Caesar lennék....”</p> <p>.....</p> <p>E) „Uraim! A kormány engem ennek a hadseregnek a parancsnokává nevezett ki. Tudok jutalmazni, de tudok büntetni is. Aki engedelmeskedik, azt megjutalmazom, aki ellenszegül, azt főbe lövtem.”</p> <p>.....</p> <p>F) „ a brit kormánynak Magyarországról, csak mint az osztrák birodalom részéről van tudomása...”</p> <p>.....</p> <p>G) „Magyarország Felséged lábai előtt fekszik.”</p> <p>.....</p>	a	b
	c	d
	e	f
	g	h
	i	j
	k	l
	m	n
	.../14	

12. Nevezd meg, hogy a honvédsereg melyik alakulatának tagjait ábrázolják a számokkal jelölt képek!




1 2

3 4

5

a	b
c	d
e	
.../5	

13. (A) Adj címet a következő képeknek!



(B) Válaszd meg a következő kérdéseket!

Mikor történt a megtorlás?

Miért éppen ezen a napon?

.....

a	b
c	d
.../4	